

uitwerkbijlage

Naam kandidaat _____ Kandidaatnummer _____

Zoals de Waard is maakt ie zijn tenten

4 *Omcirkel in de onderstaande zinnen de juiste mogelijkheid.*

Vergeleken met het doek van de rest van de tent is het doek

van het grondzeil per vierkante meter

lichter

zwaarder


Daardoor wordt de berekende oppervlakte

kleiner

groter


Oplaadbare batterijen

6



Spiegel boven de open haard

9



Houd de dief

11 *Omcirkel in de onderstaande zinnen de juiste mogelijkheid.*

Als de deur geopend wordt gaat de magneet weg van het reedcontact.

Hierdoor wordt het reedcontact

geopend

gesloten

Hierdoor gaat er een stroom lopen door de basis.

Hierdoor wordt de transistor

wel

niet

geleidend.

Hierdoor gaat de zoemer

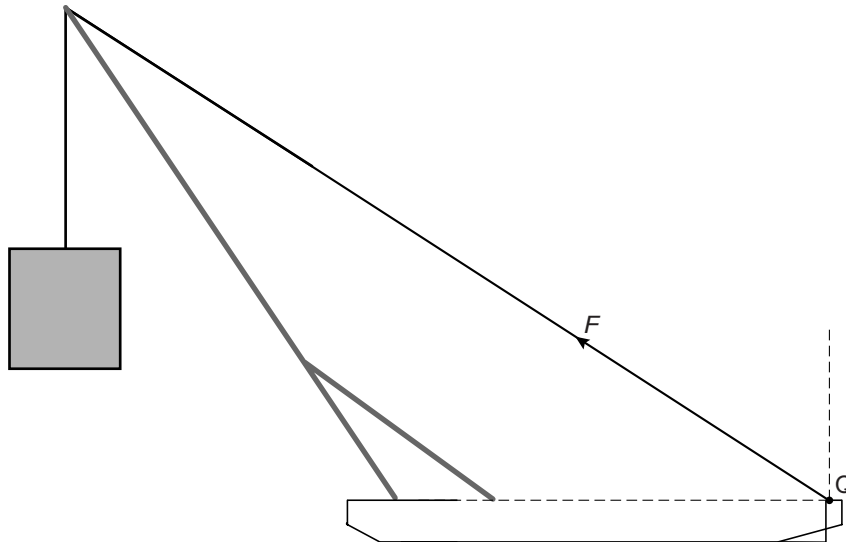
wel

niet

zoemen.

Fietsbrug

15



$$F = 2,0 \cdot 10^6 \text{ N}$$

Vul in:

De horizontale component van $F = \dots\dots\dots$ N