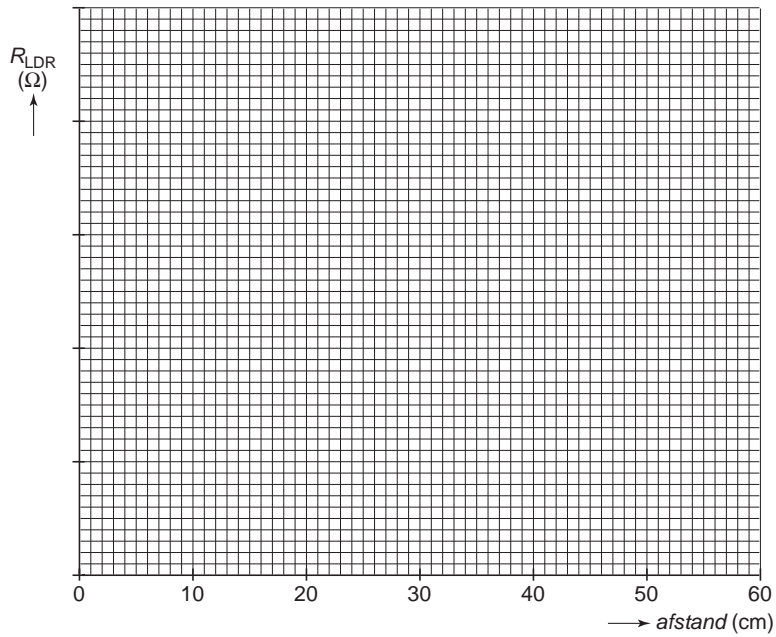


UITWERKBIJLAGE

Naam kandidaat _____ Kandidaatnummer _____

PRAKTISCHE OPDRACHT MET LDR

6



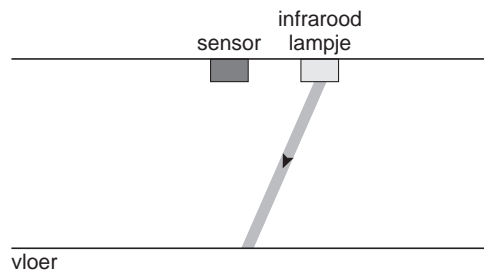
FOTOTOESTEL MET VIER LENZEN

12



ROBOKID

17



Conclusie:

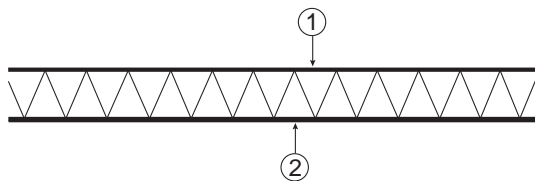
.....
.....

Uitleg:

.....
.....
.....

TORENKRAAN

23 Omcirkel in de onderstaande zinnen de juiste mogelijkheid.



In de bovenste buis 1 werkt een

trekkracht.
duwkracht.

In de onderste buis 2 werkt een

trekkracht.
duwkracht.