




DE AANGIFTE VAN MONIQUE

Bij de beantwoording van de vragen 30 tot en met 34 moet je soms gebruikmaken van de informatiebronnen 7, 8 en 9.

Bij deze opgave moet je gebruikmaken van het aangifteprogramma van de belastingdienst.

Monique van der Vaart werkt als vertegenwoordiger bij een speelgoedfabriek in haar woonplaats Coevorden. Ze heeft het hele jaar 2004 een eigen woning. Ze gaat haar belastingaangifte 2004 invullen.

-  *Open het aangifteprogramma. De aangifte van Monique wordt na enige tijd automatisch geopend.*
- 3p ○ **30** De persoonlijke gegevens van Monique zijn al ingevuld. Klik het scherm **Box 1: werk en woning** aan. Hierin moet je **twee** vinkjes zetten. (zie informatiebronnen 7, 8 en 9)
Sluit daarna af met Akkoord.
Een eventueel weergegeven mededeling van het programma kan je wegglikken.
Ga naar de twee aangevinkte schermen van box 1 en vul ze in.
Sluit de schermen steeds af met Akkoord.
- 1p ○ **31**  *Vervolgens zie je links op het scherm de overige mogelijke invulboxen.*
Monique hoeft niets in te vullen in
Box 1: andere inkomsten
Box 1: premies lijfrente e.d.
Box 2: aanmerkelijk belang
Box 3: sparen en beleggen
Klik deze boxen aan en geef telkens aan: 'Akkoord' of 'Nee', gevolgd door 'Akkoord.'
- Vul ook de overige programmaonderdelen in. Als geen gegevens bekend zijn, vul dan in voorkomende gevallen 'nee' in. Bekijk het scherm Overzicht.
Een eventueel weergegeven mededeling van het programma kan je wegglikken.
Hoeveel geld krijgt Monique van de belastingdienst terug of moet zij bijbetalen?
Noteer je antwoord.
- 1p ○ **32** Op een dag hoort Monique de bel en ziet tot haar schrik Gaston Starreveld staan. Ze heeft € 250.000 in de Postcodeloterij gewonnen. Ze denkt erover de prijs te gebruiken om de hypotheek in één keer af te lossen. Volgens haar broer is dat onverstandig.
→ Geef een argument waarom het onverstandig is de hypotheek volledig af te lossen.
- 1p ○ **33**  *Monique bekijkt opnieuw het blad eigen woning.*
Ze wil weten hoeveel belasting ze had moeten betalen als ze de prijs begin januari 2004 zou hebben gewonnen en de hele hypotheek dan zou hebben aflost.
Vul het juiste bedrag in. Laat Box 3 hierbij buiten beschouwing.
Bekijk opnieuw het scherm Overzicht.
Hoeveel geld krijgt zou Monique nu van de belastingdienst terugkrijgen of zou zij moeten bijbetalen?
Noteer je antwoord.

- 2p ○ 34 Monique weet nog van de economielessen dat de hypotheekrenteaftrek doorgaans denivellerend werkt. Ze vraagt zich af hoe dat ook al weer zat.
→ Leg uit hoe de hypotheekrenteaftrek denivellerend kan werken.

Beëindig nu het aangifteprogramma.

DE AANGIFTE VAN MONIQUE

Informatiebron 7

Jaaropgaaf 2004	tijdvak: 01-01 / 31-12
SoFinummer 0789.34.561	
inhoudingsplichtige	voor
Speelgoed Janssen Sportstraat 11 7742 BS Coevorden	Monique van der Vaart Rafaëlstraat 3 7741 SE Coevorden
Loon:	€ 34.992
Ingehouden loonheffing	€ 12.400
Arbeidskorting	€ 1.214

Informatiebron 8



Mevrouw M. van der Vaart
Rafaëlstraat 3
7741 SE Coevorden

Fiscale gegevens voor het belastingjaar 2004 van uw hypotheek nummer 105.962

Restant lening per 31-12-2004 € 137.500

Betaalde rente in 2004 € 6.874

Wanneer u bezwaar heeft tegen de inhoud van dit overzicht, kunt u deze schriftelijk kenbaar maken bij:

ABN AMRO
Onder vermelding: betreft fiscale gegevens en uw hypotheeknummer
Postbus 2998
1000 AB Amsterdam

DE AANGIFTE VAN MONIQUE

Informatiebron 9



Postbus 2
7740 AA Coevorden
Tel (0524) 59 85 98
Fax (0524) 59 85 55
info@coevorden.nl

WAARDEBESCHIKKING

M. van der Vaart
Rafaëlstraat 3
7741 SE Coevorden

Dagtekening: 24-02-2001

Op grond van de in 1995 in werking getreden Wet WOZ (waardering onroerende zaken) is de gemeente verplicht om van alle onroerende zaken, binnen haar gebied gelegen, de waarde te bepalen.

De wet WOZ schrijft voor dat de getaxeerde waarde van de onroerende zaak in de vorm van een beschikking aan de belanghebbende, voornamelijk eigenaren en gebruikers, wordt meegedeeld. Deze beschikking is de officiële opgave van uw gemeente van de waarde van hieronder beschreven onroerende za(a)k(en).






SPECIFICATIE		kennisgevingsnummer: 0000177241

Waardepeildatum:	01-01-1999	
Tijdvak beschikking:	01-01-2001 tot 01-01-2005	
Waardegegevens:		
Onroerende za(a)k(en)	WOZ.Objectnr.	Waarde
Rafaëlstraat 3	010600023163	€ 140.500

DEZE BESCHIKKING DIENT U ZORGVULDIG TE BEWAREN

DE TAART VAN CHAIM EN JURRE



Chaim en Jurre hebben iets te vieren. Samen gaan ze naar het warenhuis in het winkelcentrum op de hoek om taart te halen.

- 1p ○ 35  Open het vraagstuk over de taart van Chaim en Jurre. Bekijk fragment 1.
In het fragment zijn drie productiefactoren te zien of te horen.
→ Noem de drie productiefactoren en geef van elke productiefactor een voorbeeld uit het fragment.
-  Chaim en Jurre bekijken fragment 2.
Volgens Chaim wordt de appelkrumelvlaai op een arbeidsintensieve manier gemaakt. Het kan volgens hem veel kapitaalintensiever. "De taarten kunnen dan ook goedkoper worden geproduceerd", zegt Chaim. Jurre snapt hem niet. Chaim gaat het hem uitleggen.
- 1p ● 36 Hieronder staat een aantal gedachtestappen van de uitleg van Chaim.
1 de arbeidsproductiviteit stijgt
2 je hebt dan minder mensen nodig dan eerst
3 je krijgt kapitaalintensievere productie
- In welke van de onderstaande regels staat de uitleg in de juiste volgorde, zodat ze de gedachtegang van Chaim goed weergeven?
- A arbeid vervangen door kapitaal → 1 → 2 → 3 → goedkopere taarten
B arbeid vervangen door kapitaal → 2 → 1 → 3 → goedkopere taarten
C arbeid vervangen door kapitaal → 3 → 1 → 2 → goedkopere taarten
D arbeid vervangen door kapitaal → 3 → 2 → 1 → goedkopere taarten
- Het warenhuis bakt de appelkrumelvlaai niet zelf in de winkel. Ze hebben verschillende regionale bakkerijen die iedere dag vers gebak maken.
- 2p ○ 37  Bekijk opnieuw fragment 2.
Arbeidsverdeling heeft voor- en nadelen. Haal uit het fragment een nadeel en bedenk zelf een voordeel van arbeidsverdeling bij de productie van appelkrumelvlaai.
- 1p ○ 38  Bekijk fragment 3. Sluit daarna het fragment en open de bedrijfskolom.
Bakker Ferry vertelt over de hele grote bakkerij in Almere.
Sleep uitsluitend de **vijf** schakels **die je nodig hebt** en maak de bedrijfskolom van de taarten zoals deze **nu** is. Druk op de knop: 'antwoord' en noteer de antwoordcode op je uitwerkingenblad. Sluit de bedrijfskolom.
- 2p ○ 39  Bekijk fragment 4.
Daarin vertelt bakker Ferry dat hij ook de zaak van zijn ouders kon overnemen. Eén van de redenen om dat niet te doen, was dat hij dan dag en nacht zou moeten werken. Hij geeft daarna nog als reden dat 'je niet weet waar je aan toe bent.'
→ Noem twee omstandigheden waarvan de bakker nu wel weet waar hij aan toe is.


Beëindig nu dit vraagstuk.


HET WERKSTUK VAN GERRIT

Gerrit moet voor het vak economie een werkstuk maken over de financiën van de overheid. Op internet is hij terechtgekomen op de website van het ministerie van financiën.

- 1p ○ 40  *Open de website en bekijk het onderdeel Inkomsten.*
Gerrit komt het onderdeel BTW tegen, maar ook het onderdeel Accijns.
→ Waarom heft de overheid op bepaalde goederen accijns?
- 2p ○ 41  *Bekijk opnieuw het onderdeel Inkomsten.*
Bij het onderdeel over de BTW wordt een voorbeeld genoemd over het kopen van een cd.
Volgens Gerrit klopt dit voorbeeld niet.
→ Toon dit met een berekening aan.

Je kunt de website sluiten door rechtsboven het kruisje aan te klikken.


- 1p ○ 42  *Bekijk Excelwerkblad 1.*
Gerrit heeft de uitgaven en de inkomsten van de overheid op een rijtje gezet. Hij ziet dat er een groot verschil is tussen de uitgaven en de inkomsten.
→ Hoeveel moeten de inkomsten van de overheid minimaal stijgen om geen tekort meer te hebben? Bepaal dit met de schuifbalk.

- 1p ● 43  *Bekijk videofragment 1.*
Gerrit ziet op tv dat er veel kritiek is op het huidige kabinetsbeleid.
Volgens Wouter Bos praat het kabinet de burgers angst aan, zodat ze de hand op de knip houden. Dat is slecht voor de economie, want dan komen er meer ontslagen. De overheid zou juist meer moeten uitgeven!

Zet de onderstaande argumenten in de juiste volgorde om de stelling van Wouter Bos te onderbouwen.

- 1 de winst gaat dalen
- 2 de bedrijven behalen minder omzet
- 3 de bedrijven gaan bezuinigen

- A de mensen consumeren minder → 1 → 2 → 3 → werknemers worden ontslagen
B de mensen consumeren minder → 1 → 3 → 2 → werknemers worden ontslagen
C de mensen consumeren minder → 2 → 1 → 3 → werknemers worden ontslagen
D de mensen consumeren minder → 2 → 3 → 1 → werknemers worden ontslagen
E de mensen consumeren minder → 3 → 1 → 2 → werknemers worden ontslagen
F de mensen consumeren minder → 3 → 2 → 1 → werknemers worden ontslagen

- 1p ○ 44  *Bekijk nogmaals Excelwerkblad 1.*
- Gerrit en zijn vriendin Melek hebben Wouter Bos op tv gezien. Samen bekijken ze opnieuw Excelwerkblad 1. Gerrit zegt dat de overheid het beste meer geld uit kan geven aan onderwijs om de economie te stimuleren. Melek vindt dat het verhogen van de uitgaven voor sociale zaken en werkgelegenheid het beste is om de economie te stimuleren.
- Ben jij het met Melek of Gerrit eens?
Geef voor je mening een economisch onderbouwd argument.

Dit was de laatste vraag van het deel waarbij de computer wordt gebruikt.