

Bijlage VMBO-GL en TL  
**2005**

tijdvak 2

**ECONOMIE CSE GL EN TL**

## DOZENSCHUIVERS

### informatiebron 1

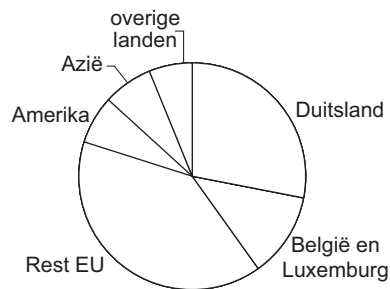
#### Waarde van de Nederlandse uitvoer van goederen in 2002 (x miljard euro)

	uitvoer van in Nederland geproduceerde goederen	wederuitvoer
landbouw- en visserijproducten	10,8	3,7
voedings- en genotmiddelen	27,7	2,8
aardolieproducten	10,6	2,2
chemie, rubber en kunststoffen	28,5	13,2
elektrotechnische producten	9,5	42,2
overige goederen	46,9	28,4
	===== +	===== +
totaal	134,0	92,5

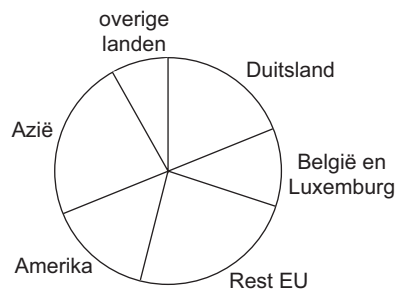
### informatiebron 2

#### Wederuitvoer van goederen in Nederland (2002)

Waar gaan de goederen naar toe?



Waar komen de goederen vandaan?



**informatiebron 3**

**Stijging consumentenprijzen ten opzichte van voorgaande periodes in procenten**

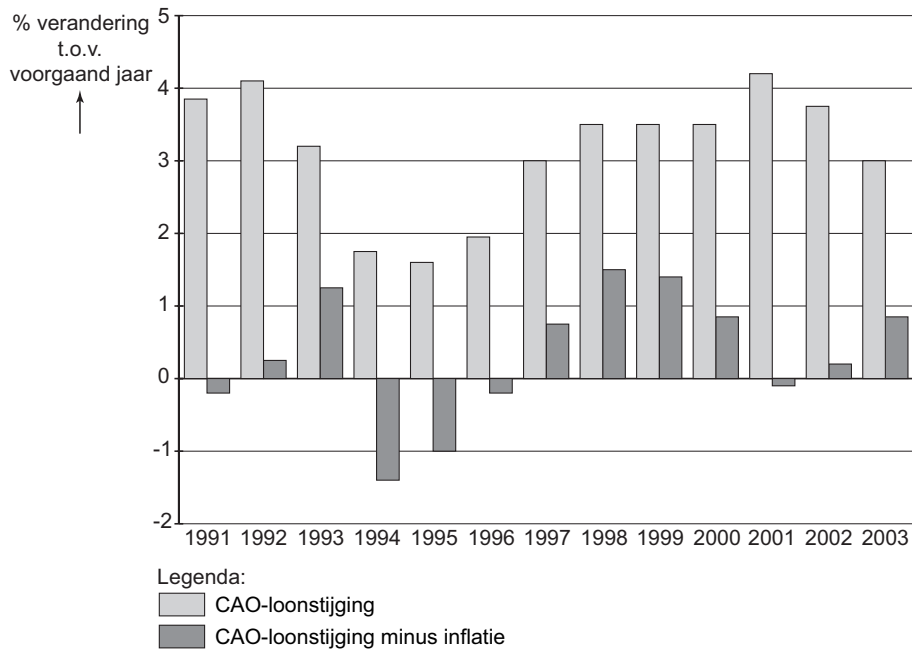
Bestedingen aan	2001	2002	2003	
			1 <sup>e</sup> kwartaal	2 <sup>e</sup> kwartaal
voedingsmiddelen	7,0	3,6	1,2	3,7
alcoholhoudende dranken en tabak	6,7	5,0	6,1	4,2
kleding en schoeisel	1,8	3,1	-3,6	-2,9
huisvesting, water, gas en elektra	5,0	3,3	3,6	3,7
stoffering en huish. apparaten	5,4	3,8	2,9	2,3
gezondheid	2,9	2,5	2,3	1,7
vervoer	2,7	2,0	4,8	2,0
communicatie	-0,9	2,2	1,5	2,3
recreatie en cultuur	3,2	1,8	0,9	0,2
onderwijs	3,3	12,0	3,2	4,1
horeca	5,8	6,6	3,1	2,3
diverse goederen en diensten	4,5	5,1	3,3	2,9
consumptiegebonden belastingen/ overheidsdiensten	1,6	2,1	4,3	4,3
consumptie in het buitenland	2,9	3,0	4,2	2,6
Totaal 'boodschappenmandje' bestedingen consument (CPI)	4,2	3,2	2,6	2,3

**Stijging kostprijs horeca ten opzichte van voorgaande periodes in procenten**

	2001	2002	2003	
			1 <sup>e</sup> kwartaal	2 <sup>e</sup> kwartaal
Kostprijsindicator horeca (HEKPI)	6,5	4,3	3,2	3,5


informatiebron 4

Ontwikkeling CAO-lonen per uur, procentuele stijging ten opzichte van het voorgaande jaar



informatiebron 5

Cartoon over loonmatiging



bron: Dagblad van het Noorden; tekenaar: Tom Janssen

**informatiebron 6****Resultatenrekeningen van Mulder Sport (€)**

<b>2000</b>	
opbrengst verkopen	650.000
inkoopwaarde	422.500
huisvestingskosten	125.000
overige bedrijfskosten	70.000
nettowinst	32.500

<b>2001</b>	
opbrengst verkopen	700.000
inkoopwaarde	455.000
huisvestingskosten	128.000
overige bedrijfskosten	80.000
nettowinst	37.000

<b>2002</b>	
opbrengst verkopen	750.000
inkoopwaarde	487.500
huisvestingskosten	130.000
overige bedrijfskosten	85.000
nettowinst	47.500

<b>2003</b>	
opbrengst verkopen	1.000.000
inkoopwaarde	630.000
huisvestingskosten	220.000
overige bedrijfskosten	90.000
nettowinst	60.000

<b>2004</b>	
opbrengst verkopen	1.050.000
inkoopwaarde	640.000
huisvestingskosten	220.000
overige bedrijfskosten	100.000
nettowinst	90.000

informatiebron 7



Voor onze afdeling verkoop zoeken wij z.s.m.:

**Fulltime medewerker afdeling verkoop (M / V)**

**Functie-inhoud**

- u werkt mee aan het opzetten van advertentiecampagnes.
- u bezoekt vakbeurzen om de export te vergroten.

**Voor de functie geldt:**

- relevante opleiding op mbo-niveau
- (ruime) ervaring in een soortgelijke functie
- 'iets met fietsen hebben'
- goede beheersing van de Engelse taal

**Wij bieden:**

- goed salaris volgens de geldende CAO
- goede secundaire arbeidsvoorwaarden
- prettige werksfeer

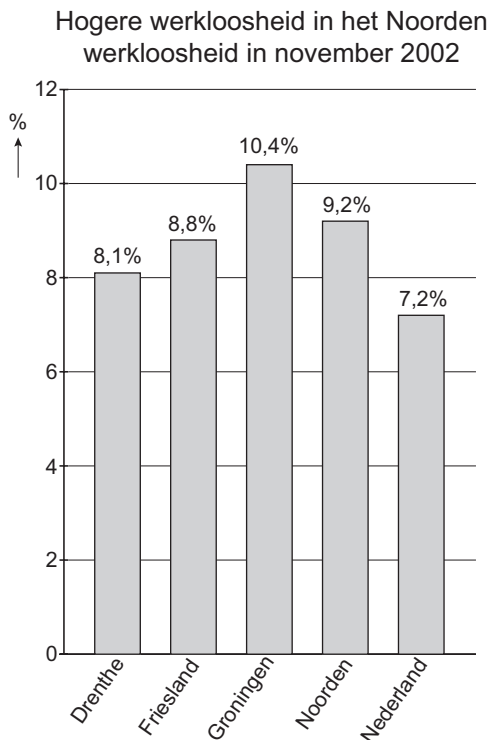
U kunt uw sollicitatie met C.V.  
sturen naar:  
**Koninklijke Gazelle B.V.**  
**Postbus 1**  
**6950 AA DIEREN**

informatiebron 8

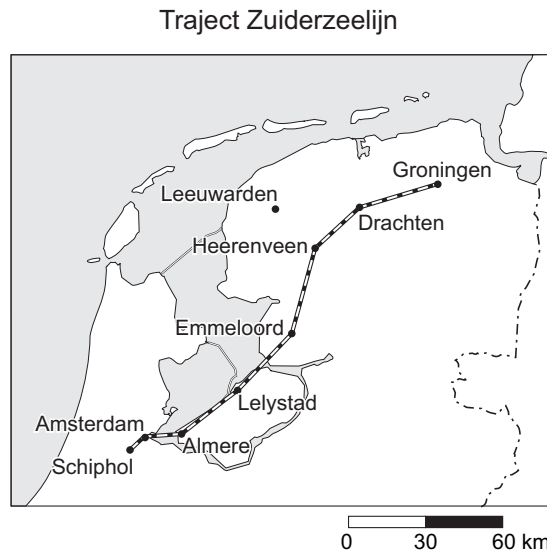
Zaterdag 14 december 2002  
 pagina 1 speciale weekendbijlage

**DAGBLAD VAN HET NOORDEN**

Vandaag de aangekondigde speciale weekendbijlage over de werkloosheid in ons hoge Noorden. Deze bevat cijfers over de stand van zaken. Verder worden er twee mogelijkheden besproken om de werkloosheid te bestrijden. Als eerste de aanleg van de Zuiderzeelijn. Als tweede komt professor Oosterhaven aan het woord. "Het Noorden kiest zelf voor de hoge werkloosheid", is één van zijn prikkelende uitspraken.



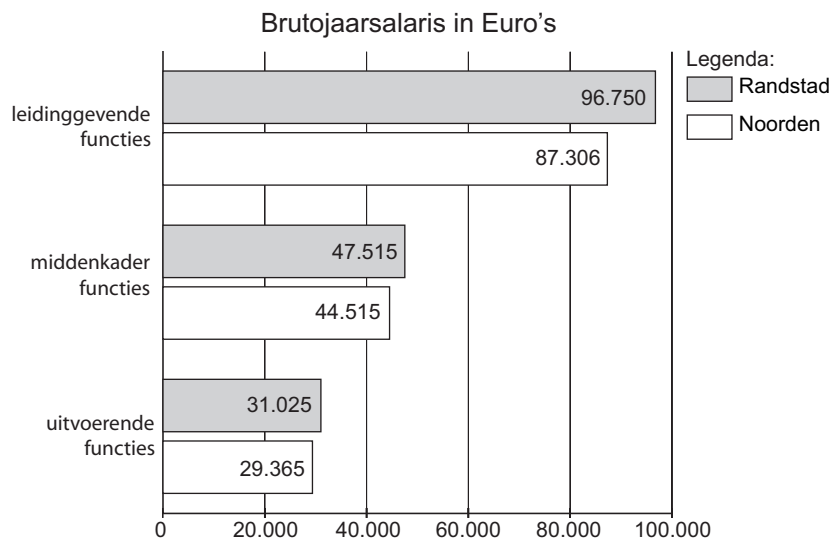
Nederland heeft een beroepsbevolking van 7.444.000. Van dit aantal woont 10% in het Noorden.



**Aanleg Zuiderzeelijn**

Eén van de mogelijkheden iets aan de hoge werkloosheid in het Noorden te doen, is de aanleg van de Zuiderzeelijn. Het betreft hier een snelle verbinding tussen het Noorden en de Randstad. De Zuiderzeelijn is voornamelijk bedoeld voor het personenvervoer. Uit onderzoek blijkt dat de aanleg van de Zuiderzeelijn positieve gevolgen heeft voor de werkgelegenheid in het Noorden.

## Lonen in Noorden 7 procent lager dan in Randstad



*Professor Oosterhaven legt het nog één keer uit:*

### **'Lonen in het Noorden moeten nóg verder omlaag.'**

“Het Noorden heeft de keuze tussen hogere werkloosheid of lagere lonen. Op landelijk niveau is bijna iedereen wel overtuigd van loonmatiging. Het argument is dat zo de concurrentiepositie verbetert. Voor het Noorden is het effect op de werkgelegenheid nog gunstiger, want afzet in de rest van Nederland is voor het Noorden ook export.”



## ouders tegemoetkomen?

### informatiebron 10

#### Regeling tegemoetkoming studiekosten 2004-2005

Via de Informatie Beheergroep (IB-Groep) kunt u voor sommige kosten die u voor schoolgaande kinderen moet maken, een tegemoetkoming krijgen.

Een tegemoetkoming kan bestaan uit twee delen:

- een tegemoetkoming in de schoolkosten
- een tegemoetkoming in het lesgeld of cursusgeld

Afhankelijk van het belastbaar inkomen van u en uw partner (het gezamenlijk belastbaar inkomen) kunt u een tegemoetkoming krijgen die

- maximaal is: dan moet het belastbaar inkomen niet hoger zijn dan € 25.748,40
- gedeeltelijk of nul is: als het belastbaar inkomen hoger is dan € 25.748,40 geldt:  
De totale tegemoetkoming wordt dan verminderd met de uitkomst van de berekening:  
(belastbaar inkomen – € 25.748,40) × 0,3

#### Tabel met de maximale bedragen per schooljaar

Soort onderwijs		Tegemoetkoming in de schoolkosten	Tegemoetkoming in het lesgeld of cursusgeld
Voortgezet onderwijs	vmbo 1 t/m 4	€ 517,16	€ 885
	havo/vwo 1 t/m 3	€ 586,92	€ 885
	havo 4 en 5		
	vwo 4 t/m 6		
Voortgezet speciaal onderwijs		-	€ 885
MBO		€ 866,44	€ 885

### informatiebron 11

#### Uitbetaling van de tegemoetkoming studiekosten

De tegemoetkoming in de schoolkosten wordt gelijk verdeeld in twee termijnen op uw rekening gestort: in augustus en in februari. De tegemoetkoming in het lesgeld wordt **niet aan u** uitbetaald. Deze wordt door de IB-groep verrekend met het te betalen lesgeld.

# JE VERDIENDE LOON

## informatiebron 12

### Voorbeeldloonstrookje

		BEDR/ADM 0001/001	PERIODE 01/0	
		DATUM 31/01/2003	VOLGNR. 2	
			RUNNR. 12	
		PERSNR. 9999	CAO-KODE 98	
		AFDELING	TABEL WIT	
		SALARIS 2000,00	SVW-GROEP A	
		UURLOON 13,19	LH/HK J/J	
		WER. MIN. LOON 1249,20	ZFW/ZW J/J	
		GEB. DATUM	WW/WAO J/J	
		IN DIENST 01/01/2000/	BYZ. AFTR. N	
		UIT DIENST	PERC. BT 37,95	
SOFI-NR. 1234.56.782				
NOVEMBER		LOONTIJDVAK	MAAND	
		DAGEN	GEWERKT ZIEK SVW	
		PERIODE	23,00 23,00	
		CUMULATIEF	23,00 23,00	
220	SALARIS	2000,00	2000,00	TAB/SVW
451	PENSIOENPREMIE	86,93-	86,93-	TAB/SVW
490	SPAARLOON		51,08-	TAB/SVW
498	FIDC. VEREFF. SVW		93,71	TAB
		-----	-----	
		1913,07	1955,72	
	LOONHEFFING TABEL OVER	1955,72	435,41-	
	PREMIE ZFW 1,700% OVER	1861,99	31,65-	
	PREMIE WW 5,800% OVER	550,99	FRAN. 1311,00	
			31,95-	
		-----		
		NETTO	1414,06	
REKENINGNUMMER Postbank		88776655	1362,98	
REKENINGNUMMER Postbank		3450543	51,08	
		LOON SVW	1861,99	FR
		PREMIE ZFW	31,95	
		PREMIE WW	31,95	