

- **Meerkeuzevragen**

Schrijf alleen de hoofdletter van het goede antwoord op.

EEN NIEUWE WASMACHINE

Bij de beantwoording van de vragen 1 tot en met 5 moet je soms gebruikmaken van informatie 1 tot en met 3 in de bijlage.

Ella Frieling heeft een andere wasmachine nodig. Na twaalf jaar trouwe dienst heeft haar oude wasmachine het begeven. Ze ziet de folder van Electrohuis.

Gebruik informatie 1.

- 2p ○ 1 Electrohuis gebruikt een aantal marketinginstrumenten om wasmachines te verkopen. Het bedrijf voert promotiebeleid door een reclamefolder uit te geven.
→ Noem nog twee **andere** marketinginstrumenten **en** leg uit hoe Electrohuis deze in haar folder gebruikt.

- 1p ● 2 Op 8 februari bekijkt Ella de folder van Electrohuis om een wasmachine uit te zoeken. Op 10 februari bestelt ze in de winkel de wasmachine van haar keuze. Ze sluit alleen de standaardgarantie af. Op 22 februari wordt de wasmachine bezorgd en op 24 februari betaalt Ella de rekening.
Wanneer is de koop gesloten?
A op 8 februari
B op 10 februari
C op 22 februari
D op 24 februari

Gebruik informatie 2 voor de vragen 3 en 4.

- 1p ○ 3 Na 14 maanden gaat het verwarmingselement van de nieuwe wasmachine kapot. Ella gaat naar Electrohuis en vraagt om een gratis reparatie. "Helaas," zegt de verkoper, "in onze garantievoorwaarden kunt u lezen dat"
→ Schrijf de rest van het antwoord van de verkoper op.

- 1p ● 4 Hoe Ella thuis met de wasmachine omgaat, kan ook een argument zijn voor de verkoper om een gratis reparatie van het verwarmingselement te weigeren.
Er zijn drie mogelijke situaties:
1 Henk, de man van Ella, heeft zelf geprobeerd het element te repareren;
2 Ella gebruikt de wasmachine drie keer per week;
3 Ella laat de wasmachine alleen op goedkope nachtstroom draaien.
In welke situatie mag de verkoper gratis reparatie weigeren?
A situatie 1
B situatie 2
C situatie 3

Gebruik informatie 3.

- 1p ○ 5 Ella heeft de wasmachine normaal gebruikt en geen dingen gedaan die volgens de garantiebepalingen niet mogen. Zij vindt dat Electrohuis als verkoper de reparatie gratis moet uitvoeren. Electrohuis zegt dat ze dan maar extra garantie had moeten bijkopen. Ella legt de zaak voor aan de Geschillencommissie. Die geeft haar gelijk.
→ Welk argument zal de Geschillencommissie gebruiken om Ella gelijk te geven?

EEN NIEUWE WASMACHINE

informatie 1 Uit de folder van Electrohuis

  adviesprijs: € 499,- bij ons: € 349,-	  adviesprijs: € 499,- bij ons: € 419,-
<ul style="list-style-type: none">● 1400 toeren● fijnwas en wolprogramma● spoelstop● grote vulopening	<ul style="list-style-type: none">● 1400 toeren● inhoud 5 kilogram● energieklassen A

Nu bij het nieuwe pand van Electrohuis aan de Witlokkade:
gratis parkeergelegenheid voor 50 auto's!

informatie 2 Uit de garantiebepalingen van Electrohuis

Garantie

Electrohuis garandeert dat de door Electrohuis geleverde bestellingen voldoen aan de eisen van bruikbaarheid, betrouwbaarheid en levensduur zoals deze door partijen bij de koopovereenkomst in redelijkheid zijn bedoeld. Standaard krijgt u 1 jaar garantie op uw aankopen. Deze garantie geldt niet in geval het gebrek is te wijten aan nagelaten verzorging, of opzettelijke beschadiging, of onoplettendheid. Bovendien vervalt de aanspraak op garantie indien anderen dan Electrohuis zonder toestemming van Electrohuis herstel- of andere werkzaamheden aan het product hebben gepleegd.

U kunt de garantietermijn verlengen tot 5 jaar. Verlenging van de garantie tot 5 jaar kunt u alleen in de winkels van Electrohuis afsluiten.

informatie 3 Bewerkt op basis van het Nieuw Burgerlijk Wetboek: Boek 7; afdeling 1

7.1.1.4. Consumentenkoop

Onder consumentenkoop wordt verstaan: koop met betrekking tot een roerende zaak, die wordt gesloten door een verkoper die handelt in de uitoefening van een beroep of een bedrijf en een koper die niet handelt in de uitoefening van een beroep of een bedrijf.

7.1.1.7. Overeenkomst

De afgeleverde zaak moet aan de overeenkomst beantwoorden. Een zaak beantwoordt niet aan de overeenkomst indien zij niet de eigenschappen bezit die voor een normaal gebruik daarvan nodig zijn.

KNIBBEL, KNABEL, KNUISJE

Bij de beantwoording van de vragen 6 tot en met 11 moet je soms gebruikmaken van informatie 4 en 5 in de bijlage.

Jan Huizinga woont in Almere. Hij woont alleen, is niet gehuwd en heeft geen kinderen. Jan woont in een eigen woning die hij in 1998 kocht met een hypothecaire lening. In 2003 bedraagt de hypotheekschuld van Jan € 185.000 en heeft zijn woning een WOZ-waarde van € 270.000. Jan denkt dat eigenaren van woningen heel wat steentjes bijdragen aan de belastingontvangsten in Nederland: bijvoorbeeld extra inkomstenbelasting vanwege het eigenwoningforfait.

- 1p ● 6 Wat is een **ander** voorbeeld van een belasting die eigenaren van woningen in Nederland betalen?
- A dividendbelasting
 - B houderschapsbelasting
 - C onroerende zaakbelasting
 - D vennootschapsbelasting

Gebruik informatie 4.

- 1p ● 7 Hoe hoog is het eigenwoningforfait voor Jan in 2003?
- A € 1.480
 - B € 2.160
 - C € 7.800
 - D € 14.800
 - E € 21.600

Gebruik informatie 5 voor de vragen 8 en 9.

- 3p ○ 8 Over het jaar 2003 bedraagt het belastbaar inkomen van Jan € 39.588 en aan heffingskortingen heeft hij recht op € 5.500.
→ Hoeveel belasting (inkomstenbelasting en premies volksverzekeringen) moet Jan over 2003 betalen? Laat de berekening zien.

- 1p ● 9 Jan wordt nieuwsgierig en wil wel eens weten welke financiële gevolgen een eigen huis met hypotheek heeft. Als Jan geen koopwoning zou hebben maar een huurwoning, zou zijn belastbaar inkomen (box 1) € 1.960 hoger zijn. Dat heeft te maken met het eigenwoningforfait en met de hypotheekrente. Hoe groot is het belastingvoordeel dat Jan heeft in verband met de eigen woning?
- A € 645
 - B € 752
 - C € 823
 - D € 1.019
 - E € 1.960

Jan leest in een krant van december 2002:

PvdA snijdt in aftrek hypotheekrente

Van onze verslaggeefster

DEN HAAG - De PvdA wil de hypotheekrenteaftrek van mensen in de hoogste inkomensgroep verminderen. Het partijbestuur heeft het voorstel van kandidaat-lijsttrekker Wouter Bos in zijn verkiezingsmanifest overgenomen. Het voorstel van Bos houdt in dat de hypotheekrenteaftrek maximaal 42% mag zijn. Van de opbrengst wil de PvdA starters op de woningmarkt helpen. De vermindering geldt alleen voor nieuwe hypotheeken.

- 1p ● 10 Jan is het niet eens met de PvdA en denkt dat dit voorstel juist **slecht** is voor de starters op de woningmarkt: de mensen die voor de eerste keer een eigen woning willen kopen. Hieronder staan enkele economische verschijnselen:
- 1 De netto woonlasten van de hogere inkomens worden hoger.
 - 2 Er is minder vraag naar dure koopwoningen, dus te weinig doorstroming.
 - 3 Het aanbod van goedkopere koopwoningen groeit te langzaam.
- In welke van de onderstaande regels staan de verschijnselen in een zodanige volgorde dat ze de gedachtegang van Jan goed weergeven?
- A** invoering PvdA voorstel → 1 → 2 → 3 → nadeel voor starters op de woningmarkt
B invoering PvdA voorstel → 1 → 3 → 2 → nadeel voor starters op de woningmarkt
C invoering PvdA voorstel → 2 → 1 → 3 → nadeel voor starters op de woningmarkt
D invoering PvdA voorstel → 2 → 3 → 1 → nadeel voor starters op de woningmarkt
E invoering PvdA voorstel → 3 → 1 → 2 → nadeel voor starters op de woningmarkt
F invoering PvdA voorstel → 3 → 2 → 1 → nadeel voor starters op de woningmarkt
- 2p ○ 11 Voor Jan levert dit voorstel van de PvdA géén financieel nadeel op.
→ Noem hiervoor de twee redenen.

KNIBBEL, KNABBEL, KNUISJE

informatie 4 Belastingen 2003: het eigenwoningforfait

WOZ-waarde meer dan	maar niet meer dan	forfait
€ 0	€ 12.500	€ 0
€ 12.500	€ 25.000	0,30% van de WOZ-waarde
€ 25.000	€ 50.000	0,45% van de WOZ-waarde
€ 50.000	€ 75.000	0,60% van de WOZ-waarde
€ 75.000		0,80% van de WOZ-waarde, maar ten hoogste € 7.800

informatie 5 Belastingen 2003: schijventarief inkomstenbelasting

tariefpercentage over belastbaar inkomen	vanaf	tot en met	heffing over het totaal van de schijven
32,90%	€ 0	€ 15.883	€ 5.225
38,40%	€ 15.884	€ 28.850	€ 10.204
42%	€ 28.851	€ 49.464	€ 18.862
52% over de resterende euro's	€ 49.465		

MALI

Bij de beantwoording van de vragen 12 tot en met 16 moet je soms gebruikmaken van informatie 6 in de bijlage.

<p>Mali behoort tot de armste landen van de wereld. Ongeveer 64% van de bevolking leeft onder de armoedegrens. Mali is voor wat betreft de uitvoer afhankelijk van katoen.</p>	<div style="text-align: center;"> <h2>n(o)vib</h2> <hr/> <p>Datum 12-12-2002 Tijd 15:05:36</p> <hr/> <table style="width: 100%; border-collapse: collapse;"> <thead> <tr> <th style="width: 80%;"></th> <th style="text-align: right;">EURO</th> </tr> </thead> <tbody> <tr> <td>Pak kaarsen rood</td> <td style="text-align: right;">01.99</td> </tr> <tr> <td>Pak kaarsen groen</td> <td style="text-align: right;">01.99</td> </tr> <tr> <td>Kerstballen, 6 st.</td> <td style="text-align: right;">07.49</td> </tr> <tr> <td colspan="2"> </td> </tr> <tr> <td>1 maand onderwijs voor een kind in Mali</td> <td style="text-align: right;">01.52</td> </tr> <tr> <td>TOTAAL</td> <td style="text-align: right;">12.99</td> </tr> </tbody> </table> <p>Geef een kerstboodschap mee. Steun Novib</p> <p>WWW.NOVIB.NL</p> <hr/> <p>HOE GROOT IS JOUW WERELD?</p> </div>		EURO	Pak kaarsen rood	01.99	Pak kaarsen groen	01.99	Kerstballen, 6 st.	07.49			1 maand onderwijs voor een kind in Mali	01.52	TOTAAL	12.99
	EURO														
Pak kaarsen rood	01.99														
Pak kaarsen groen	01.99														
Kerstballen, 6 st.	07.49														
1 maand onderwijs voor een kind in Mali	01.52														
TOTAAL	12.99														
<p><i>De hiernaast afgebeelde kassabon stond op een poster van de najaarscampagne van NOVIB.</i></p>															

Gebruik informatie 6.

- 1p 12 Nederland is welvarender dan Mali. Om de welvaart tussen landen te vergelijken wordt soms gebruik gemaakt van het nationaal inkomen per hoofd van de bevolking. Volgens informatie 6 is dat in Nederland \$ 25.703.
→ Hoe groot is in Mali het nationaal inkomen per hoofd van de bevolking?
Laat de berekening zien.

- 2p 13 Het gebruik van het nationaal inkomen per hoofd van de bevolking, om de welvaart in Mali te vergelijken met de welvaart in Nederland, heeft nadelen.
→ Noem twee nadelen.

Gebruik informatie 6.

- 1p 14 De handelspositie met het buitenland is voor veel ontwikkelingslanden slecht.
→ Hoe groot is het tekort van Mali wat betreft de handel met het buitenland?
Laat de berekening zien.

- 1p 15 Mali heeft een monocultuur. Wat is een kenmerk van een monocultuur?
A De export brengt maar weinig geld op.
B De export is extra gevoelig voor prijsschommelingen.
C De import is extra gevoelig voor prijsschommelingen.
D De import kost veel geld.

- 2p 16 → Wat wil NOVIB met haar poster voor Mali bereiken: noodhulp of structurele hulp?
Leg je antwoord uit met behulp van het begrip 'economische groei'.

MALI**informatie 6**

NEDERLAND		MALI
16.068.000	<i>aantal inwoners</i>	11.340.000
4,31	<i>kindersterfte per 1000</i>	119,63
\$ 413 miljard	<i>nationaal inkomen</i>	\$ 9,2 miljard
\$ 214 miljard	<i>export</i>	\$ 575 miljoen
\$ 195 miljard	<i>import</i>	\$ 600 miljoen
8,7 miljoen	<i>internetgebruikers</i>	10.000
\$ 132,8 miljard	<i>uitgaven overheid</i>	\$ 3,2 miljard
\$ 129,3 miljard	<i>inkomsten overheid</i>	\$ 2,9 miljard

GOOCHELEN MET CIJFERS

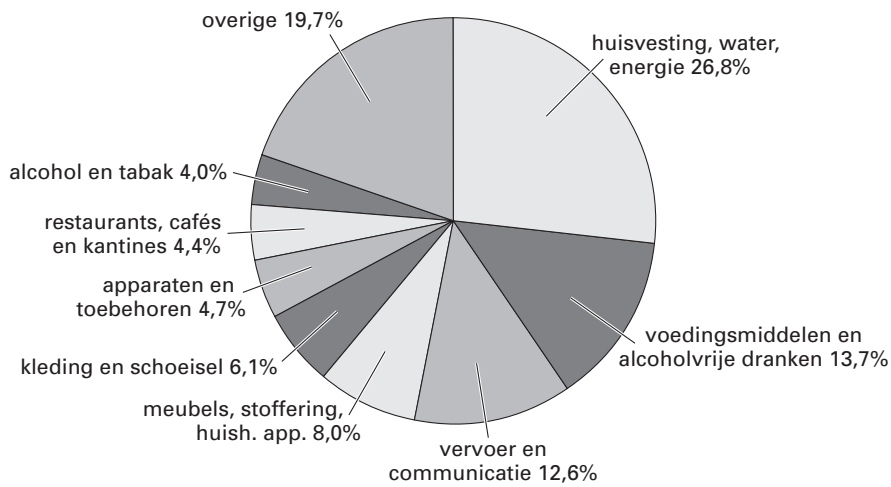
Bij de beantwoording van de vragen 17 tot en met 20 moet je soms gebruikmaken van informatie 7 en 8 in de bijlage.

Het Centraal Bureau voor de Statistiek (CBS) berekent het inflatiecijfer. Het CBS doet daarvoor onderzoek naar de manier waarop wij ons besteedbaar inkomen verdelen over de uitgaven aan verschillende producten en diensten. Zo komt het CBS aan de wegingsfactoren voor een gemiddeld gezin, die zijn afgebeeld in informatie 7. Mijnheer Van der Laan, een alleenstaande AOW-er, vindt dat het CBS de verschillende onderdelen van de uitgaven **anders** moet wegen voor AOW-ers dan voor een gemiddeld gezin.

- 2p ○ **17** Prijsverhogingen van verschillende producten hebben niet hetzelfde effect op het jaarlijkse budget van een gezin.
→ Leg uit waarom een prijsverhoging van € 0,20 op een literpak melk méér effect heeft op het gezinsbudget dan een prijsverhoging van € 20 op een koelkast.
- Gebruik informatie 7.*
- 1p ● **18** In een jaar zijn de prijzen van
- huisvesting, water en energie met 3% gestegen;
 - alcohol en tabak met 5% gestegen;
 - alle andere zeven artikelgroepen met 4% gestegen.
- De inflatie in dat jaar was
- A** minder dan 4%.
B precies 4%.
C méér dan 4%.
- Gebruik informatie 8.*
- 2p ○ **19** → Is het aandeel in procenten van de artikelgroep huisvesting, water en energie voor Van der Laan hoger of lager dan voor een gemiddeld gezin? Laat de berekening zien.
- 1p ○ **20** Een andere weging bij de berekening van het inflatiecijfer kan belangrijk zijn voor Van der Laan. Zijn pensioen wordt namelijk ieder jaar aangepast aan de inflatie.
→ Waarom kan een te laag berekend inflatiecijfer nadelig zijn voor Van der Laan?

GOOCHELEN MET CIJFERS

informatie 7 Aandeel in procenten van de 9 artikelgroepen in de gezinsconsumptie



informatie 8 Gemiddelde maanduitgaven van de heer Van der Laan

huisvesting, water, energie	€ 373	totaal: € 749 per maand
voedingsmiddelen en alcoholvrije dranken	106	
vervoer en communicatie	75	
meubels, stoffering, huish. app.	38	
kleding en schoeisel	55	
apparaten en toebehoren	22	
restaurants, cafés en kantines	5	
alcohol en tabak	0	
overige	75	

VOOR WAT HOORT WAT

Bij de beantwoording van de vragen 21 tot en met 25 moet je soms gebruikmaken van informatie 9 in de bijlage.

De Nederlandse onderneming TPG wil mensen in ontwikkelingslanden helpen. Op die manier laat TPG zien dat de onderneming oog heeft voor de armoede in de wereld. Tegelijkertijd heeft TPG er zelf ook voordeel van. Lees het volgende krantenbericht:

TPG steekt €5 miljoen in Wereldvoedselprogramma

TPG heeft een contract getekend om gedurende minimaal vijf jaar het Wereldvoedselprogramma (WFP) te sponsoren. Per jaar zal € 5 miljoen beschikbaar worden gesteld. Naast contant geld gaat dat in de vorm van het inzetten van TPG-personeel en de levering van kennis en systemen in de strijd tegen honger.

- 1p ● **21** Ontwikkelingslanden kunnen moeilijk zelfstandig uit de problemen komen. Ze zitten in een vicieuze cirkel: de problemen beginnen en eindigen met een laag inkomen. Hieronder staan enkele tussenstappen:
- 1 lage productie
 - 2 weinig bestedingen
 - 3 weinig werkgelegenheid
- In welke van de onderstaande regels staan de tussenstappen in een zodanige volgorde dat ze de vicieuze cirkel van een ontwikkelingsland vormen?
- A** laag inkomen → 1 → 2 → 3 → laag inkomen
B laag inkomen → 1 → 3 → 2 → laag inkomen
C laag inkomen → 2 → 1 → 3 → laag inkomen
D laag inkomen → 2 → 3 → 1 → laag inkomen
E laag inkomen → 3 → 1 → 2 → laag inkomen
F laag inkomen → 3 → 2 → 1 → laag inkomen
- 2p ○ **22** De samenwerking van TPG met het WFP zal zich met name richten op: noodvoedselhulp, hulp bij de verspreiding van goederen en hulp bij voedsel-op-school-campagnes. Van de toegezegde 5 miljoen euro wordt 4 miljoen euro **niet in geld** maar in de vorm van personeel en materialen gegeven.
- Noem voor de ontwikkelingslanden eerst een **voordeel** en daarna een **nadeel** van het feit dat TPG een deel van de hulp niet in geld geeft.
- Gebruik informatie 9 voor de vragen 23 en 24.*
- 1p ○ **23** Een woordvoerder van het WFP zegt: "Door de samenwerking met TPG op het gebied van transport kunnen wij efficiënter werken."
- Leg uit waarom het WFP met behulp van TPG efficiënter kan werken.
- 2p ○ **24** → Hoeveel procent van de totale omzet steekt TPG per jaar in het WFP?
Laat de berekening zien en rond de uitkomst af op twee decimalen.
- 1p ○ **25** De deelname van TPG aan het ontwikkelingswerk en de samenwerking met het WFP levert TPG zelf ook voordelen op.
- Geef een voorbeeld van een voordeel voor TPG.

VOOR WAT HOORT WAT

informatie 9 Van het internet:

	<p>Wie of wat is TPG? TPG N.V. is wereldwijd een specialist in post en vervoer onder de namen TNT en Koninklijke TPG Post. De onderneming heeft ruim 148.000 medewerkers in 60 landen en is in meer dan 200 landen actief. De jaaromzet bedraagt € 11,2 miljard.</p>
<p>Wie of wat is WFP? Het WFP (World Food Program) levert noodvoedselhulp voor mensen in crisissituaties, zoals oorlog en natuurrampen. In 2001 bracht het WFP voedsel naar 77 miljoen mensen in 82 landen. Het WFP gebruikt schoolmaaltijden om de kinderen naar scholen te trekken, zodat zij in ieder geval één gezonde maaltijd per dag krijgen en bovendien de kans krijgen te leren.</p>	

SAMEN ÉÉN WORDEN KOST GELD

Bij de beantwoording van de vragen 26 tot en met 30 moet je soms gebruikmaken van informatie 10 tot en met 12 in de bijlage.

In januari 2003 staat een groot aantal landen klaar om vanaf 2004 lid te worden van de Europese Unie (EU). Drie van die landen zijn Hongarije, Polen en Tsjechië. In die landen denken ze dat door de toetreding tot de EU de welvaart extra snel zal toenemen. Maar uit een onderzoek van de Europese Commissie blijkt dat een kandidaat-lidstaat er soms in het eerste jaar van het lidmaatschap financieel op achteruit gaat.

Gebruik informatie 10.

- 1p ● 26 Welke van de drie kandidaat-lidstaten zal/zullen in 2004 per saldo méér betalen dan ontvangen?
- A alleen Hongarije
 - B alleen Polen
 - C alleen Tsjechië
 - D alleen Hongarije en Tsjechië
 - E alleen Polen en Tsjechië
 - F Hongarije, Polen en Tsjechië

- 1p ○ 27 → Leg uit waarom zelfs een land dat elk jaar meer betaalt dan ontvangt er toch voor kiest lid te zijn van de Europese Unie.

Koen en Sacha gebruiken de informatiebronnen 10, 11 en 12 in hun praktische opdracht over de uitbreiding van de Europese Unie: 'Samen één worden kost geld'.

- 1p ● 28 Koen schrijft bij *informatie 10*: "In 2005 zal Polen 25.455 miljoen euro als contributie aan de EU moeten betalen."
Hoeveel geld verwacht Polen in 2005 te **ontvangen** van de EU?
- A 1.500 miljoen euro
 - B 23.955 miljoen euro
 - C 25.455 miljoen euro
 - D 26.955 miljoen euro

- 1p ○ 29 Sacha schrijft bij *informatie 10 en 11* op: "Van deze drie landen heeft Polen het laagste nationaal inkomen per inwoner en daarom krijgt Polen het meeste geld van de EU."
→ Noem een argument voor de bewering van Sacha.

- 2p ○ 30 Koen schrijft bij *informatie 12* op: "Ook als je kijkt naar de cijfers over de werkloosheid, snap je waarom Polen graag lid wil worden van de EU."
→ Noem twee verschillende argumenten voor de bewering van Koen.

SAMEN ÉÉN WORDEN KOST GELD

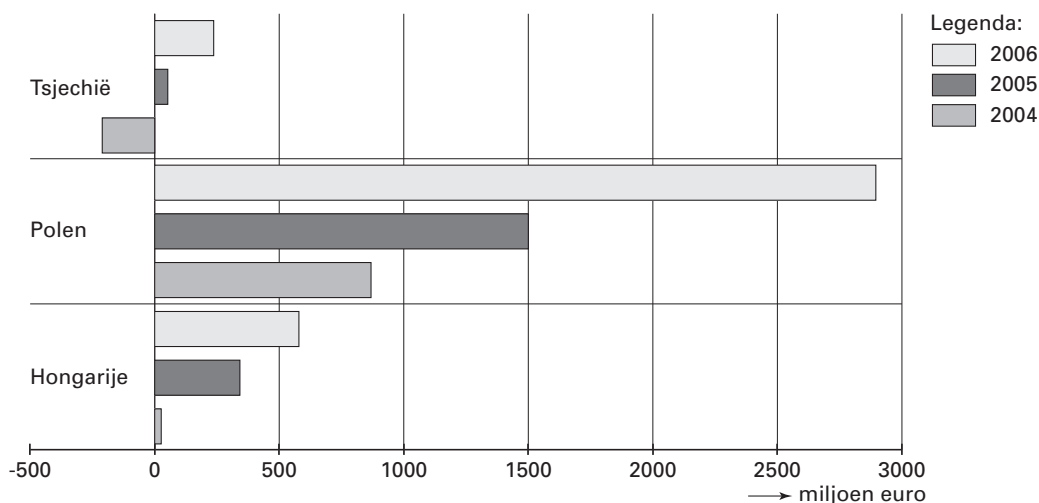
informatie 10 Uit een krant:

Nieuwe leden Europese Unie (EU) betalen soms in het begin meer dan ze ontvangen

In het eerste jaar van hun lidmaatschap krijgen de meeste nieuwe lidstaten per saldo minder uit Brussel dan ze in 2003 aan EU-hulp ontvingen. In een enkel geval zal in het begin zelfs sprake zijn van een negatief saldo: een land dat méér contributies aan de EU betaalt dan geld van de EU ontvangt.

Afspraak is dat elke lidstaat van de EU een bepaald percentage van het nationaal inkomen betaalt aan de EU. Dat noemen we de contributie.

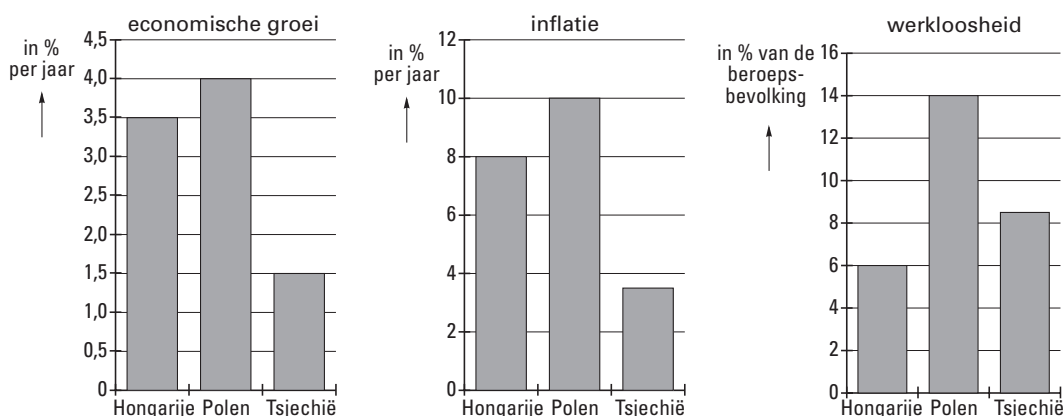
Toelichting bij de figuur: voor elke nieuwe lidstaat is een staaf het saldo van de ontvangsten van de EU min de contributie aan de EU.



informatie 11 Bevolking en nationaal inkomen

	aantal inwoners	nationaal inkomen
Hongarije	10.200.000	58.000 miljoen euro
Polen	38.700.000	169.700 miljoen euro
Tsjechië	10.300.000	63.300 miljoen euro

informatie 12 Economische groei, inflatie en werkloosheid in 2003



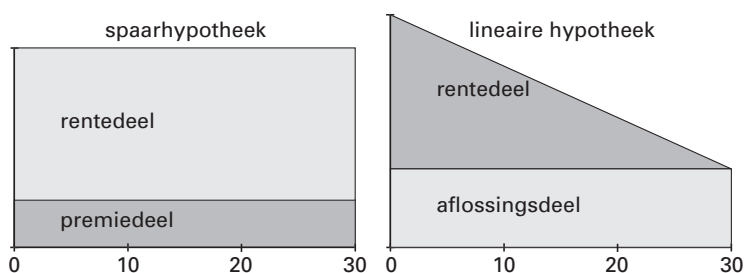
ONS EERSTE KOOPHUIS

Bij de beantwoording van de vragen 31 tot en met 35 moet je soms gebruikmaken van informatie 13 tot en met 15 in de bijlage.

Frank en Korrie Huis in 't Veld hebben hun eerste huis gekocht. Ze hebben er voor gekozen een makelaar in te schakelen voor de bemiddeling.

Gebruik informatie 13 en 14 voor de vragen 31 en 32.

- 1p ● 31 Hoeveel moesten zij aan de makelaar betalen voor zijn bemiddeling?
- A € 1.680,00
 B € 1.875,00
 C € 1.999,20
 D € 2.262,50
 E € 2.231,25
 F € 2.692,38
- 2p ○ 32 Bij de koopsom van de woning staat k.k.: dat betekent 'kosten koper'. Er komt nog ongeveer 10% bij de koopsom voor verplichte kosten. Daaronder vallen **niet** de kosten die Frank en Korrie maken voor de hypothecaire lening en voor de makelaar.
 → Zijn de kosten koper voor Frank en Korrie méér of minder dan 10% van de koopsom? Laat de berekening zien.
- 2p ○ 33 Frank en Korrie konden het koophuis gedeeltelijk met eigen geld betalen. Even hebben zij getwijfeld of zij voor het resterende bedrag een persoonlijke lening of een hypothecaire lening zouden afsluiten. Uiteindelijk kozen ze voor een hypothecaire lening.
 → Noem twee redenen voor mensen om te kiezen voor een hypothecaire lening en niet voor een persoonlijke lening.
- 2p ○ 34 Frank en Korrie moesten een keuze maken uit de vele soorten hypotheek. Na bestudering van de verschillen tussen allerlei hypotheekvormen, bleven er voor hen nog twee soorten over:



Over 15 jaar wil Frank stoppen met werken. Ook houden ze rekening met Frank's leeftijd. Ze kiezen voor de lineaire hypotheek.

→ Verklaar waarom Frank en Korrie **vanwege de bovenstaande redenen** kiezen voor de lineaire hypotheek en niet voor de spaarhypotheek.

Gebruik informatie 13 en 15.

- 1p ○ 35 Frank en Korrie sluiten een overlijdensrisicoverzekering af. Ze sluiten die verzekering, met een looptijd van 30 jaar, **alleen** af op het leven van Frank.
 → Waarom sluiten Frank en Korrie de overlijdensrisicoverzekering **alleen** op het leven van Frank af?

ONS EERSTE KOOPHUIS**informatie 13 Enkele gegevens van Frank en Korrie en de woning**

Personen	
geboortedatum Frank	25-05-1955
burgerlijke staat	gehuwd
inkomen Frank	€ 36.450 per jaar
inkomen Korrie	€ 0
Woning	
koopsom woning	€ 181.000 k.k.*
overdrachtsbelasting	6% van de koopsom
WOZ-waarde woning	€ 134.400
nota van de notaris (incl. BTW)	koopakte huis : € 966 kadaster : € 450 hypotheekakte : € 325
hypothecaire lening	€ 102.000
afsluitprovisie hypotheek	1% van het hypotheekbedrag

* k.k. = kosten koper

informatie 14 Kosten voor bemiddeling door makelaar Verhoeven ¹⁾

koopsom (k.k.)	percentage voor bemiddeling	minimumbedrag
tot € 125.000	1,50%	€ 1.250
van € 125.000 tot € 500.000	1,25%	€ 1.875
vanaf € 500.000	1,00%	€ 6.250
1) alle bedragen exclusief 19% BTW		

informatie 15**Overlijdensrisicoverzekering**

Hiermee kunt u zowel overlijdensrisico als de gevolgen van arbeidsongeschiktheid dekken. Mocht u voor de einddatum van de hypotheek komen te overlijden, dan wordt een bedrag uitgekeerd waarmee de gehele of een gedeelte van de hypotheek kan worden afgelost. Het verzekerde bedrag hoeft niet gelijk te zijn aan de (aankoop)waarde van de woning.

DE EURO WORDT DUUR BETAALD

Bij de beantwoording van de vragen 36 tot en met 40 hoef je **geén** gebruik te maken van informatie in de bijlage.

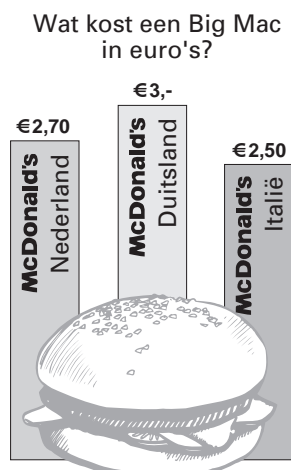
Tanja en Gerard wonen in Utrecht. Tanja is bezig met de gezinsadministratie. Ze zucht eens diep. Deze maand weer een tekort. "Sinds de invoering van de euro gebeurt dat steeds vaker," zegt ze. Gerard zegt: "We hebben behoorlijk last van euro-inflatie."

- 1p ○ 36 → Leg uit wat Gerard bedoelt met 'euro-inflatie'.
- 1p ○ 37 Tanja en Gerard hebben het gevoel dat winkeliers de invoering van de euro hebben misbruikt om de prijzen te verhogen. Tanja maakt een overzicht van oude en nieuwe prijzen van een paar producten.

product	oude prijs, omgerekend in euro's	prijs na invoering van de euro
t-shirt	€ 5,88	€ 6,00
parkeertarief binnenstad	€ 2,25	€ 3,50
croissant	€ 0,90	€ 0,99

→ Met hoeveel procent is het parkeertarief binnenstad gestegen?
Laat de berekening zien.

- 1p ○ 38 De winkelier die de croissant verkoopt heeft de prijs na de invoering van de euro verhoogd. De nieuwe prijs van € 0,99 is bewust gekozen als een vorm van prijsbeleid.
→ Leg dit prijsbeleid uit.
- 1p ● 39 Gerard is gek op hamburgers. Hij bekijkt de onderstaande afbeelding uit een krant.



Welke functie heeft geld in deze afbeelding?

- A** rekenmiddel
B ruilmiddel
C spaarmiddel
- 1p ○ 40 "Met de komst van de euro is het inderdaad gemakkelijker om de prijzen van een Big Mac tussen de verschillende landen te vergelijken," zegt Gerard, "maar, wat doe ik er mee?"
→ Noem een reden waarom het voor Gerard moeilijk is voordeel te halen uit deze prijsvergelijking.