

Meerkeuzevragen

Schrijf alleen de hoofdletter van het goede antwoord op.

Open vragen

Geef niet meer antwoorden (redenen, voorbeelden e.d.) dan er worden gevraagd. Als er bijvoorbeeld twee redenen worden gevraagd en je geeft meer dan twee redenen, dan worden alleen de eerste twee in de beoordeling meegeteld.

De Nederlanders en hun vakantiebestemmingen

bron 1

De acht mooiste reizen

- 1 De buitengewone wildernisbeleving in Alaska
- 2 Wandelen in het Zwitserse hooggebergte
- 3 Voettocht langs de fjorden in Noorwegen
- 4 Wandexpeditie in Marokko
- 5 Mountainbiken in IJsland
- 6 Safarireis door Kenia
- 7 Trekking door de wildernis in Finland
- 8 Fietsen door de bergen aan de westkust van Mexico

- 1p 1 Emel en Antal zitten vlak voor hun eindexamen. Nog even en dan gaan ze op vakantie. Maar waarheen? In de krant zien ze de tekst van bron 1 staan over de acht mooiste reizen.
- Ze willen het liefst naar een gebied waar ze een grote kans hebben op hoge temperaturen en veel zon.
- Welke van de bovenstaande reizen zouden ze dan moeten kiezen?
- A de reis nummers 1, 2 en 5
B de reis nummers 1, 4 en 7
C de reis nummers 2, 4 en 6
D de reis nummers 3, 5 en 7
E de reis nummers 3, 6 en 8
F de reis nummers 4, 6 en 8
- 2p 2 Na het lezen van de tekst van bron 1 doen Annouk, Littal en Maud de volgende uitspraken.
- Annouk zegt: "Deze reizen horen tot de verre bestemmingen."
Littal zegt: "Deze reizen zijn voorbeelden van grootschalig toerisme."
Maud zegt: "Bij deze reizen zal er tijdens het verblijf in dat land meestal ook sprake zijn van ecotoerisme."
- Schrijf de namen Annouk, Littal en Maud op het antwoordblad en schrijf achter elke naam of deze uitspraken juist zijn of onjuist.

bron 2

Een natuurverschijnsel



- 1p **3** Bron 2 laat een natuurverschijnsel zien dat men maar bij één van deze acht reizen (zie bron 1) regelmatig kan zien.
Tijdens welke reis kan men dit natuurverschijnsel regelmatig zien?
- A tijdens reis 1
 - B tijdens reis 3
 - C tijdens reis 5
 - D tijdens reis 7

bron 3

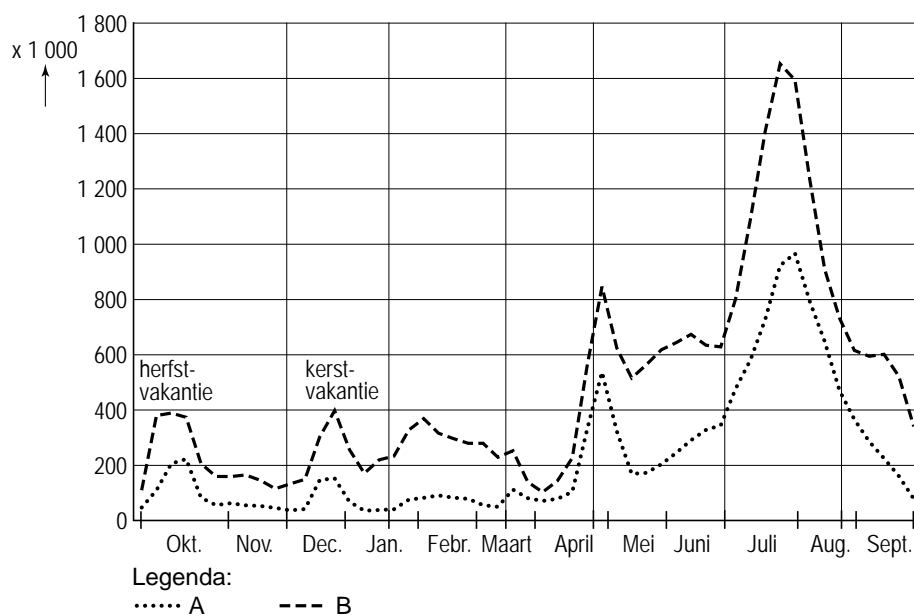
Buitenlandse vakanties van Nederlanders naar duur en land van bestemming, 2005

Landen	2 - 4 dagen	5 - 8 dagen	9 dagen of meer
België	1.060	650	330
Duitsland	990	1.060	550
Frankrijk	590	650	1.520
Verenigd Koninkrijk	240	260	130
Luxemburg	100	100	90
Spanje	70	460	1.120
Italië	50	160	530
Denemarken	30	90	90
Oostenrijk	30	410	590
Portugal	10	90	170
Griekenland	10	140	400
Zwitserland	10	160	190
Scandinavië	0	60	240
Verre Oosten	10	10	240
Verenigde Staten	0	40	250
Caribisch gebied	0	10	170
overige landen	30	190	1.000

- 2p 4 In bron 3 is de verdeling te zien van de buitenlandse vakanties van Nederlanders naar duur en land van bestemming.
Hieronder volgen drie uitspraken naar aanleiding van bron 3:
- 1 In vergelijking met Frankrijk wordt Duitsland meer gekozen voor de korte vakanties dan voor de lange vakanties.
 - 2 De vrij hoge score van Oostenrijk heeft te maken met de mogelijkheden voor een dubbelseizoen.
 - 3 Hoe verder weg het land van Nederland vandaan ligt, hoe groter het percentage korte vakanties.
- Neem de cijfers 1, 2 en 3 over op het antwoordblad en zet erachter of deze uitspraken juist zijn of onjuist.

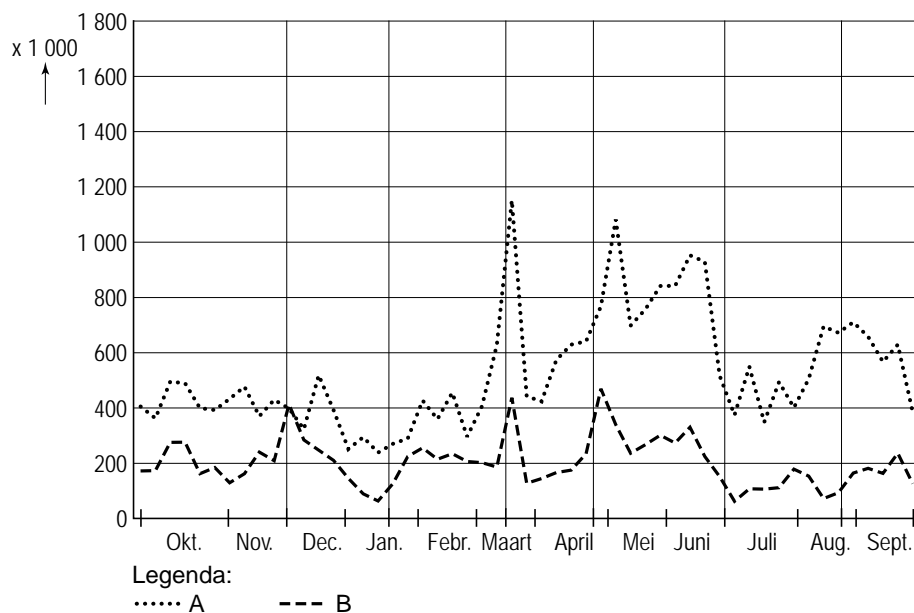
bron 4

Vakanties van de Nederlanders per periode en naar bestemming, 2005 - 2006



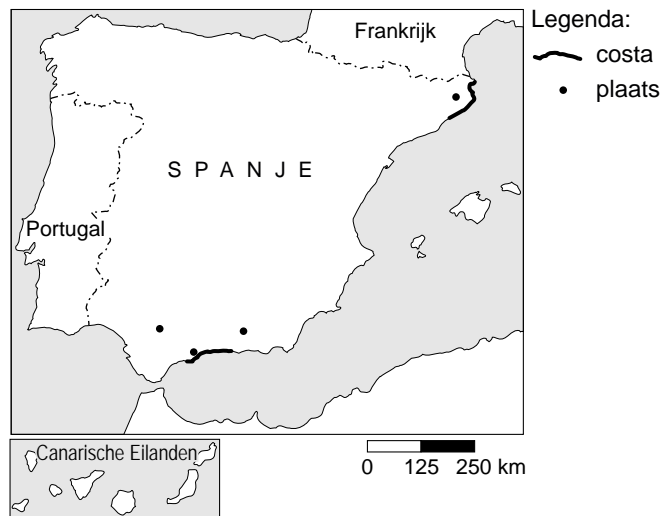
bron 5

Vakanties van de Nederlanders per periode en naar bestemming, 2005 - 2006



- 1p **5** Meneer Wevers bespreekt in de klas de bronnen 4 en 5 waarin lange en korte vakanties per periode en naar bestemming met elkaar vergeleken worden. Hij zegt: "Als je de beide bronnen met elkaar vergelijkt, dan blijken er grote verschillen te bestaan".
Aan de leerlingen stelt hij de volgende vraag: "Welke bron gaat over de korte vakanties?"
Arzu zegt: "Bron 5."
Meneer Wevers zegt: "Dat is het goede antwoord."
→ Geef met behulp van de bronnen een argument dat Arzu gebruikt kan hebben bij de beantwoording van de vraag.
- 1p **6** Dan stelt meneer Wevers de vraag welke stippellijn, lijn A of B (zowel in bron 4 als bron 5), de vakantiebestemmingen in Nederland weergeeft.
→ Kies eerst uit lijn A of lijn B en geef vervolgens een juist argument voor je keuze.
- 1p **7** Aantrekkelijke gebieden voor vakantiegangers in Nederland zijn onder andere de bosrijke provincies.
Welke zijn de twee bosrijkste provincies van Nederland?
A Flevoland en Friesland
B Gelderland en Drenthe
C Groningen en Utrecht
D Noord-Brabant en Overijssel
E Noord-Holland en Zuid-Holland
F Zeeland en Limburg

bron 6
Spanje



- 1p **8** Chantal en Manon zijn bezig met het voorbereiden van hun vakantie. Ze willen heel graag naar een stad aan een van de Spaanse Costa's. Chantal wil het liefst naar de Costa Brava en Manon wil het liefst naar de Costa del Sol. Naar welke stad moeten ze gaan als ze naar de Costa Brava willen en naar welke stad als ze naar de Costa del Sol willen (zie bron 6)?

	Costa Brava	Costa del Sol
A	Girona	Granada
B	Girona	Torremolinos
C	Granada	Sevilla
D	Sevilla	Girona
E	Torremolinos	Girona
F	Torremolinos	Sevilla

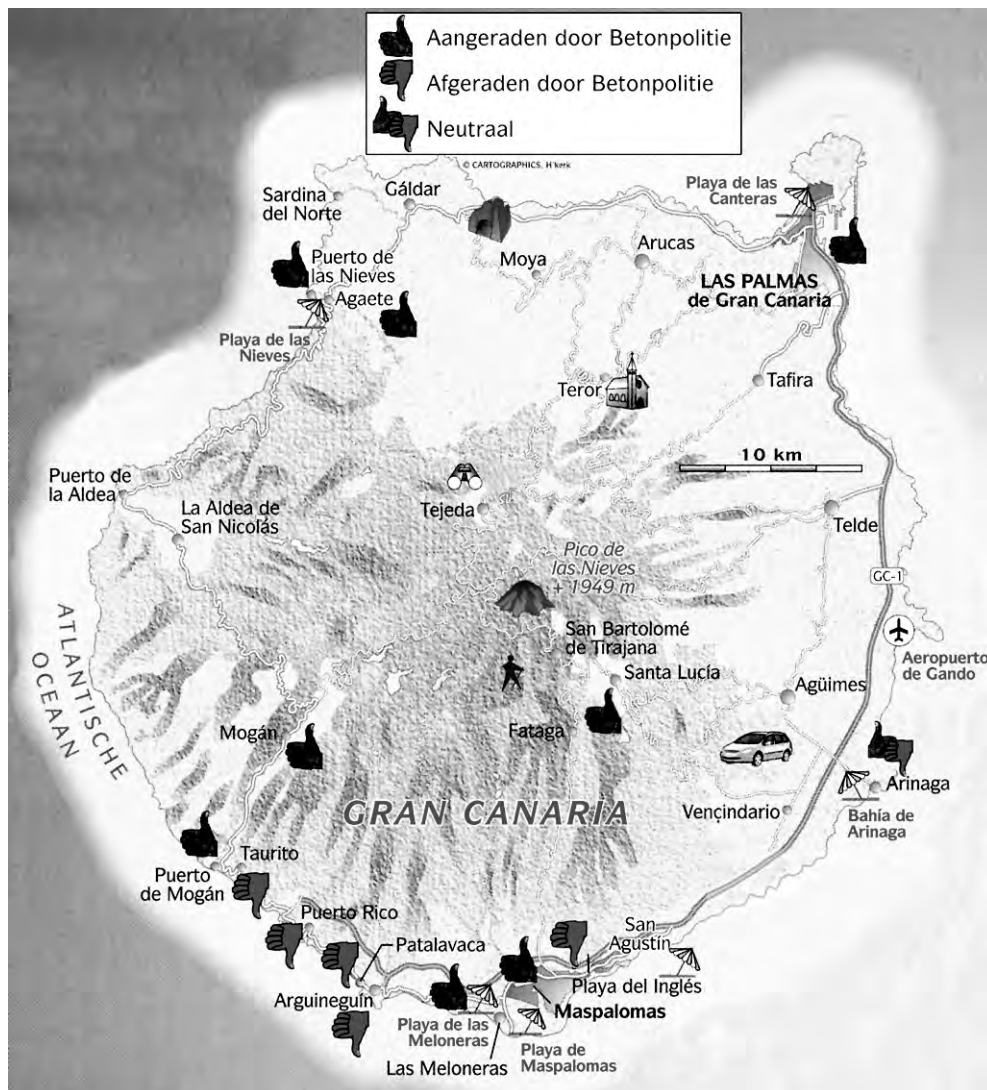
bron 7

Verslag van Hans Avontuur over Gran Canaria

Verslaggever Hans Avontuur heeft een aantal plaatsen bezocht op Gran Canaria. Hij deed zich voor als een agent van de Betonpolitie. Hij keek waar je als toerist wel of niet op vakantie zou moeten gaan.

Hij deed er onderzoek op vier verschillende dagen op meerdere plaatsen. Hieronder staan het door hem gemaakte kaartje en zijn verslag.

Gran Canaria



bron 8

Verslag van Hans Avontuur

Dag 1

Playa del Inglés: de ooit moderne en vooruitstrevende hotels en shoppingcentra zijn nu het domein van bitterballen, 'Bratwurst' en goedkoop vermaak. Platgooien en opnieuw opbouwen!

San Augustin: vergane glorie. Kan met de sloop meegenomen worden.

Dag 2

Fataga: uitstekend alternatief voor een strandvakantie. Oase van rust in het bergachtige binnenland.

Puerto Rico, Patalavaca, Arguineguín, Taurito: om verdrietig van te worden. De lelijkheid is overal aan de kust te zien. En toen de stranden op waren, zijn er gewoon nieuwe gemaakt met zand uit Cuba en de Bahama's.

Dag 3

Agate: onbetwiste favoriet, wat een heerlijk dorp.

Puerto de las Nièves: rustige, authentieke vissersplaats met twee kiezelstranden en uitstekende restaurants. Toeristen komen er vrijwel niet. Canariërs komen er vis eten en een wandeling maken, niet meer en niet minder.

Dag 4

Las Palmas de Gran Canaria: verrassende en mooie grote stad. Door de overwegend noordenwind in combinatie met een andere belangrijke, natuurlijke factor op Gran Canaria is er hier wel vaak slechter weer dan in het zuiden van het eiland.

- 1p **9** Leg met behulp van bron 8 uit waarom men het begrip 'Betonpolitie' gebruikt.
- 1p **10** Op welke twee dagen van zijn onderzoek heeft Hans als 'agent van de Betonpolitie' waarschijnlijk de meeste 'bekeuringen' uitgedeeld?
- A dag 1 en dag 2
 - B dag 3 en dag 4
 - C dag 1 en dag 3
 - D dag 2 en dag 4
- 2p **11** In het noordelijk deel van Gran Canaria valt meer neerslag dan in het zuidelijk deel van Gran Canaria.
Dit komt door twee natuurlijke factoren.
→ Welke twee natuurlijke factoren zijn dat?

bron 9

Aanleg van een achttien-hole-golfterrein in Spanje



- 1p 12 Steeds meer reisbureaus gaan op zoek naar een reisaanbod met aandacht voor duurzaamheid. Nicole ziet in een reisfolder de foto van bron 9. Aan de zuidkust van Spanje liggen intussen meer dan honderd van dit soort golfterreinen. Over de Costa del Sol wordt al gesproken als 'Costa del Golf'. Er zijn plannen om er de komende acht jaar nog tientallen aan te leggen. Nicole zegt: "Bij golfterreinen is er geen sprake van duurzaam toerisme."
→ Geef het argument dat Nicole gebruikt zal hebben voor haar uitspraak.
- 1p 13 Nicole heeft een discussie met haar vriendin Shania over het begrip duurzaamheid. Zij komen samen tot een lijst van toeristische activiteiten die volgens hen de duurzaamheid ten goede komen:
- 1 Zet de airco uit als je de hotelkamer verlaat.
 - 2 Bezoek ook eens een lokale activiteit, zoals volksdansen.
 - 3 Koop vooral regionale producten als je op vakantie bent.
 - 4 Koop in plaats van goedkope massaproducten ook eens duurdere souvenirs van ivoor en koraal.
- Eén van deze activiteiten komt de duurzaamheid **niet** ten goede. Welke activiteit is dat?
- A activiteit 1
B activiteit 2
C activiteit 3
D activiteit 4

bron 10

Toeristen op de Galapagoseilanden



bron 11

De Galapagoseilanden



bron 12

Galapagos ten onder aan toerisme

President Correa van Ecuador riep in 2007 de noodtoestand uit over de Galapagoseilanden. De eilanden herbergen tal van dieren- en plantensoorten die nergens anders ter wereld zijn te vinden, zoals de zee-iguana's en de eenden met blauwe poten.

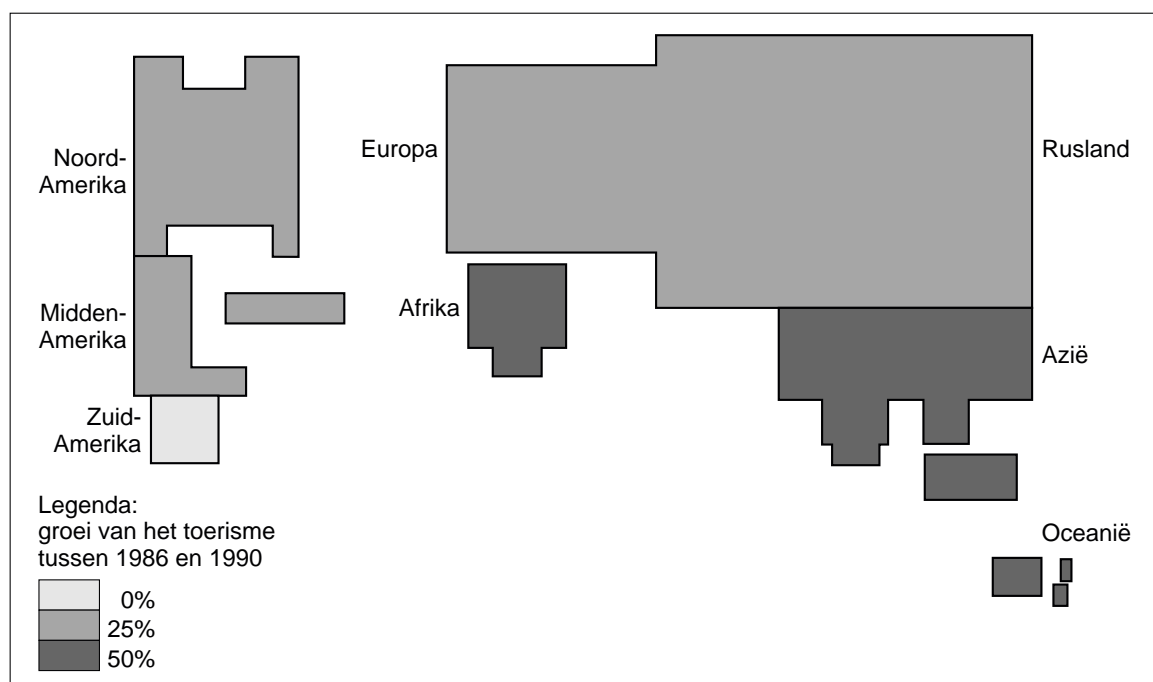
De Galapagos zijn hard op weg een ecologisch pretpark te worden, dat jaarlijks door zo'n 150 duizend toeristen wordt bezocht.

In de jaren zestig woonden op de Galapagos vierduizend mensen, nu zijn dat er meer dan twintigduizend. En daarnaast zijn er zo'n zesduizend pendelaars die leven van het toerisme.

- 2p **14** In de klas bespreekt meneer Meekel bovenstaand krantenartikel (zie bron 12). René en Karin, twee leerlingen uit zijn klas, verschillen van mening over het voornemen van president Correa om geen nieuwe vergunningen voor de toeristensector meer uit te geven.
- René vindt het een prima idee van de President.
Karin is het juist helemaal niet eens met het voornemen van de President.
- Geef eerst een argument waarom René het een prima idee vindt om geen nieuwe vergunningen voor de toeristensector meer uit te geven en geef vervolgens een argument waarom Karin juist tegen het voornemen van de President is.
- 1p **15** De meeste toeristen die de Galapagoseilanden (zie bron 11) bezoeken, komen per vliegtuig en maken vervolgens met een cruiseschip een tocht langs de eilanden.
- Waarom zullen de meeste toeristen overnachten op een cruiseschip?

bron 13

Aantal toeristen wereldwijd, 1990



De omvang van de werelddelen op bovenstaande kaart geeft aan hoeveel toeristen naar dat werelddeel gaan.

- 1p **16** Bron 13 laat zien waar wereldwijd de toeristen naartoe gingen in 1990. Naar welk werelddeel gingen in 1990 de **minste** toeristen?
- A Afrika
 B Amerika
 C Azië
 D Oceanië
- 1p **17** Tussen 1986 en 1990 behoorden Afrika en Azië tot de sterkste groeiers in de toeristensector. Mogelijke redenen waarom deze werelddelen zo aantrekkelijk waren voor toeristen, zijn:
- 1 Het verblijf is er goedkoop.
 - 2 Het is er altijd mooi weer.
 - 3 Er zijn nog ongerepte natuurgebieden.
 - 4 De bevolking leeft voor het grootste deel in krottenwijken.
- Welke twee redenen zijn juist?
- A 1 en 2
 B 1 en 3
 C 1 en 4
 D 2 en 3
 E 2 en 4
 F 3 en 4

- 1p **18** Mensen uit rijke landen, zoals Nederland, maken reizen naar arme landen, zoals Tanzania of Kenia. Toch blijken de inkomsten uit het toerisme voor de lokale bewoners in die arme landen zelf niet zo groot te zijn.
→ Geef een verklaring waarom de lokale bewoners van die arme landen zo weinig inkomsten uit het toerisme krijgen.

bron 14

Lapland



- 1p **19** Als de huidige klimaatveranderingen doorzetten, zou dit tot een belangrijke achteruitgang van het wintertoerisme in de Alpenlanden kunnen leiden. Als alternatief wordt tegenwoordig steeds nadrukkelijker Lapland in het noorden van Finland genoemd. De gunstige natuurlijke omstandigheden in Lapland voor een wintersportvakantie hebben te maken met de absolute ligging van Lapland.
→ Leg dit uit en gebruik daarbij de betekenis van het begrip absolute ligging.
- 1p **20** Dat Lapland in het verleden niet de eerste keus was voor een wintersportvakantie voor Nederlanders, had onder andere te maken met de relatieve ligging van Lapland.
→ Leg dit uit en gebruik daarbij de betekenis van het begrip relatieve ligging.

bron 15

Toos en Henk op vakantie



- 1p 21 Spotprent A in bron 15 verwijst naar een grote ergernis van menige Nederlandse vakantieganger tijdens een all-inclusive vakantie in Turkije: het ongepaste gedrag van sommige Russische vakantiegangers. Volgens Henk op de spotprent hoort dit ook bij 'all-inclusive'. Toch is dit waarschijnlijk niet wat Henk en Toos zich zullen hebben voorgesteld bij 'all-inclusive' toen ze dit hotel boekten.
- Wat is de eigenlijke betekenis van 'all-inclusive' bij de boeking van een hotel?
- 1p 22 Spotprent B in bron 15 gaat over het geven van informatie op een manier zoals die nogal eens in toeristisch reisfolders voorkomt.
- Leg aan de hand van deze spotprent uit waarom hier sprake is van misleidende informatie.

bron 16

Exotische dieren: de toekan



bron 17

De landingsbaan ligt op twintig meter van een strandje



Marc, Mariëlle, John en Inez gaan na hun eindexamen, voordat ze verder studeren, op vakantie naar een verre bestemming.

Zij hebben gekozen voor – in willekeurige volgorde – Costa Rica, St. Maarten (Nederlandse Antillen), Zuid-Afrika en Bali (Indonesië).

Zij beloven regelmatig iets te laten horen aan hun klasgenoot Sjoerd, die nog een herexamen moet doen.

- 1p **23** Op een dag krijgt Sjoerd (die dus nog in Nederland is) telefoon van John. Het is twee uur 's middags en John zegt dat het bij hem ook twee uur 's middags is.
Op welke bestemming is John op vakantie?
A Bali
B Costa Rica
C St. Maarten
D Zuid-Afrika
- 1p **24** Van Marc krijgt Sjoerd een week later een e-mail met een beschrijving van de politieke en culturele situatie van het vakantiegebied: "Bomaanslagen tegen Hindoestanen en westerse toeristen hebben dit gebied minder aantrekkelijk gemaakt als vakantiegebied."
Van welke bestemming is deze e-mail afkomstig?
A Bali
B Costa Rica
C St. Maarten
D Zuid-Afrika
- 1p **25** Van Inez krijgt Sjoerd de foto van bron 16 doorgestuurd met het onderschrift: "Niet voor niets wordt dit gebied aangeprezen als hét gebied voor ecotoerisme. Ondoordringbare oerwouden en ontelbare exotische dieren zoals de toekan!"
In welk gebied is deze foto gemaakt?
A Bali
B Costa Rica
C St. Maarten
D Zuid-Afrika
- 1p **26** Zo krijgt Sjoerd geregeld e-mails en foto's toegestuurd van zijn klasgenoten. Eén foto vindt hij wel grappig: de foto van bron 17.
"Niet echt een foto die je snel in een reisfolder zult zien", denkt hij.
→ Leg uit waarom je deze foto niet snel in een reisfolder zult zien.