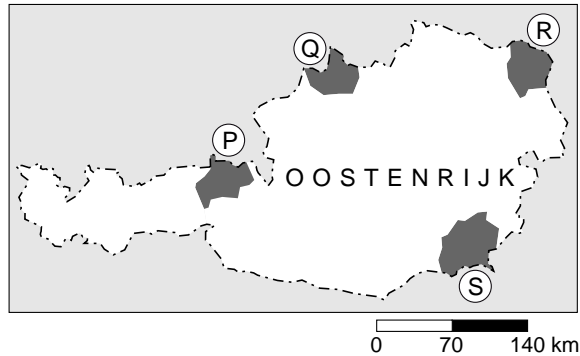


De Nederlanders en hun vakantiebestemmingen

bron 1

Oostenrijk



bron 2

De Kitzbühler Alpen zijn dubbel sneeuwzeker

Om te beginnen zijn er vier natuurlijke redenen voor sneeuwzekerheid in het gebied.

- 1 De oost-westligging van de Alpen.
- 2 Constante hoeveelheden nieuwe sneeuw.
Per jaar valt er in het dal 2,5 meter en op de berg 8 meter sneeuw.
- 3 Sinds 1993 is het in de Kitzbühler Alpen duidelijk kouder.
- 4 De meeste pistes bevinden zich op een ideale, sneeuwzekere noord-, noordoost-, of noordwesthelling.

- 1p 1 Met welke letter is in bron 1 het skigebied rond de plaats Kitzbühel aangegeven?
- A P
B Q
C R
D S
- 1p 2 Het skigebied rond Kitzbühel wordt de Kitzbühler Alpen genoemd. Het gebied wordt door de ondernemers als zeer sneeuwzeker omschreven. In een advertentie geven ze daar vier natuurlijke redenen voor (zie bron 2). Bij de vierde natuurlijke reden wordt de ligging van de skipistes genoemd.
- Leg uit waarom deze ligging van de pistes op deze hellingen ervoor zorgt dat de sneeuw langer blijft liggen.

bron 3

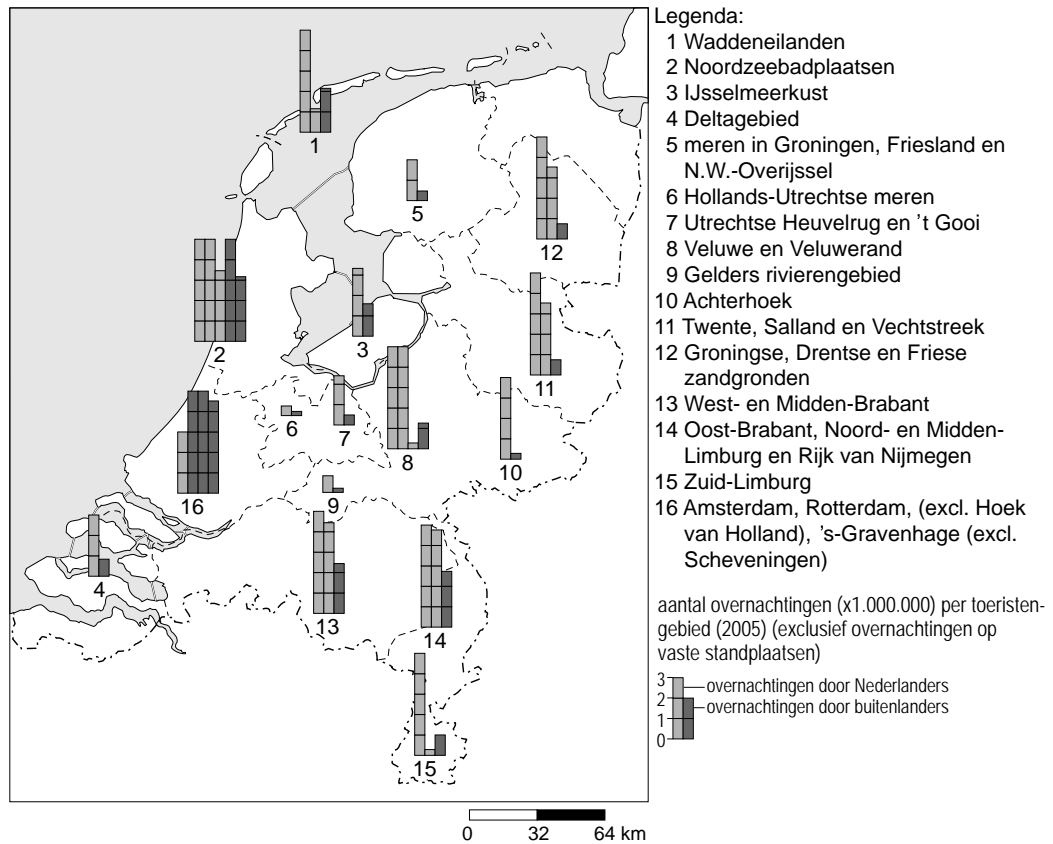
Een sneeuwkanon



- 2p **3** Als er te weinig sneeuw valt, staan ruim 2.000 sneeuwkanonnen klaar (bron 3). Naast voordelen zitten er ook nadelen aan het inzetten van sneeuwkanonnen.
→ Noem twee van deze nadelen.

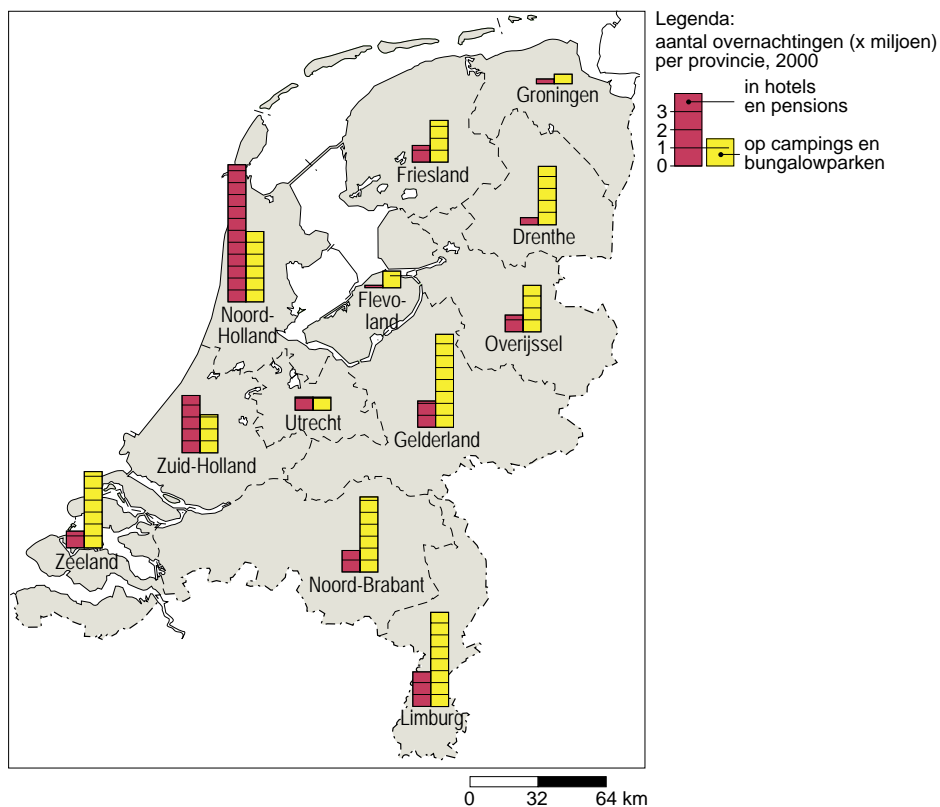
bron 4

Toeristengebieden en aantal overnachtingen (x1.000.000), 2005



bron 5

Overnachtingen per logiesvorm, 2003



- 2p 4 Klaas en Marieke bestuderen tijdens een aardrijkskundeles de bronnen 4 en 5. Naar aanleiding van deze twee kaarten trekken zij de volgende conclusies:
- 1 In de weergegeven vakantiegebieden in bron 4 is het aandeel van Nederlandse vakantiegangers altijd hoger dan het aandeel van buitenlandse vakantiegangers.
 - 2 Beide kaarten hebben betrekking op zowel lange als korte vakanties.
 - 3 Vergeleken met de andere gebieden in Oost- en Zuid-Nederland kent Zuid-Limburg een relatief hoog aantal overnachtingen in hotels en pensions.
- Neem de nummers van de conclusies over op het antwoordblad en zet erachter of de conclusie juist is of onjuist.
- 1p 5 De legendanummers 5 en 6 van bron 4 hebben betrekking op de merengebieden. Opvallend is het betrekkelijk geringe aantal overnachtingen. Dat lijkt vreemd gezien het feit dat deze meren voor watersporters aantrekkelijke gebieden zijn.
- Geef een reden waarom het aantal overnachtingen in de merengebieden relatief laag is.

bron 6

Aantal en aandeel Nederlandse deelnemers aan vakanties, 1990 en 2005

jaar	aantal deelnemers aan vakanties x1000	aandeel deelnemers aan vakanties in %
1990	10.426	74,6
2005	12.436	80,8

bron 7

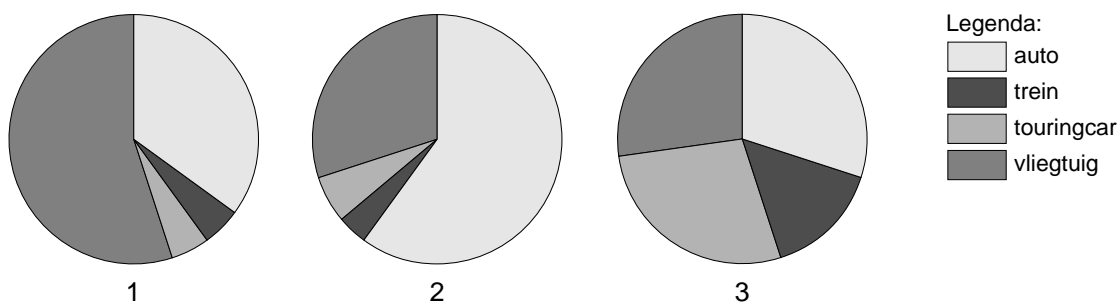
Korte vakanties van Nederlanders in het buitenland naar bruto inkomen per huishouden per jaar

Bruto inkomen per huishouden	België	Frankrijk	Duitsland	overige landen
	x 1000			
tot 17.500 euro	92	47	50	65
17.500 tot 23.000 euro	40	27	47	38
23.000 tot 28.500 euro	87	39	82	53
28.500 tot 34.000 euro	129	45	89	88
34.000 tot 45.000 euro	182	131	282	182
45.000 tot 56.000 euro	186	72	138	106
56.000 euro en meer	316	170	251	199

- 2p **6** Hieronder staan vier uitspraken naar aanleiding van de bronnen 6 en 7.
- 1 In 2005 ging ruim 80% van de Nederlanders op vakantie.
 - 2 De vakantieparticipatie is in Nederland tussen 1990 en 2005 afgenomen.
 - 3 Voor korte vakanties is België de meest favoriete bestemming.
 - 4 Mensen met een inkomen van meer dan 34.000 euro kiezen vaker een verdere bestemming voor een korte vakantie dan mensen met een inkomen van minder dan 34.000 euro.
- Welke uitspraken zijn juist? Noteer de nummers van de juiste uitspraken op het antwoordblad.
- 1p **7** Niet alle Nederlanders gaan elk jaar met vakantie. Zo slaan ouders met heel jonge kinderen wel eens een jaartje over.
- Noem een andere groep Nederlanders die ook niet zo gemakkelijk elk jaar op vakantie kan gaan.
- 1p **8** Reizen met bestemmingen buiten Europa zullen in de toekomst waarschijnlijk toenemen.
- Eén van de redenen is de toename van de welvaart.
- Noem een andere reden.

bron 8

Vakanties naar het buitenland met verschillende vervoersmiddelen, 2004
Diagrammen 1, 2 en 3



- 1p **9** Nederlanders gebruiken verschillende vervoersmiddelen voor een vakantie naar het buitenland.
In de diagrammen 1, 2 en 3 van bron 8 staat de verdeling tussen de belangrijkste vervoersmiddelen weergegeven voor 2004.
Slechts één van deze diagrammen geeft de juiste verhouding weer.
Welk diagram is dat?
- A diagram 1
B diagram 2
C diagram 3
- 1p **10** Nederlandse vakantiegangers gaan liever met de touringcar op vakantie dan met de trein.
→ Geef hiervoor een reden.

bron 9**Kansen voor toerisme in ontwikkelingslanden**

Het kan voor bedrijven aantrekkelijk zijn om te investeren in de toeristische sector. Daarom heeft het World Economic Forum (WEF) een ranglijst van 124 landen gemaakt die het aantrekkelijkst zijn om in te investeren.

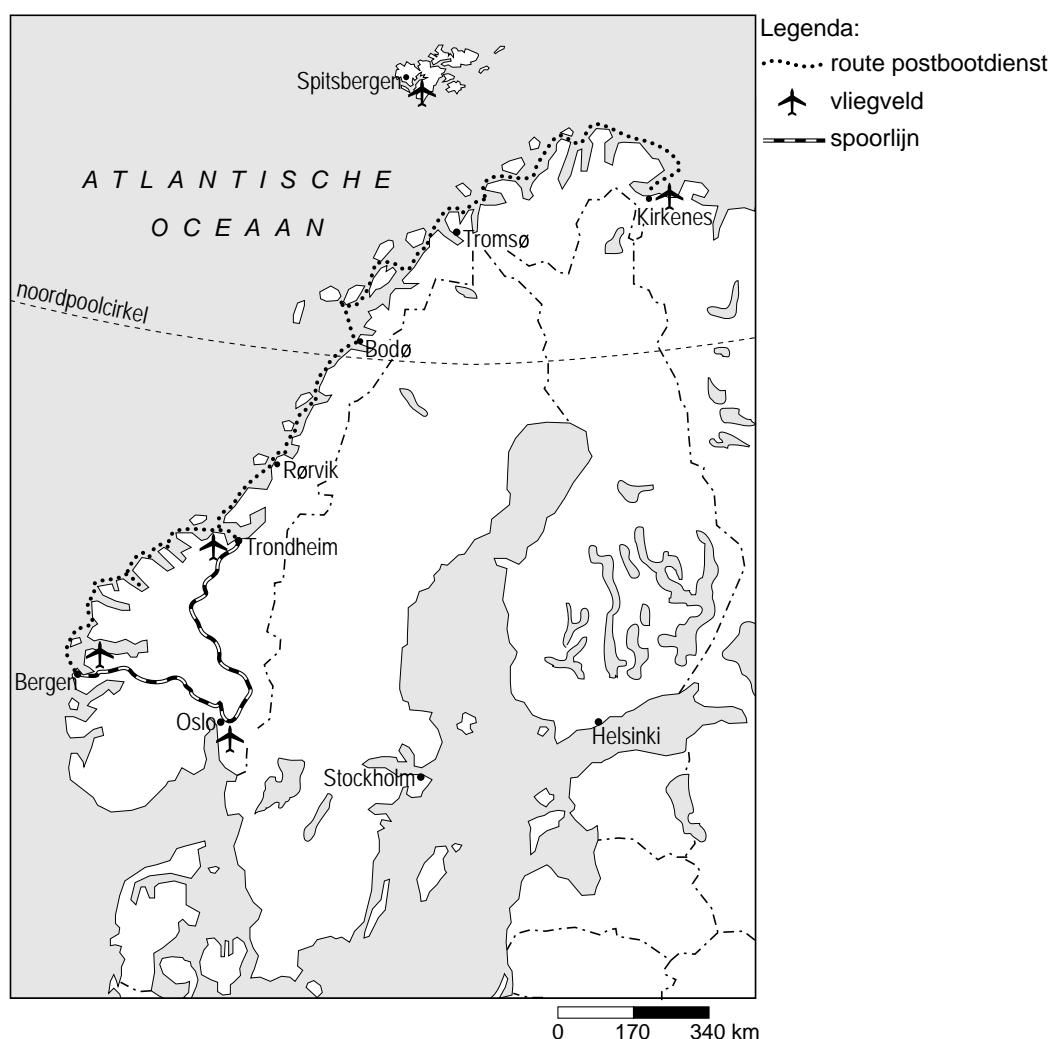
De toeristische sector in Zwitserland, Oostenrijk en Duitsland heeft de meeste aantrekkingskracht op investeerders uit het bedrijfsleven.

De meeste ontwikkelingslanden staan in de onderste helft van de ranglijst.

Sterke punten van ontwikkelingslanden zijn ... **P** ...; vaak ontbreekt het in deze landen echter nog aan ... **Q** ...

- 2p **11** In bron 9 zijn bij P en Q gedeelten van de tekst weggelaten. Die tekstgedeelten staan hieronder.
- 1 cultuur en natuurschoon
 - 2 geschoold personeel
 - 3 infrastructuur
 - 4 goedkope werkkrachten
- Neem de cijfers 1, 2, 3 en 4 over op het antwoordblad en zet erachter of dit tekstgedeelte hoort bij P of bij Q.

bron 10
Scandinavië



Rederij Hurtigruten verzorgt een postbootdienst (veerdienst) langs de Noorse kust. Op de route Bergen-Kirkenes en terug doen de schepen ruim 30 havens aan. De rederij probeert ook Nederlandse toeristen te interesseren voor deze veerdienst door volledig verzorgde reizen aan te bieden. De totale route wordt in 12 dagen afgelegd. Afhankelijk van het seizoen en de soort hut lopen de prijzen uiteen van € 1600 tot € 5500 per persoon. Op verschillende plaatsen biedt de rederij korte landexcursies aan zoals bezoeken aan natuurgebieden.

- 1p **12** Hieronder staan vier mogelijke combinaties van kenmerken van deze 12-daagse bootreis.
- Welke kenmerken horen bij deze reis?
- A elitevakantie en natuurvakantie
 - B massatoerisme en duurzaam toerisme
 - C massatoerisme en sportieve vakantie
 - D rugzaktoerisme en sportieve vakantie

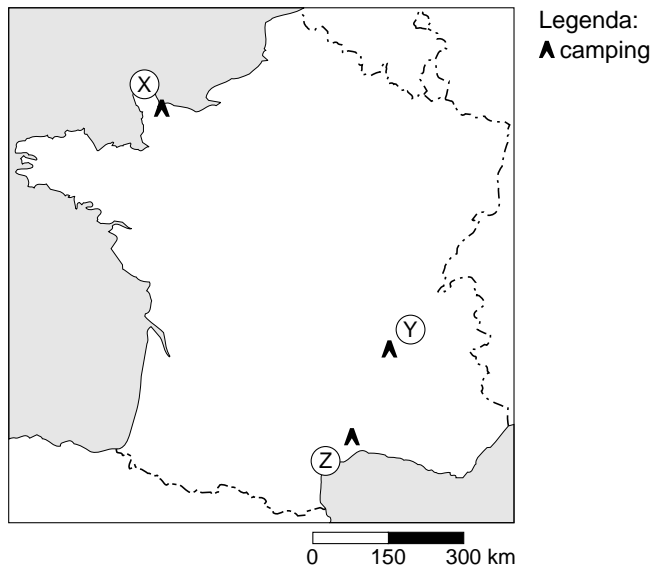
bron 11

Een wegwijzer in Noorwegen

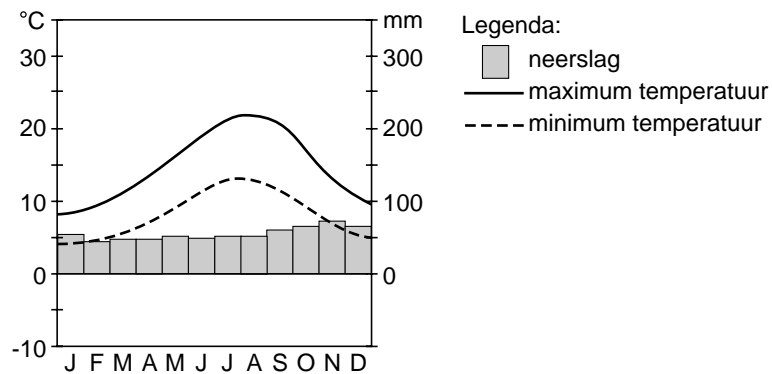


- 1p **13** De heer Verbeet heeft deze bootreis gemaakt en op één van de excursieplaatsen langs de weg de foto van bron 11 gemaakt. Waar is deze foto gemaakt? Gebruik bron 10.
- A Bodø
 - B Kirkenes
 - C Rørvik
 - D Trondheim
- 1p **14** Naast reizen met de veerdienst organiseert de rederij Hurtigruten ook rondvaarten in het noordpoolgebied. Van juni tot en met augustus biedt men 9-daagse rondreizen aan met een ijsbreker rond het eiland Spitsbergen (zie bron 10).
- Geef een reden waarom de rederij deze reizen alleen in de periode juni tot en met augustus aanbiedt.

bron 12
Frankrijk



bron 13
Klimaatdiagram van een plaats in Frankrijk



- 1p **15** Frankrijk is een populair vakantieland voor kampeersers. In alle delen van het land kun je kamperen. Omdat Frankrijk een groot land is, zijn er grote klimaatverschillen.
In de plaatsen X, Y en Z van bron 12 is een camping aanwezig.
Bij welke plaats hoort het klimaatdiagram van bron 13?
- A** plaats X
 - B** plaats Y
 - C** plaats Z

bron 14

Drie plekken in Frankrijk

foto 1



foto 2



foto 3



- 2p **16** In de omgeving van de campings zijn foto's gemaakt. Zie de foto's 1, 2 en 3 van bron 14.
→ Bij welke camping is welke foto gemaakt?
Neem de cijfers 1, 2 en 3 over op het antwoordblad en zet erachter bij welke plaats (X, Y of Z van bron 12) de foto is gemaakt.

bron 15

Vier verschillende reizen naar Azië

REIS 1 Cambodja - Hotelrondreis - 21 dagen

Tijdens deze reis naar Cambodja maak je uitgebreid kennis met het land, de keuken, de geschiedenis en de cultuur van de Khmerbevolking.

Reisduur: 21 dagen

Prijs vanaf: €1795

REIS 2 Myanmar - Hotelrondreis - 29 dagen

Eén van de meest betoverende landen in Zuidoost-Azië is Myanmar, het vroegere Birma. Ontdek een land met een rijk verleden, authentieke bevolkingsgroepen en een divers landschap.

Reisduur: 29 dagen

Prijs vanaf: €1945

REIS 3 Vietnam - Hotelrondreis - 21 dagen

Ontmoet de vele volkeren van dit verrassend veelzijdige land. Je maakt uitgebreid kennis met dit land met een bewogen geschiedenis, een bruisend heden en een veelbelovende toekomst.

Reisduur: 29 dagen

Prijs vanaf: €2195

REIS 4 Sumatra, Java en Bali - Hotelrondreis - 23 dagen

De Gordel van Smaragd is voor velen het mooiste eilandenrijk ter wereld. Op deze reis van drie weken bezoek je de drie bekendste eilanden van Indonesië en overnacht je in verschillende dorpjes met kleinschalige, sfeervolle accommodaties en bezoek je dansvoorstellingen.

Reisduur: 23 dagen

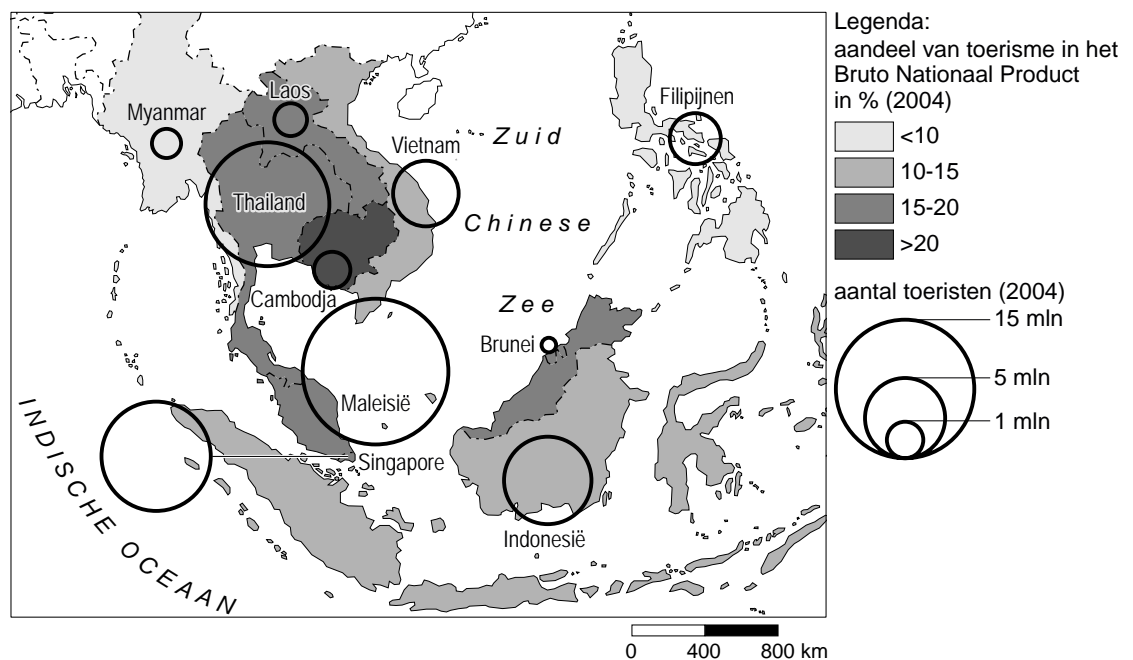
Prijs vanaf: €1795

- 1p 17 Koning Aap is een reisorganisatie die veel reizen naar het Verre Oosten aanbiedt. In bron 15 staan vier reizen.
Welke begrip is van toepassing op **alle** reizen?
- A ecotoerisme
 - B georganiseerde vakantie
 - C massatoerisme
 - D rugzaktoerisme

- 1p 18 Jan, Piet, Janet en Imke doen ieder een uitspraak die betrekking heeft op de advertenties van Koning Aap in bron 15.
- Jan zegt: "Alle advertenties bevatten zowel subjectieve als objectieve informatie."
- Piet zegt: "In alle reizen zit een cultureel element."
- Janet zegt: "Naar deze bestemmingen kun je alleen met chartervluchten vliegen."
- Imke zegt: "In elke bestemming wordt ook bij de lokale bevolking overnacht, dus is er sprake van duurzaam toerisme."
- Wie hebben er gelijk?
- A Jan en Janet hebben gelijk.
- B Jan en Piet hebben gelijk.
- C Janet en Imke hebben gelijk.
- D Piet en Janet hebben gelijk.

bron 16

De betekenis van het toerisme in Zuidoost-Azië



- 1p 19 Bron 16 gaat over het toerisme in Zuidoost-Azië.
- Welk van de onderstaande landen is economisch gezien het meest afhankelijk van de toeristensector?
- A Cambodja
- B Indonesië
- C Myanmar
- D Vietnam

bron 17

Vier vakantiebestemmingen

Vakantiebestemming 1

Griekenland – Gouvia, Corfu

Hotel Louis Corcyra Gardens *****

v.a.
594,-

Dit schitterende hotel ligt ideaal in het gezellige Gouvia en is een prima hotel voor gasten die van luxe en goede verzorging houden. Vanaf het terras heeft u een fantastisch uitzicht over de tuinen en de baai.

- All inclusive: o.a. kinderbuffet, animatie voor jong en oud, diverse sporten
- Vaste lage prijs voor kinderen
- Prachtige tuin
- Dicht bij centrum
- Dicht bij strand
- Mooie, ruime kamers
- Veel uitstekende faciliteiten
- Ook vertrek vanaf Eindhoven, Groningen, Rotterdam



Vakantiebestemming 2

Griekenland – Ialysos, Rhodos

Hotel Sunshine Vacation Club Rhodos ****

v.a.
404,-

Hotel Sunshine Vacation Club is een prachtig complex. De ruime kamers met een adembenemend uitzicht geven u het ultieme vakantiegevoel.

- All inclusive: o.a. sportfaciliteiten en 1x introductie duikles in het zwembad, animatie overdag (ook Nederlands gesproken) en shows in de avond
- Vaste lage prijs voor kinderen
- Best gewaardeerd Ialysos
- Dicht bij centrum
- Dicht bij strand
- Ook vanaf Eindhoven, Groningen, Maastricht, Rotterdam



Vakantiebestemming 3

Turkije – Antalya

Hotel Saturn Palace Resort *****

Hotel Saturn Palace Resort is een gloednieuw hotel en beschikt over een privéstrand. Met de vele faciliteiten en de luxe kamers die het hotel biedt een absolute topper in ons aanbod.

- All inclusive: o.a. diverse sporten, sauna en animatieprogramma
- Vaste lage prijs voor kinderen
- Dicht bij centrum
- Direct aan het strand
- Zeer kindvriendelijk
- Schitterend in 2006 gebouwd hotel



Vakantiebestemming 4

Spanje – Malgrat de Mar/Santa Susanna

App. Odissea Park ***

Appartementen Odissea Park heeft modern ingerichte appartementen en is zeer centraal gelegen. Dit in combinatie met de uitstekende prijs/kwaliteit verhouding, zorgt voor een onvergetelijke vakantie!

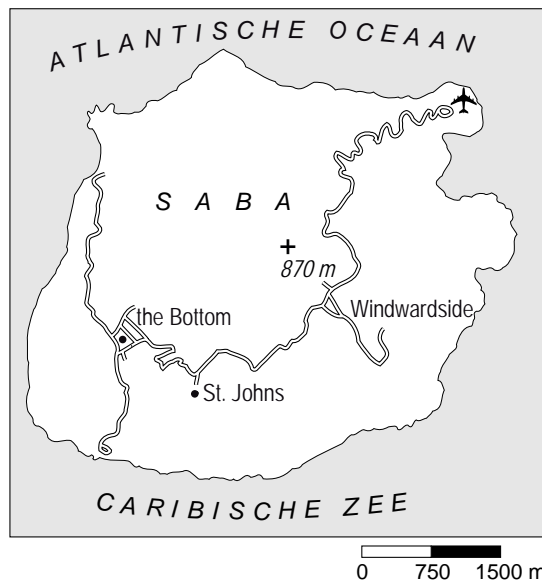
- Modern ingerichte accommodatie
- In het centrum
- Circa 50 meter van het strand
- Winkeltjes in de accommodatie aanwezig
- Ook vanaf Eindhoven, Rotterdam



- 1p 20 Bram vindt dat in de advertenties van bron 17 veel subjectieve gegevens staan. "Prachtig, adembenemend, luxe, maar dan weet je nog niets", zegt hij. In de advertenties staan echter ook objectieve gegevens.
- Geef twee voorbeelden van objectieve gegevens uit de advertenties.

bron 18

Saba

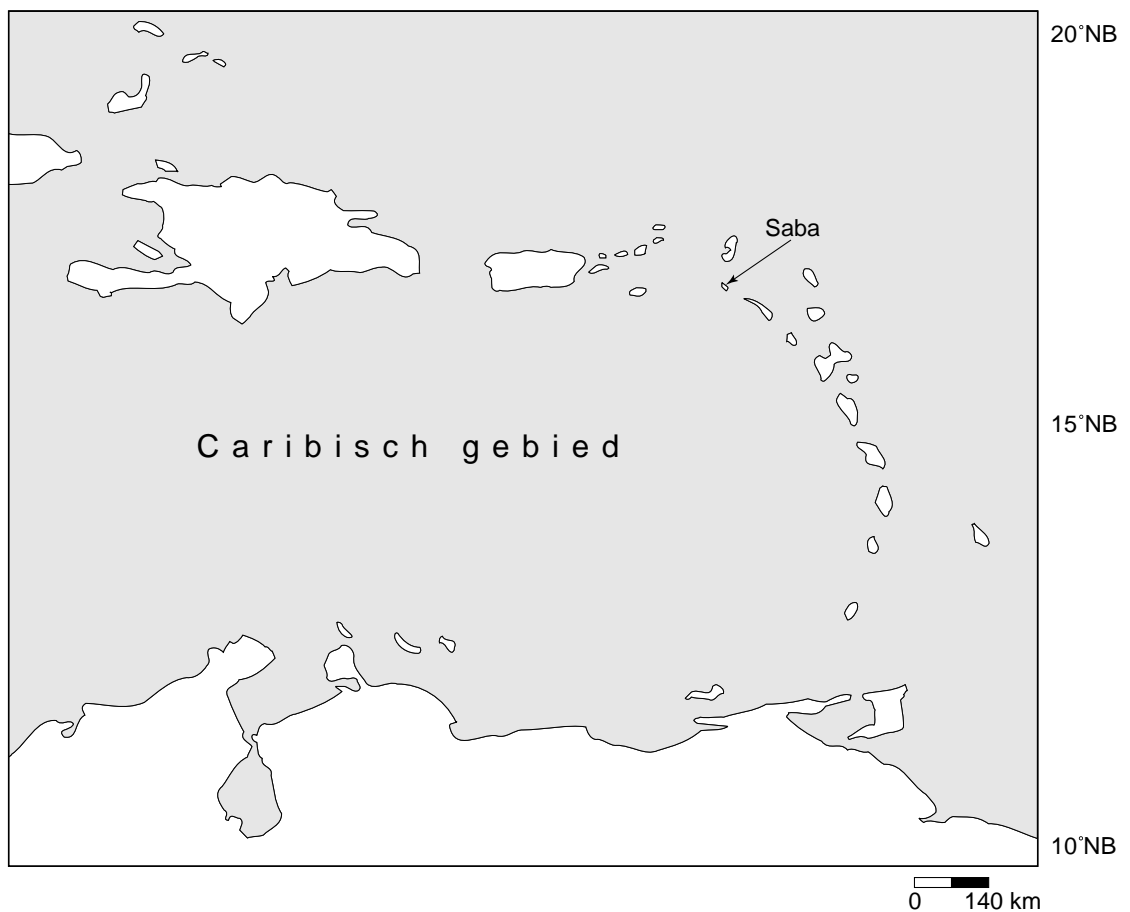


Het Antilliaanse eiland Saba is eigenlijk een slapende vulkaan, 870 meter hoog en op de top bedekt met sprookjesachtig nevelwoud. Midden in het regenwoud ligt een hotel met oog voor de natuur. Het wordt gerund door het echtpaar Tom van 't Hof, bioloog, en Heleen Cornet, kunstenares, die al twintig jaar op Saba wonen. Op het balkon van een van de kleurrijke huisjes legt Heleen uit dat ze het regenwoud nooit hebben willen kappen. "Kijk maar om je heen. Alle grote bomen hebben we laten staan, we hebben alleen kleine stukjes vrijgemaakt waar de huisjes werden

gebouwd." Maar verwacht geen luxe. Slapen in de lodge is een luxere vorm van kamperen.

bron 19

Saba in het Caribisch gebied



- 1p **21** In welke klimaatzone ligt Saba (zie bron 18 en bron 19)?
- A droge zone
 - B gematigde zone
 - C polaire zone
 - D tropische zone
- 2p **22** Hieronder staan vier uitspraken naar aanleiding van de tekst in bron 18.
- 1 Saba is een bestemming voor ecotoerisme.
 - 2 Voor Nederlanders is de relatieve afstand tot Saba groot.
 - 3 Saba trekt alleen Nederlandse toeristen.
 - 4 De hoteleigenaren richten zich op duurzaam toerisme.
- Neem de nummers van de uitspraken over op het antwoordblad en noteer van elke uitspraak of deze juist is of onjuist.

bron 20

Het Ecolodge-hotel op Saba



- 1p **23** Op bron 20 zie je het hotel waarvan sprake is in bron 18.
- Leg met behulp van de bronnen 18, 19 en 20 uit waarom het kappen van de bomen voor de bouw van het hotel toch tot milieuproblemen kan leiden.

bron 21

Vakantiebrochures

foto 1



foto 2



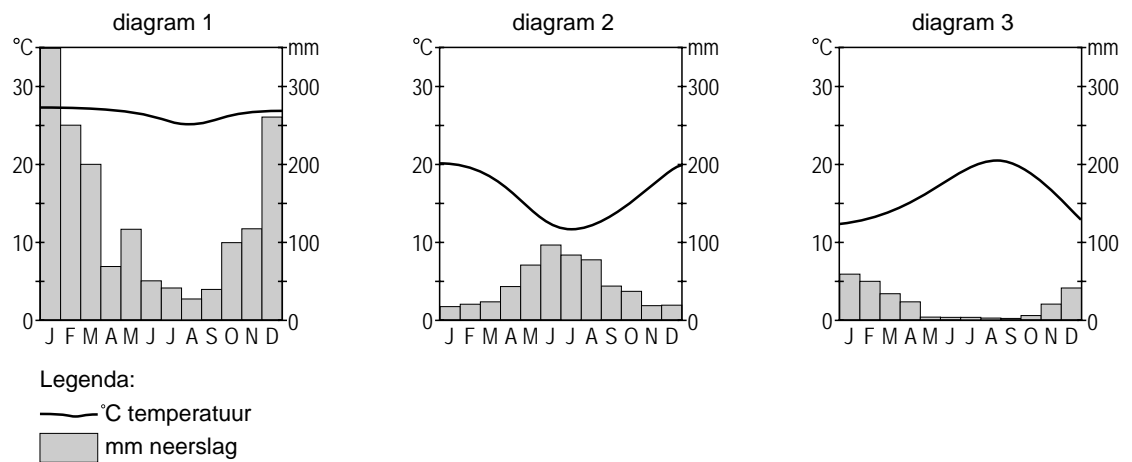
foto 3



- 1p **24** De foto's 1, 2 en 3 van bron 21 komen uit folders die drie leerlingen van het reisbureau ontvangen hebben.
 Wat is de juiste combinatie van foto en bestemming?

	foto 1	foto 2	foto 3
A	Indonesië	Zuid-Afrika	Verenigde Staten
B	Indonesië	Verenigde Staten	Zuid-Afrika
C	Zuid-Afrika	Indonesië	Verenigde Staten
D	Zuid-Afrika	Verenigde Staten	Indonesië
E	Verenigde Staten	Indonesië	Zuid-Afrika
F	Verenigde Staten	Zuid-Afrika	Indonesië

bron 22
Klimaatdiagrammen



- 2p **25** Voordat Pieter, Nabila en Joris op reis gaan, hebben zij klimaatdiagrammen opgezocht van hun bestemmingen in Indonesië, in de Verenigde Staten en in Zuid-Afrika.
 → Wat is de juiste combinatie van klimaatdiagram en bestemming?
 Neem de cijfers 1, 2 en 3 van de klimaatdiagrammen (zie bron 22) over op het antwoordblad en zet er de bijbehorende bestemming achter.