

Meerkeuzevragen

Schrijf alleen de hoofdletter van het goede antwoord op.

Open vragen

Geef niet meer antwoorden (redenen, voorbeelden e.d.) dan er worden gevraagd. Als er bijvoorbeeld twee redenen worden gevraagd en je geeft meer dan twee redenen, dan worden alleen de eerste twee in de beoordeling meegeteld.

De Nederlanders en hun vakantiebestemmingen

tabel 1

<p>Port Zélande</p> <p>Zand, zee en zon!</p>
--

prijs in euro's per vakantiebungalow				kortingen jonge gezinnen en 55+'ers	
aankomstdata 2006 maandag 15.00 uur t/m vrijdag 10.30 uur		vakantie- bungalow 4 pers.	vakantie- bungalow 6 pers.		
MIDWEEK					
4 nachten	24 april		249	289	20%
	1 mei	meivakantie	399	479	-
	8, 15, 22, 29 mei		289	329	20%
	6 juni, korte midweek (di-vr)	na Pinksteren	199	249	20%
	12, 19, 26 juni		299	369	20%
	3 juli	zomervakantie	429	499	20%
	10 juli	zomervakantie	499	599	10%
	17, 24, 31 juli, 7 augustus	zomervakantie	659	769	-
	14 augustus	zomervakantie	499	599	-
	21 augustus	zomervakantie	479	559	20%
	28 augustus, 4, 11, 18, 25 september, 2 oktober		329	379	20%
	16 oktober	herfstvakantie	389	459	-
	23 oktober	herfstvakantie	449	519	-
	30 oktober		279	329	20%

foto 1

Een vakantiebungalow in Port Z elande



Veel mensen kiezen bij het boeken van een korte of lange vakantie een vakantiebungalow op  en van de vakantieparken van onder andere Center Parcs. Deze parken liggen midden in de natuur of aan de kust. E n van de bekendste parken aan de kust is Port Z elande.

- 1p 1 Tabel 1 geeft een overzicht van de prijzen per vakantiebungalow voor een midweek-arrangement.
→ Rekenen we zo'n midweek-arrangement tot de korte vakanties of tot de lange vakanties?
Geef het argument.
- 1p 2 Yvonne bestudeert de prijstabel van Port Z elande Center Parcs. Zij komt tot de conclusie dat er sprake is van een verschil in prijs tussen hoogseizoen en laagseizoen.
→ Noem twee argumenten uit tabel 1 die Yvonne gebruikt zal hebben om tot deze conclusie te komen.

tekst 1

Port Z elande

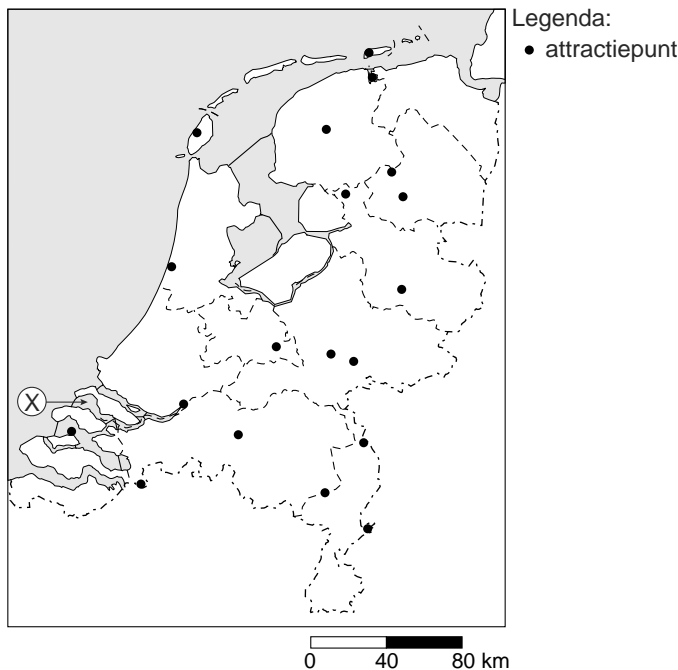
Hier ruikt u de zeelucht al in uw vakantiebungalow. Port Z elande heeft een eigen haven aan ... X ... Ideaal voor strand- en watersportliefhebbers!

U kunt romantisch wandelen op het Noordzeestrand. Of op de fiets naar het pittoreske vissersdorpje Zierikzee. En wat dacht u van paardrijden op het strand?

Is het een keer slecht weer, dan kunt u zich urenlang vermaken in de Adventure Factory. Alsof u plots in Australi  bent! Bijzonder zijn hier de hindernissen van de unieke midgetgolfbaan, deze zijn gemaakt van fietsonderdelen en oude buizen! Daarnaast kunt u in het sport- en entertainmentcentrum deelnemen aan virtueel bowlen, squash, interactief entertainment of een drankje nuttigen in het Factory Caf .

- 1p 3 In Port Z elande zijn enkele voorzieningen getroffen die ervoor zorgen dat het park in elk seizoen aantrekkelijk is.
→ Noem zo'n voorziening.

kaart 1
Attractiepunten in Nederland



- 1p 4 De aantrekkelijkheid van park Port Zélande komt vooral door de ligging aan het water. In tekst 1 en op kaart 1 is deze ligging aan het water aangegeven met de letter **X**.
Welk water moet bij **X** worden ingevuld?
- A Grevelingen
 - B Oosterschelde
 - C Veerse Meer
 - D Westerschelde
- 1p 5 Naast korte en lange vakanties kiezen mensen ook voor dagrecreatie. In Nederland heeft de recreant daarbij de keus uit een veelzijdig aanbod aan attracties.
Op kaart 1 staat één soort van attractiepunten door middel van bolletjes afgebeeld.
Welke soort attractiepunten wordt op kaart 1 aangegeven?
- A dierenparken
 - B musea en historische bouwwerken
 - C nationale parken
 - D pretparken

tekst 2**Licht krimpende vakantiemarkt in 2005**

Tussen 1 oktober 2004 en 30 september 2005 ging 80,8% van de Nederlandse bevolking minstens eenmaal op vakantie (in 2004 was dat nog 81,2%).

Diegenen die in 2005 op vakantie zijn geweest, zijn ook iets minder vaak gegaan dan het jaar daarvoor (gemiddeld 2,77 keer in 2005; gemiddeld 2,82 keer in 2004).

Het totaal aantal vakanties kwam daarmee op 34,4 miljoen; zo'n 750.000 minder dan in de voorgaande periode in 2004. ... **1** ... blijft de top-10 van buitenlandse bestemmingen aanvoeren, gevolgd door Duitsland en België.

Sterkste groeier is echter, net als voorgaande jaren, ... **2** ...

- 1p **6** In bovenstaande tekst zijn de namen van twee landen vervangen door de nummers 1 en 2.

Welke landen moeten er bij deze nummers worden ingevuld?

	1	2
A	Frankrijk	Turkije
B	Frankrijk	Italië
C	Spanje	Italië
D	Spanje	Turkije

- 1p **7** Wat is de belangrijkste reden voor deze daling van het aantal Nederlanders dat tussen 2004 en 2005 op vakantie ging?

teksten 3, 4, 5, 6 en 7

Vijf advertenties voor verschillende vakanties in Europa

tekst 3

Een vakantie op Sardinië (Italië)

Sinds 1985 organiseert Amfibie Treks reizen/vakanties voor iedereen die wil genieten van zon, zee en natuur. Zo kan men op Sardinië zeilen of andere watersporten beoefenen.

tekst 4

Een vakantie op zonnig Sardinië

Beleef de geur van kruiden en pijnbomen tijdens deze wandelvakantie. Tijdens de omzwervingen zie je prachtige kleurrijke velden, valleien en bergen. Op Sardinië komen we langs traditionele dorpjes waar de tijd lijkt stil te staan. Daar bezoeken we kerkjes en historische plaatsen en zien we traditioneel geklede vrouwen en mannen.

tekst 5

Dansen voor beginners en gevorderden

Beleef het in Andalusië; leer tango én salsa in Zuid-Spanje. Dit alles in een persoonlijke en ongedwongen sfeer en in een authentiek Spaanse omgeving.

tekst 6

Voor de liefhebber organiseren wij al meer dan 20 jaar teken- en schildercursussen

Vlakbij de Belgische Ardennen ligt een prachtig kasteel waar teken- en schildercursussen plaatsvinden. Het kasteel ligt in een parkachtig landschap te midden van een beschermd natuurgebied. Een week schilderen betekent dan ook een week volop genieten.

tekst 7

Een vakantie op de Canarische Eilanden

De ongeveer 1500 kilometer kust van de Canarische Eilanden met rondom de Atlantische Oceaan zorgt ervoor dat men gegarandeerd kan genieten van het gunstige klimaat. Men kan het hele jaar door aan het strand zonnen, in zee baden of rustig naar de zee te kijken.

- 2p **8** Mark en Annemiek zijn bezig met het uitzoeken van een vakantie. Ze zijn op zoek naar een cultuurvakantie en willen ook graag actief bezig zijn. Ze houden helemaal niet van massatoerisme.
In de krant zien ze vijf advertenties (de teksten 3, 4, 5, 6 en 7) staan.
→ Geef van elke advertentie aan of deze wel of niet past bij de wensen van Mark en Annemiek.
- 1p **9** Welke van de bovenstaande vakanties rekenen we tot de verre vakantiebestemmingen?
- A** alleen de vakanties genoemd in de teksten 3 en 4
 - B** alleen de vakanties genoemd in de teksten 4 en 5
 - C** alleen de vakanties genoemd in de teksten 5 en 6
 - D** alleen de vakanties genoemd in de teksten 6 en 7
 - E** alle vakanties genoemd in de teksten
 - F** geen van de vakanties genoemd in de teksten

tekst 8

Een advertentie

Spanje/Portugal	Turkije
Portugal 8 dgn vanaf € 199 p.p.	Kusadasi 8 dgn vanaf € 199 p.p.
Spanje 8 dgn vanaf € 299 p.p.	Side 8 dgn vanaf € 199 p.p.
Gran Canaria 8 dgn vanaf € 295 p.p.	Marmaris 8 dgn vanaf € 199 p.p.
Portugal ALL INCLUSIVE 8 dgn vanaf € 450 p.p.	Bodrum ALL INCLUSIVE 8 dgn vanaf € 225 p.p.

- 1p **10** In de aardrijkskundeles hebben Nadia en Raisa het over de advertentie van tekst 8. Ze verschillen met elkaar van mening of je de bovenstaande aanbiedingen moet rekenen tot het massatoerisme of het elitetoerisme. Nadia is van mening dat de aanbiedingen zijn gericht op massatoerisme en Raisa denkt dat ze gericht zijn op elitetoerisme.
- Wie van de twee heeft er gelijk?
Kies eerst voor Nadia of Raisa en geef daarna een argument waarop Nadia of Raisa haar mening heeft gebaseerd.
- 2p **11** Er is een duidelijk verband tussen zon- en strandvakanties en overmatig watergebruik. Voor toeristische voorzieningen wordt veel water gebruikt (volgens het NC-IUCN). Tegenover de 250 liter water die een Spanjaard gemiddeld per dag gebruikt, gebruikt een toerist dagelijks zo'n 440 liter. Dit is afhankelijk van de activiteiten die de toerist onderneemt. Het watergebruik kan zelfs oplopen tot bijna 900 liter water per dag. Dit is het geval wanneer zwembaden en golfbanen (die gespreid moeten worden) meegerekend worden.
- Geef twee voorbeelden van problemen die kunnen ontstaan door het overmatig watergebruik van toeristen in het Middellandse Zeegebied.

tekst 9

Ontwikkelingslanden als vakantiebestemming

Ontwikkelingslanden worden steeds belangrijker vakantiebestemmingen. Volgens de World Tourism Organization reist meer dan 30% van de internationaal reizende toeristen naar ontwikkelingslanden. Van de Nederlandse toeristen reist 8% naar bestemmingen in ontwikkelingslanden.

- 1p 12 Naar aanleiding van tekst 9 doet Kim drie uitspraken:
- 1 Nederlanders die naar ontwikkelingslanden in Azië op vakantie gaan, rekenen we allemaal tot massatoerisme.
 - 2 Vakantiebestemmingen naar ontwikkelingslanden in Afrika zijn allemaal natuurvakanties.
 - 3 Tot de vakantiebestemmingen in ontwikkelingslanden behoren ook bestemmingen als Egypte en het Caribisch gebied.
- Welke uitspraak is of welke uitspraken zijn juist?
- A alleen 1
 - B alleen 2
 - C alleen 3
 - D alleen 1 en 2
 - E alleen 1 en 3
 - F alleen 2 en 3

tabel 2

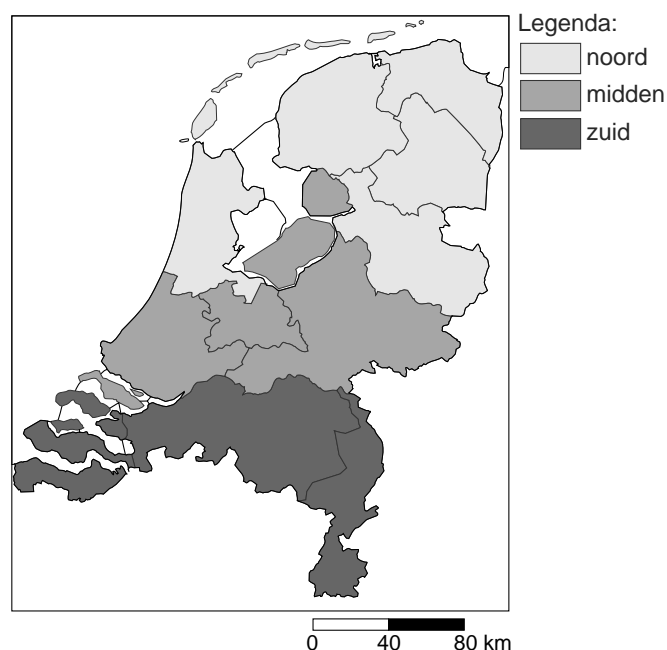
Vakantiedata schooljaar 2007 - 2008 per regio en onderwijstype

Vakantie	Regio	Onderwijstype*	Data
Herfst	noord	bo+vo	13-10-07 t/m 21-10-07
Herfst	midden/zuid	bo+vo	20-10-07 t/m 28-10-07
Kerst	noord/midden/zuid	bo+vo	22-12-07 t/m 06-01-08
Voorjaar	zuid	bo+vo	16-02-08 t/m 24-02-08
Voorjaar	noord/midden	bo+vo	23-02-08 t/m 02-03-08
Mei	noord/midden/zuid	bo+vo	26-04-08 t/m 05-05-08
Zomer	noord	bo	28-06-08 t/m 10-08-08
Zomer	noord	vo	28-06-08 t/m 17-08-08
Zomer	zuid	bo	05-07-08 t/m 17-08-08
Zomer	zuid	vo	05-07-08 t/m 24-08-08
Zomer	midden	bo	19-07-08 t/m 31-08-08
Zomer	midden	vo	12-07-08 t/m 31-08-08

* bo = basisonderwijs / speciaal onderwijs; vo = voortgezet onderwijs

kaart 2

Nederland



- 1p **13** In de meeste schoolagenda's worden de schoolvakanties genoemd. De vakanties in Nederland zijn in drie groepen verdeeld (zie tabel 2 en kaart 2):
- in periodes: voorjaar, mei, zomer, herfst en kerst
 - naar gebied: noord, midden en zuid
 - naar basis- en voortgezet onderwijs
- Wat wil de overheid met deze vakantie-indeling, zoals in tabel 2 en kaart 2 te zien is, bereiken?
- A** een grotere vakantieparticipatie
 - B** meer vakantiespreiding
 - C** reclame maken voor vakantiegebieden in Nederland
 - D** vergroten van de recreatiedruk
- 1p **14** Hans, Fuat en Peter zijn alle drie 15 jaar en vrienden van elkaar. Ze hebben besloten in de zomervakantie een trektocht per fiets te maken door Nederland. Het probleem is echter dat ze in verschillende delen van ons land wonen. Hans woont in Utrecht, Fuat in Assen en Peter in Maastricht. Ze moeten dus eerst een geschikte datum vinden waarop ze allemaal vakantie hebben. Op welke datum kunnen zij volgens tabel 2 het vroegst op vakantie gaan?
- A** op 29 juni
 - B** op 6 juli
 - C** op 13 juli
 - D** op 20 juli

tekst 10

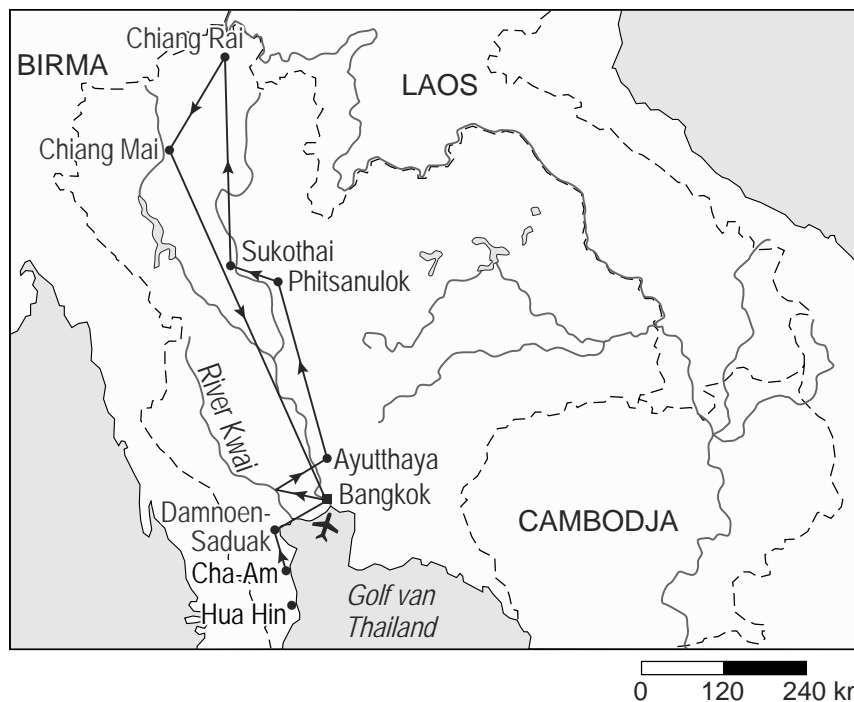
THAILAND!

Ontdek prachtig Thailand – fascinerende 15-daagse vlieg-/rondreis

We bezoeken o.a. Bangkok, River Kwai, Ayutthaya, Saraburi en brengen de laatste dagen door aan één van de hagelwitte stranden aan de Golf van Thailand.

- Dag 1:** non-stop vliegtreis Amsterdam-Bangkok
- Dag 2:** transfer naar het hotel, vrije middag
- Dag 3:** Bangkok met o.a. het Grand Palace met zijn Wat Phra Keo tempel, de sfeervolle groenten- en fruitmarkt en de kleurrijke bloemenmarkt. Vrije middag, facultatieve tocht door de kanalen (klongs)
- Dag 4:** vrije dag, facultatief naar de bekende drijvende markt van Damnoen Saduak of de populaire tocht 'Fietsen in Bangkok'
- Dag 5:** 'Bridge on the river Kwai' en het erekerkhof
- Dag 6:** de oude stad Ayutthaya en Pitsanulok, gelegen aan de rivier de Nan, met vele woonboten en drijvende restaurants
- Dag 7:** de oude stad Sukothai, vroeger een kosmopolitisch koninkrijk en vervolgens op weg naar Chiang Rai
- Dag 8:** kennismaking met traditierijke bergstammen in de ruige bergen van

- Noord-Thailand, de 'Golden Triangle' waar Birma, Laos en Thailand samenkomen, boottocht over de Mekong rivier
- Dag 9:** via de prachtige Doi Sakhet Highway rijden we naar Chiang Mai, waar we de handvaardigheidsindustrie en de zijde-industrie bekijken
- Dag 10:** bezoek aan een olifantenschool, een orchideeënkwekerij en de Doi Suthep tempel
- Dag 11:** vrije dag, facultatieve fietstocht in de omgeving van Chiang Mai en vervolgens per slaaptrein terug naar Bangkok
- Dag 12:** langs de apentempel (Kao Yoi) in Petchaburi naar de rustige badplaats Cha-Am met authentieke sfeer
- Dag 13:** vrije dag in Cha-Am, u verblijft in een hotel vlakbij het strand
- Dag 14 en 15:** transfer naar de luchthaven van Bangkok en terugvlucht en aankomst op Schiphol



- 2p **15** Volgens de advertentie (zie tekst 10) staat op dag 8 een kennismaking met traditierijke bergstammen op het programma.
Melissa beweert dat je zo'n kennismaking eigenlijk niet zou moeten organiseren.
Rodion beweert dat je zo'n kennismaking juist wel moet organiseren.
→ Geef eerst een argument dat Melissa zou kunnen gebruiken voor haar bewering en geef daarna een argument dat Rodion zou kunnen gebruiken.
- 1p **16** Volgens de advertentie (zie tekst 10) worden op dag 9 de handvaardigheidsindustrie en de zijde-industrie in de omgeving van Chiang Mai bekeken.
Bij veel georganiseerde busexcursies in Thailand worden steeds dezelfde bedrijven bezocht. Dit gebeurt naar aanleiding van een project van de Thaise koningin om negatieve gevolgen van deze busexcursies zoveel mogelijk te voorkomen.
→ Welk negatief gevolg van deze busexcursies hoopte de koningin van Thailand te voorkomen door het bezoek op enkele plaatsen te concentreren?
- 1p **17** Toch leidde dit project van de koningin van Thailand zelf ook weer tot negatieve gevolgen.
→ Noem zo'n negatief gevolg.

foto's 2, 3, 4 en 5
Bezienswaardigheden in Thailand

foto 2



foto 3



foto 4



foto 5



1p **18** De foto's 2, 3, 4 en 5 zijn genomen op plaatsen die bij de rondreis van de advertentie (zie tekst 10) bezocht worden.

Wat is de juiste volgorde van de foto's volgens het reisschema van de advertentie?

- A** 5, 3, 2, 4
- B** 3, 4, 5, 2
- C** 4, 2, 5, 3
- D** 3, 4, 2, 5
- E** 5, 4, 3, 2
- F** 4, 5, 2, 3

tekst 11

Geniet van de overweldigende luxe in onze 'all-inclusive' resorts

Een aantal maatregelen behoort dan ook tot ons standaard verzorgingspakket:

- 1 De paradijselijke tuinen worden constant gespreeid om voor u een groene oase van rust te scheppen, ook in het droge seizoen.
- 2 Handdoeken en bedlinnen worden dagelijks verschoond.
- 3 Eten en drinken zijn van de beste kwaliteit en worden dan ook vanuit het westen ingevlogen.
- 4 U hebt geen last van opdringerige souvenirverkopers, want deze worden door onze eigen beveiligingsdienst buiten het resort gehouden.

- 1p **19** Hoewel niet iedereen het over hetzelfde heeft als er gesproken wordt van duurzaam toerisme, wordt er in ieder geval mee bedoeld dat men 'verantwoord' met vakantie gaat. Dat wil zeggen dat er rekening gehouden wordt met mens, natuur en milieu. De natuur en het milieu ter plekke mogen niet of nauwelijks te lijden hebben onder het toerisme. De plaatselijke bevolking moet kunnen profiteren van het toerisme en ook volgende generaties moeten het door het toerisme beter krijgen. Welke maatregelen uit de advertentie van tekst 11 passen bij duurzaam toerisme?
- A 1 en 2
 - B 3 en 4
 - C alle maatregelen
 - D geen van deze maatregelen

afbeelding 1



- 2p **20** Vliegereizen worden tegenwoordig vaak heel goedkoop aangeboden, zoals bijvoorbeeld blijkt uit afbeelding 1. Toch is dit bedrag van € 19 misleidend.
→ Geef hiervoor drie redenen.

foto 6

Spanje raakt je



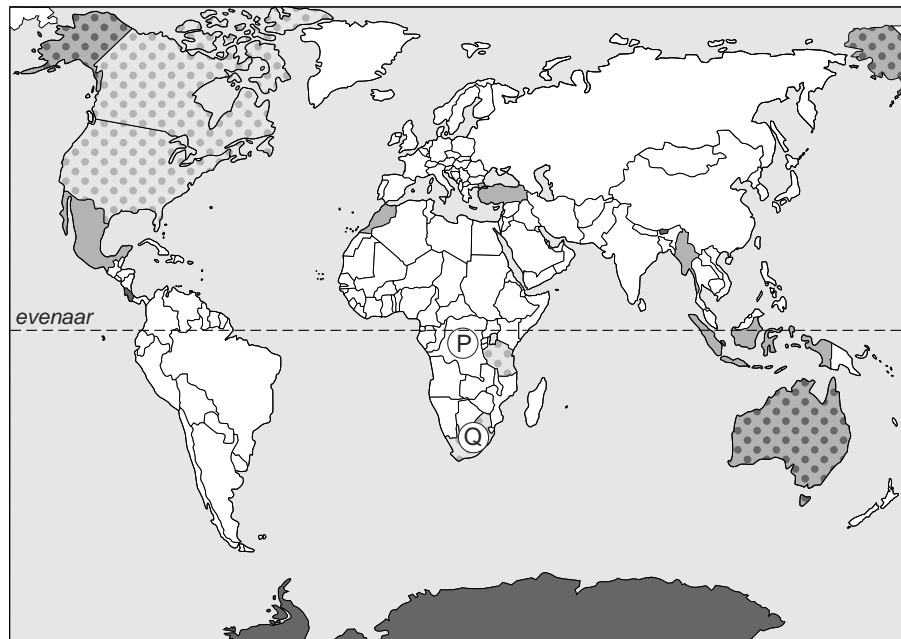
tekst 12

Aan twee kanten zee en aan een kant de oceaan. Een kustlijn van meer dan 7.800 kilometer; 445 stranden aan een strakblauwe zee; 300 dagen zon per jaar. En de beste hotels van Europa. Bezoek Spanje en geef u over aan een leven van zon en zee. Uw zongebrande huid zal later misschien wat verbleken, maar uw herinneringen zijn onuitwisbaar.

- 2p **21** Op grond van bovenstaande foto en tekst ontstaat er in de klas een discussie tussen Frank en Camilla over het wel of niet manipuleren van informatie voor mogelijke toeristen. Camilla vindt dat er aan manipulatie wordt gedaan in de tekst.
- Geef twee voorbeelden uit de tekst die Camilla genoemd zal hebben.

kaart 3

Vakantiebestemmingen van Nederlanders



Legenda:

- 1 bestemmingen met duurzaam toerisme
- 2 natuur bestemmingen
- 3 avontuurlijke bestemmingen
- 4 cultuur bestemmingen

0 2400 4800 km

- 2p **22** Op kaart 3 staan verschillende vakantiebestemmingen in de wereld. Hieronder staan vier verschillende uitspraken over een aantal van die vakantiebestemmingen.
- 1 In al de gebieden of landen met legenda-onderdeel 4 is de bevolking voornamelijk moslim.
 - 2 De gebieden of landen van legenda-onderdeel 4 hebben allemaal een warm klimaat.
 - 3 Kenmerkend voor de vegetatie van gebied P en Q is het tropisch regenwoud.
 - 4 Antarctica is een voorbeeld van een natuurvakantie.
- Welke twee uitspraken zijn juist?