

Meerkeuzevragen

Schrijf alleen de hoofdletter van het goede antwoord op.

Open vragen

Geef niet meer antwoorden (redenen, voorbeelden e.d.) dan er worden gevraagd. Als er bijvoorbeeld twee redenen worden gevraagd en je geeft meer dan twee redenen, dan worden alleen de eerste twee in de beoordeling meegeteld.

Migratie en de multiculturele samenleving

kaart 1

Vijf belangrijke herkomstlanden van immigranten in Nederland



- 1p 1 Op kaart 1 zijn vijf landen aangegeven met de letters P, Q, R, S en T. Dit zijn vijf belangrijke herkomstlanden van immigranten in Nederland. Uit één van deze landen kwam de grootste groep immigranten al in de jaren vijftig van de vorige eeuw in Nederland. Welk land is dat?
- A P
 - B Q
 - C R
 - D S
 - E T

- 2p **2** Uit drie van deze herkomstlanden (zie kaart 1) hadden de immigranten bij aankomst de Nederlandse nationaliteit. Ze zijn ook allochtoon.
De immigranten uit de twee andere herkomstlanden waren bij aankomst in Nederland zowel allochtoon als niet-Nederlander.
→ Noteer de letters waarmee deze laatste twee herkomstlanden op de kaart worden aangegeven op het antwoordblad.
- 1p **3** Hieronder staan vier uitspraken over het wonen van allochtonen in de steden van Nederland.
Welke uitspraak is juist?
- A** Allochtonen wonen in de grote steden gelijkmatig verspreid over de verschillende wijken.
 - B** Allochtonen wonen meestal in woningen aan de rand van de stad.
 - C** De wijken rondom het centrum zijn een belangrijk vestigingsgebied voor allochtonen.
 - D** Minder allochtonen wonen naar verhouding in achterstandswijken dan in nieuwbouwwijken.

foto's 1 en 2

Migranten in Nederland

foto 1



foto 2



Nadia en Ilona maken een posterpresentatie over migranten in Nederland. Nadia heeft de foto's uitgezocht en Ilona heeft vier teksten gevonden. Hierboven zie je twee foto's die Nadia gekozen heeft. Hieronder staan in willekeurige volgorde vier teksten die Ilona heeft gevonden.

tekst 1

In de jaren zeventig gingen veel arbeidsmigranten regelmatig terug naar huis.

tekst 2

Arbeidsmigranten van de eerste generatie waren voor woonruimte vaak aangewezen op pensions.

tekst 3

Eind jaren zeventig kwam de gezinshereniging al op gang.

tekst 4

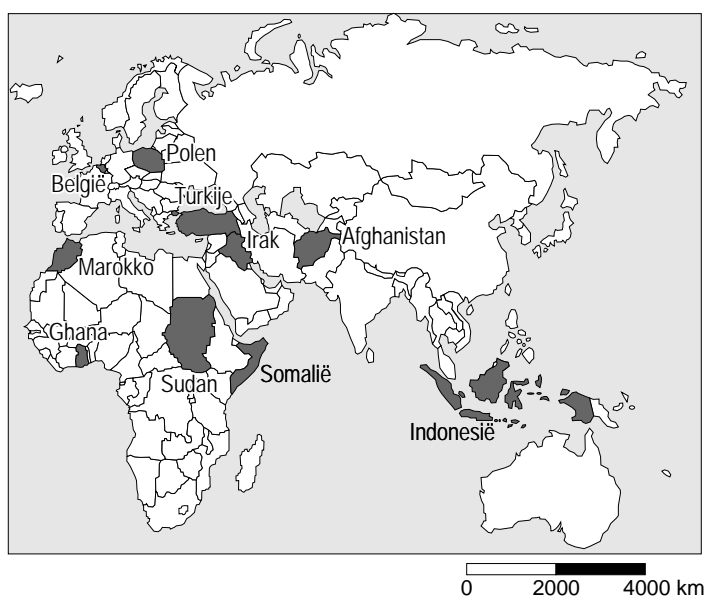
Vanaf de jaren negentig kwam de gezinsvorming op gang.

- 1p **4** Welke tekst past het best bij foto 1?
A tekst 1
B tekst 2
C tekst 3
D tekst 4
- 1p **5** Welke tekst past het best bij foto 2?
A tekst 1
B tekst 2
C tekst 3
D tekst 4
- 2p **6** Arbeidsmigranten van de eerste generatie waren voor woonruimte vaak aangewezen op pensions. De meeste arbeidsmigranten uit deze generatie kozen juist met opzet voor deze manier van wonen.
→ Geef twee redenen voor deze keuze.

tabel 1
Immigratie van niet-Nederlanders naar immigratiemotief, 2003
(absolute aantallen)

	Arbeid	Asiel	Gezinshereniging	Meemigrerend gezinslid	Gezinsvorming	Studie
Geboorteland						
Afghanistan	1	892	584	3	322	3
P	758	-	273	61	65	99
Q	5	215	88	1	35	11
R	850	229	1120	56	3881	147
Indonesië	53	13	112	16	563	449
Marokko	148	55	1196	20	2929	147
Irak	5	798	249	3	178	1
S	4	274	44	-	63	4
Ghana (Afrika)	98	21	69	-	282	75
Polen	775	5	260	64	662	233

kaart 2
Deel van de wereld



- 1p 7 In tabel 1 worden motieven voor migratie naar Nederland aangegeven voor een aantal immigrantengroepen. Op vier plaatsen ontbreken de namen van landen. In alfabetische volgorde zijn dit België, Somalië, Sudan en Turkije. Welke letter geeft de immigratie uit België weer?
- A letter P
 - B letter Q
 - C letter R
 - D letter S

tekst 5

Welvarende allochtonen 'vluchten' uit Amsterdam

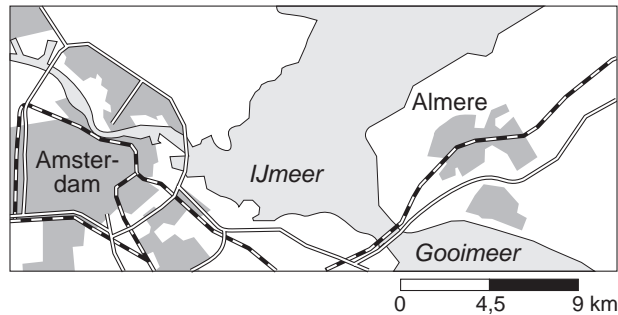
Welvarende allochtonen verhuizen massaal uit Amsterdam naar buurgemeenten als Almere. De 'zwarte vlucht' uit de grote stad heeft dezelfde oorzaken als de massale verhuizing van autochtone gezinnen richting randgemeenten van de afgelopen decennia, de zogenaamde 'witte vlucht'.

Dit blijkt uit onderzoek naar het verhuisgedrag van allochtonen dat het ministerie van VROM in maart 2005 publiceerde. In 1994 was één op de zeven inwoners die Amsterdam de rug toekeerde, allochtoon. In 2003 gold dat voor een kwart van de verhuizende Amsterdammers.

Voor Almere is populair, schrijven de onderzoekers van de Vrije Universiteit.

kaart 3

Almere

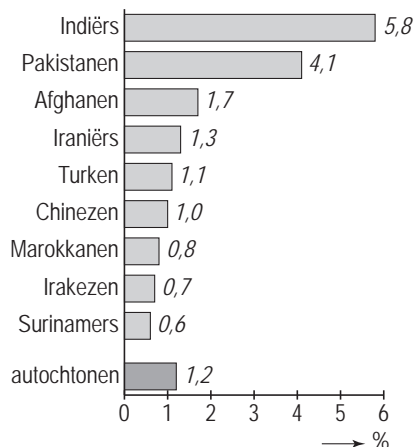


- 2p **8** In tekst 5 wordt de migratie van welvarende allochtonen uit Amsterdam besproken. Ze noemen het in de tekst de 'zwarte vlucht'.
→ Geef twee redenen waarom vooral Almere zo populair is als vestigingsplaats voor de deelnemers aan de 'zwarte vlucht' uit Amsterdam.
- 1p **9** In het algemeen is suburbanisatie van welvarende stedelingen ongunstig voor de stad. Toch heeft het voor de stad Amsterdam ook positieve gevolgen als welvarende stedelingen de stad verlaten.
→ Noem een positief gevolg voor de stad Amsterdam op het gebied van de woningbouw.

diagram 1

Deelname van niet-westerse allochtonen in de Nederlandse detailhandel (winkels)

percentage werkzame bevolking
met eigen winkel



de gemiddelde winst over 2001 in euro's

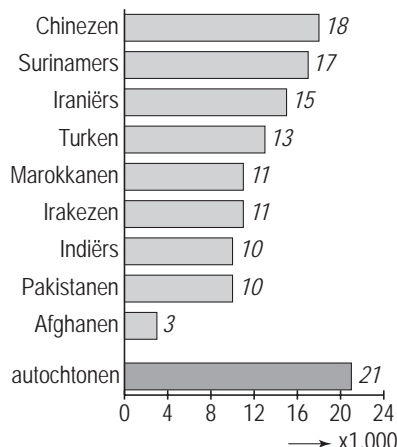
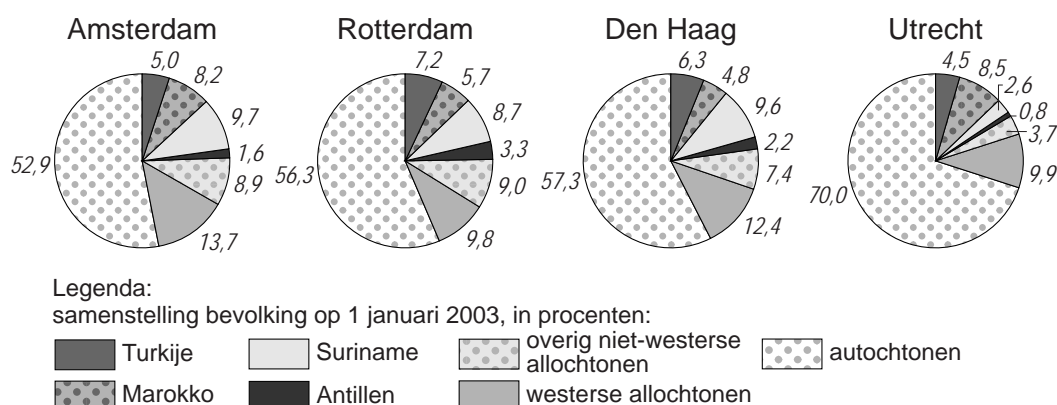


Diagram 1 gaat over de deelname van niet-westerse allochtonen en autochtonen in de Nederlandse detailhandel (winkels).

- 1p **10** Volgens diagram 1 zijn de winkels van niet-westerse allochtonen minder winstgevend dan die van hun autochtone collega's.
→ Waarom zijn deze winkels minder winstgevend?
- 1p **11** Geef een reden waarom er steeds meer niet-westerse allochtone winkeleigenaren in Nederland komen.
- 1p **12** De Nederlandse regering is er een groot voorstander van dat niet-westerse allochtonen winkelbedrijven openen. "Dit is gunstig voor de integratie", zegt de regering.
→ Leg uit waarom dit een gunstig effect op de integratie heeft.
- 1p **13** Naar aanleiding van diagram 1 staan hieronder vier uitspraken.
- Als het om eigen winkelbezit gaat, zijn Pakistaniërs in verhouding minder ondernemend dan Nederlanders.
 - Er zijn naar verhouding maar weinig Surinamers die een eigen winkel beginnen maar hun gemiddelde winst is hoger dan bij Turkse ondernemers.
 - Een goede titel boven de tekst zou zijn: 'Indiërs, Pakistaniërs en Afghanen meest ondernemend, minst winstgevend'.
 - Chineze winkels zijn voornamelijk te vinden in de vier grote steden.
- Welke twee uitspraken zijn juist?

diagram 2
Allochtonen en autochtonen in de vier grote steden, in procenten



- 1p **14** Diagram 2 geeft de samenstelling van de bevolking in de vier grote Nederlandse steden weer op 1 januari 2003.
 In Den Haag zitten bijna alle ambassades.
 Amsterdam is echter de hoofdstad van Nederland.
 Toch heeft Amsterdam het grootste aandeel westerse allochtonen.
 → Geef hiervoor een reden.
- 1p **15** Volgens diagram 2 is het aantal allochtonen in Amsterdam in 2003 al bijna 50 procent. Het ligt dan ook voor de hand dat er in de komende jaren uiteindelijk meer westerse en niet-westerse allochtonen in Amsterdam zullen wonen dan autochtonen.
 Wat is de belangrijkste reden hiervoor?
- A** Het geboortecijfer onder autochtonen is hoger dan onder allochtonen.
B Het geboortecijfer onder allochtonen is hoger dan onder autochtonen.
C Het emigratiecijfer onder allochtonen is hoger dan onder autochtonen.
D Het immigratiecijfer onder autochtonen is hoger dan onder allochtonen.

tabel 2

Westerse en niet-westerse allochtonen in de vier grote steden, in absolute aantallen op 1 januari 2003

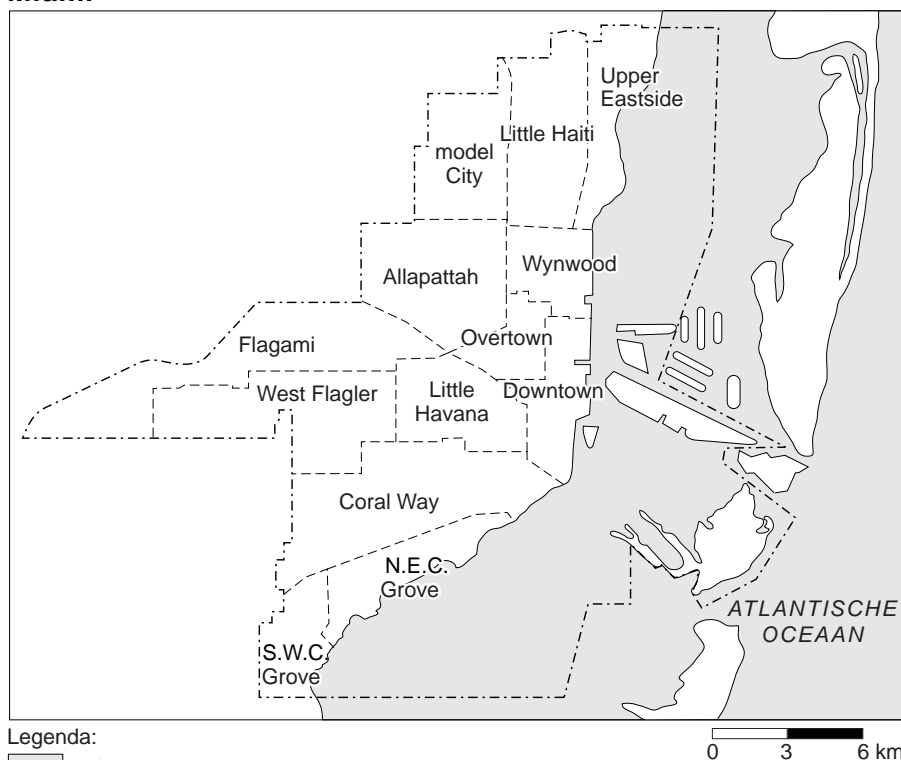
steden	uit niet-westerse landen	waaronder, uit				uit westerse landen
		Turkije	Marokko	Suriname	Ned. Antillen en Aruba	
P	246.512	36.614	60.835	71.537	11.714	100.985
Q	140.790	29.301	22.280	44.285	10.380	57.541
R	53.255	11.775	22.540	6.671	2.152	26.241
S	203.048	43.327	34.158	52.148	20.039	59.108

- 1p **16** In de tabel zijn westerse en niet-westerse allochtonen in absolute aantallen weergegeven voor de vier grote steden per 1 januari 2003.

De namen van de vier grote steden zijn in tabel 2 vervangen door de letters P, Q, R en S.

Welke letter staat voor de stad Utrecht?

- A** P
- B** Q
- C** R
- D** S

kaart 4
Miami

tabel 3

Enige gegevens bevolkingsonderzoek Miami, 2000

gebied	bevolking	huis- houdens	gezinnen	gezins- inkomen	% Latijns- Amerikanen	% Afro- Amerikanen	% Blanken	% Overig
Allapattah	40.406	12.508	8.224	\$19.141,53	72,23	18,35	6,89	2,55
Coral Way	55.951	21.363	14.105	\$37.168,89	81,10	0,41	17,28	1,21
Downtown	13.932	6.379	2.633	\$38.702,66	64,27	9,17	23,08	3,49
Little Havana	49.206	19.341	11.266	\$15.213,16	90,08	3,79	5,14	0,96
Flagami	38.691	13.896	101.141	\$26.641,30	90,08	1,85	7,68	0,36
Little Haiti	29.128	9.368	6.181	\$18.887,49	14,74	64,92	4,78	15,56
Model City	23.009	7.772	5.428	\$18.809,87	3,04	94,69	0,59	1,68
N.E.C. Grove	9.812	5.113	2.221	\$63.617,82	35,24	2,25	60,96	1,55
Overtown	10.029	3.646	2.128	\$13.211,99	19,90	74,77	3,27	2,05
S.W.C. Grove	9.141	3.477	2.082	\$67.063,36	14,80	48,27	35,27	1,66
Upper East side	15.056	6.263	3.167	\$35.196,16	28,60	40,10	25,09	6,21
West Flagler	41.012	14.810	10.490	\$26.176,70	90,73	1,15	7,61	0,49
Wynwood	14.819	6.221	2.987	\$11.293,93	58,51	17,51	21,55	2,42

- 1p **17** Aan de Atlantische kust van Florida (de Verenigde Staten) ligt Miami. De stad Miami met ruim 360.000 inwoners is multicultureel. Bijna 55% van de bevolking is buiten de Verenigde Staten geboren. Velen daarvan komen uit het Caribisch gebied. Zo komt 23% van de bevolking van Miami (oorspronkelijk) uit Haïti. Op kaart 4 vind je in het noorden de wijk 'Little Haiti', genoemd naar het eiland Haïti. Je begrijpt dat deze wijk haar naam niet voor niets gekregen heeft.
- Met welk aardrijkskundig begrip wordt dit verschijnsel van concentratie aangeduid dat een bevolkingsgroep in een bepaald deel van een stad woont?
- 2p **18** In tabel 3 staan enkele kenmerken van de wijken op kaart 4. Opvallend is bijvoorbeeld dat in de wijk Downtown, het stadscentrum, het aantal huishoudens 6.379 bedraagt en het aantal gezinnen 2.633. Verreweg het grootste gedeelte van de huishoudens bestaat dus niet uit gezinnen.
- Noem twee redenen waarom in het stadscentrum naar verhouding minder gezinnen wonen.
- 1p **19** Na Latijns-Amerikanen zijn Afro-Amerikanen en blanken de grootste bevolkingsgroepen in Miami.
- Noteer eerst de verhoudingsgewijs meest blanke wijk en daarna de verhoudingsgewijs meest zwarte wijk in Miami.

tekst 6

Vluchteling Ivan aan het woord

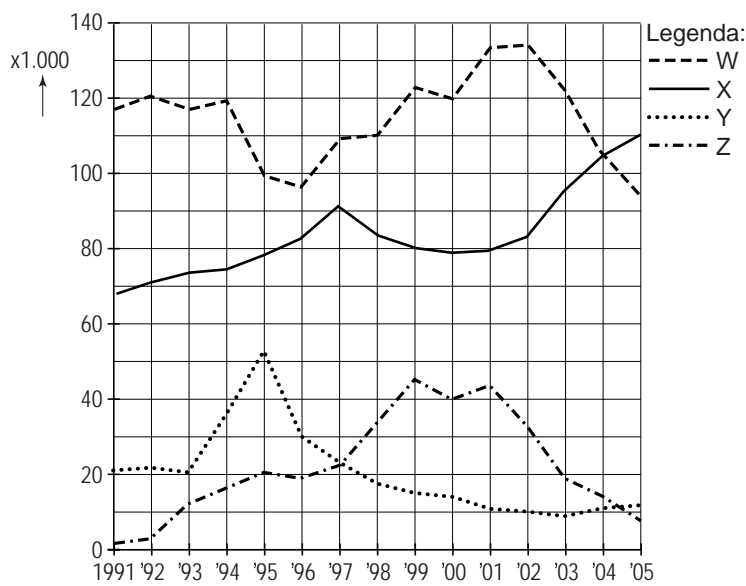
Ik was 17 toen ik in 1995 uit Joegoslavië vluchtte.

Mijn vader en mijn oudere broer werden in 1995 gevangen genomen en daarom besloten wij te vluchten. Mijn zusje en mijn moeder vluchtten naar Zagreb. Maar voor mij was het daar niet veilig. Ik vluchtte alleen naar Nederland en meldde mij bij de marechaussee op Schiphol.

- 1p **20** In tekst 6 vertelt Ivan waarom hij naar Nederland is gekomen. Wat was Ivan in 1995?
- A Ivan was een illegale vluchteling.
 - B Ivan was een AMA.
 - C Ivan was een remigrant.
 - D Ivan was een gastarbeider.
- 1p **21** Welke instelling neemt een besluit over het asielverzoek van Ivan?
- 1p **22** Regelmatig leidde het plan om ergens een asielzoekerscentrum te bouwen tot grote onrust en protesten van de plaatselijke bevolking. De meeste asielzoekerscentra liggen buiten de Randstad.
- Waarom liggen de meeste asielzoekerscentra buiten de Randstad?
- 2p **23** Tegenwoordig gaan veel asielzoekerscentra (AZC's) weer sluiten. Eerst stond de plaatselijke bevolking nogal huiverig tegenover de vestiging van een AZC. Later hoorde je ook protesten tegen de sluiting van zo'n AZC.
- Geef twee redenen voor de protesten van de plaatselijke bevolking als een asielzoekerscentrum weer dicht gaat.

grafiek 1

Migratie en asielverzoeken in Nederland, 1991 - 2005



Grafiek 1 gaat over migratie en asielverzoeken in Nederland over de periode 1991 tot 2005.

In willekeurige volgorde stellen de lijnen W, X, Y en Z voor:

emigratie, immigratie, aantal ingewilligde asielverzoeken en aantal nieuwe asielverzoeken.

- 1p **24** Wat stelt lijn W voor?
- A aantal asielverzoeken
 - B aantal ingewilligde asielverzoeken
 - C emigratie
 - D immigratie
- 1p **25** Wat stelt lijn Z voor?
- A aantal asielverzoeken
 - B aantal ingewilligde asielverzoeken
 - C emigratie
 - D immigratie