

Meerkeuzevragen

Schrijf alleen de hoofdletter van het goede antwoord op.

Open vragen

Geef niet meer antwoorden (redenen, voorbeelden e.d.) dan er worden gevraagd. Als er bijvoorbeeld twee redenen worden gevraagd en je geeft meer dan twee redenen, dan worden alleen de eerste twee in de beoordeling meegeteld.

Migratie en de multiculturele samenleving

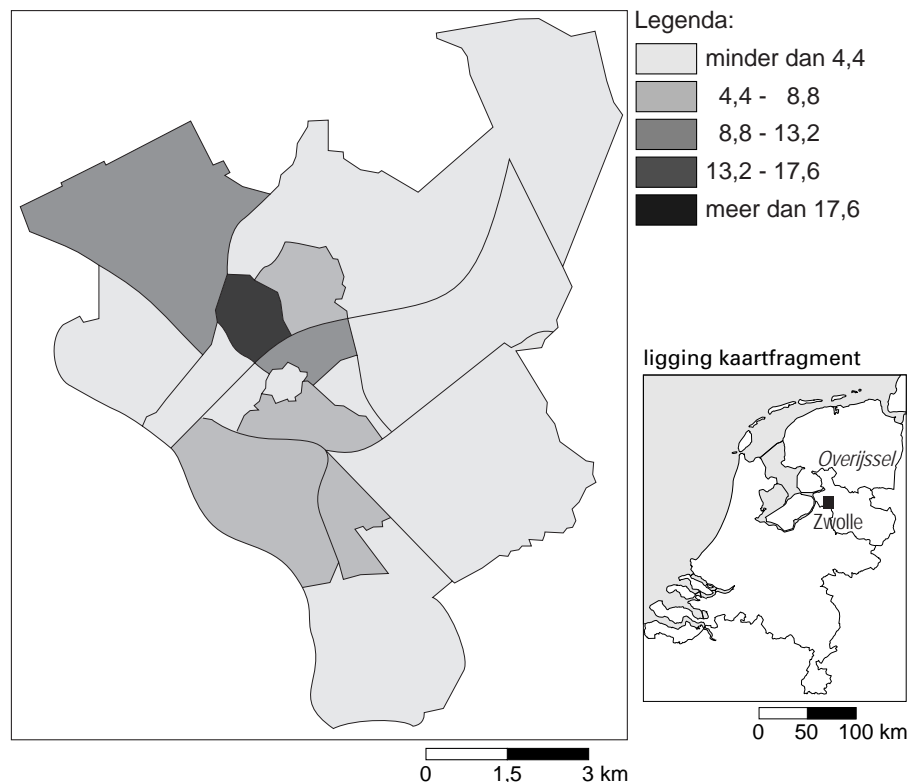
tabel 1

Vergelijking van het percentage allochtonen in Zwolle met het percentage allochtonen in de vier grote steden

	Zwolle	de vier grote steden
percentage allochtonen	15	A
hoogste concentratie allochtonen in een wijk (in %)	21,6	B

kaart 1

Spreading van de allochtonen in Zwolle



- 1p 1 Uit het onderzoek van Linda blijkt dat op 1 januari 2004 van de Zwolse inwoners 15% allochtoon was. De hoogste concentratie allochtonen in een wijk was 21,6% (zie tabel 1).


Yasmine, Sanne, Elvira en Youssef vergelijken deze cijfers met de gegevens over allochtonen in de vier grote steden in Nederland (in de tabel aangegeven met A en B).

Welke leerling heeft gelijk?

- A Yasmine zegt: "A moet lager zijn dan 15% en B moet lager zijn dan 21,6%."
- B Sanne zegt: "A moet hoger zijn dan 15% en B moet lager zijn dan 21,6%."
- C Elvira zegt: "A moet lager zijn dan 15% en B moet hoger zijn dan 21,6%."
- D Youssef zegt: "A moet hoger zijn dan 15% en B moet hoger zijn dan 21,6%."

foto's 1 en 2

Huisjesmelkerij een steeds groter probleem



tekst 1

Huisjesmelkerij een steeds groter probleem

Huisjesmelkerij is een groot probleem in de vier grote steden van ons land. In Den Haag gaat het vooral om huisbazen die illegalen en tijdelijke arbeidskrachten uit Oost-Europa op grote schaal in oude panden onder brengen.

Op foto 1 is te zien dat een woning is gesloten in verband met de brandveiligheid. Op foto 2 is de woonkamer van een aantal illegalen te zien.

- 2p 2 De foto's 1 en 2 zijn genomen van een woonhuis in Den Haag dat gesloten werd omdat een huisjesmelker er te veel huurders had ondergebracht. Huisjesmelkerij leidt tot verpaupering van huizen en hele buurten.
- Noem twee redenen waarom de huurders van deze huizen niet of nauwelijks zullen protesteren tegen de mensonwaardige omstandigheden waarin ze moeten wonen.
- 1p 3 De titel bij de foto's 1 en 2 wijst erop dat het probleem van de huisjesmelkerij zich uitbreidt.
- Leg uit hoe dit probleem zich verder kan uitbreiden.

tekst 2

De veranderde Nederlandse samenleving

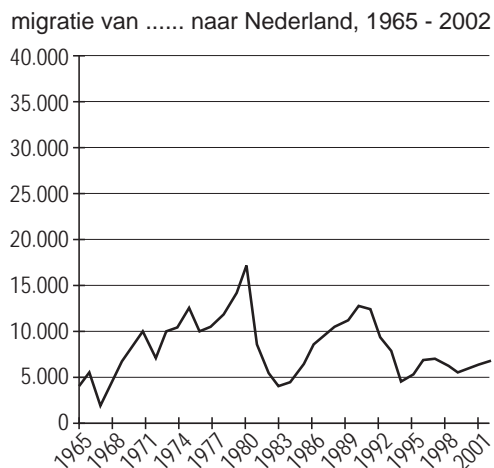
De Nederlandse samenleving ziet er niet meer zo uit als vijftig jaar geleden. Onder invloed van verschillende maatschappelijke ontwikkelingen, zoals dekolonisatie en grootschalige migratie, is onze samenleving veranderd. Allochtonen hebben een belangrijke plek in onze samenleving ingenomen.

- 2p 4 De migrantengroepen worden allochtonen genoemd. Deze hebben een aantal kenmerken.
Mogelijke kenmerken zijn:
- 1 Allochtonen nemen in het algemeen vaker een zwakkere sociaal-economische positie in.
 - 2 In Nederland wonende Duitsers behoren tot de groep niet-westerse allochtonen.
 - 3 Allochtonen komen vooral uit Afrikaanse landen.
 - 4 Allochtonen zijn personen die in een ander land zijn geboren en hier wonen en de kinderen van deze personen.
- Twee van deze kenmerken horen bij het begrip allochtonen.
→ Noteer de cijfers van deze twee kenmerken op het antwoordblad.
- 1p 5 Eén van de gevolgen van de in tekst 2 genoemde dekolonisatie was de komst van een groep migranten in Nederland rond 1951. Deze groep werd in het begin in aparte barakkenkampen opgevangen.
→ Wat was het herkomstland van deze groep migranten?
- 1p 6 Volgens tekst 2 is de samenstelling van de Nederlandse bevolking de laatste vijftig jaar veranderd.
Zo zijn bijvoorbeeld scholen steeds vaker gemengd als gevolg van de multiculturele samenleving.
Intussen zijn er echter naast witte scholen ook duidelijk zwarte scholen ontstaan.
Het naast elkaar bestaan van witte en zwarte scholen is een voorbeeld van
- A segregatie.
 - B inburgering.
 - C integratie.
 - D discriminatie.

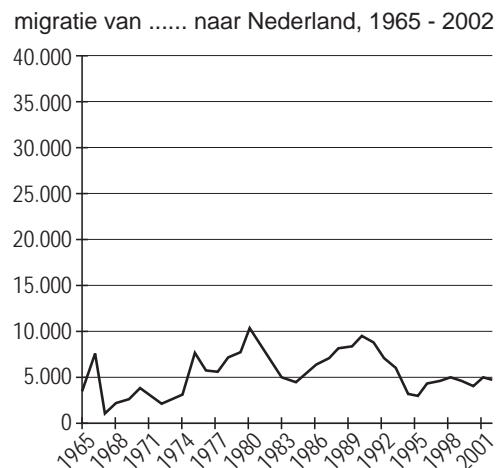
grafieken 1, 2, 3 en 4

Migratie van een aantal migrantengroepen naar Nederland 1965 - 2002

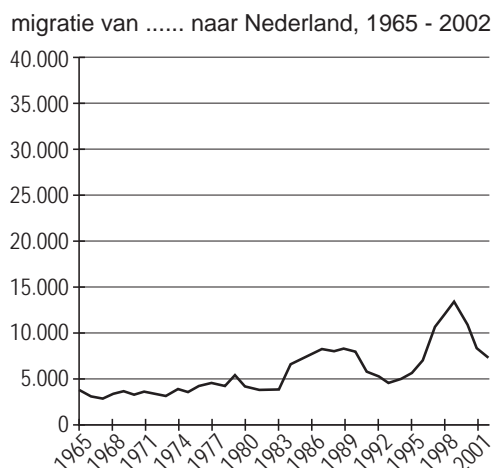
grafiek 1



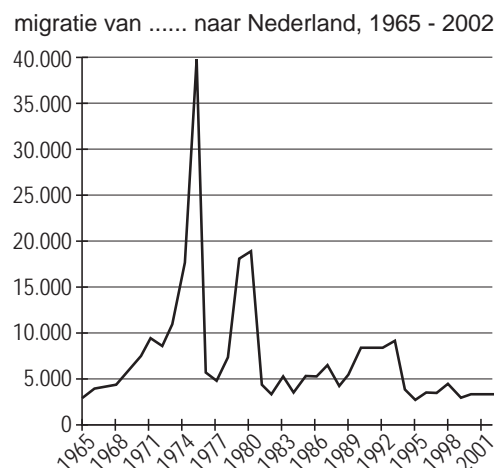
grafiek 2



grafiek 3



grafiek 4



- 1p 7 Voorbeelden van de grootschalige migratie, zoals in tekst 2 genoemd, worden afgebeeld in de grafieken 1, 2, 3 en 4. Deze grafieken tonen in willekeurige volgorde de ontwikkeling van de migratie naar Nederland van Turken, Marokkanen, Surinamers, Antillianen en Arubanen. Welke grafiek stelt de migratie voor van Surinamers naar Nederland?
- A grafiek 1
 - B grafiek 2
 - C grafiek 3
 - D grafiek 4

tekst 3

Drie basisscholen in de Bijlmer gaan samenwerken

De islamitische basisschool As Soeffah in de Bijlmer (Amsterdam) gaat samen met de openbare basisschool De Bijlmerhorst en de levensbeschouwelijke basisschool de Polsstok. Vanaf oktober 2006 zullen de drie basisscholen gehuisvest zijn in één gebouw. Het is voor het eerst in Nederland dat een islamitische basisschool samenwerkt met andere basisscholen.

Het overgrote deel van de leerlingen van de drie basisscholen komt uit een ... 1 ... milieu. In de buurt is er voor deze kinderen weinig aan ... 2 Met de samenwerking wordt voor adjunct-directeur Blijleven van De Polsstok een droom werkelijkheid: "Iedereen heeft de mond vol van ... 3 ..., tegelijkertijd zijn velen bang voor islamitische basisscholen. Deze samenwerking moet alle barrières wegnemen."

- 1p **8** Naast bijvoorbeeld openbare, katholieke en protestants-christelijke basisscholen komen er tegenwoordig ook vaker islamitische basisscholen voor. Dat er echter niet altijd sprake hoeft te zijn van duidelijk gescheiden basisscholen op grond van levensbeschouwing, blijkt onder andere uit tekst 3. De tekst is echter niet volledig. Wat moet worden ingevuld bij respectievelijk 1, 2 en 3?

	1	2	3
A	kansarm	voorzieningen	integratie
B	kansarm	inburgering	integratie
C	kansrijk	inburgering	segregatie
D	kansrijk	voorzieningen	segregatie

tabel 2
Leeftijdsopbouw van bevolkingsgroepen naar herkomstlanden in procenten, 1 januari 2005

	0 t/m 19 jaar	20 t/m 64 jaar	65 jaar of ouder	gemiddelde leeftijd
P	38,3	58,9	2,8	27,4
Marokkanen	42,2	54,9	2,9	26,0
Q	31,6	63,9	4,5	31,7
Antillianen en Arubanen	36,4	61,2	2,4	28,2
Afghanen	44,0	54,0	2,0	25,6
Iraniërs	29,2	68,5	2,3	31,1
R	46,8	52,3	0,9	22,6
overig niet-westers	37,4	60,7	1,9	27,1
totaal niet-westers	37,4	59,8	2,8	27,9
autochtonen	23,5	61,1	15,4	40,1
totaal	24,5	61,5	14,0	39,0

- 2p **9** Tabel 2 heeft betrekking op de leeftijdsopbouw naar herkomstland per 1 januari 2005. In de tabel zijn drie herkomstlanden vervangen door letters.
 → Neem de letters P, Q en R over op het antwoordblad en schrijf er de juiste bevolkingsgroep achter. Kies daarbij uit Surinamers, Turken en Somaliërs.
- 1p **10** Wat is de invloed van al die migranten op de gemiddelde leeftijd voor de totale bevolking van Nederland?
 De gemiddelde leeftijd is
A hoger geworden.
B lager geworden.
C gelijk gebleven.

tabel 3

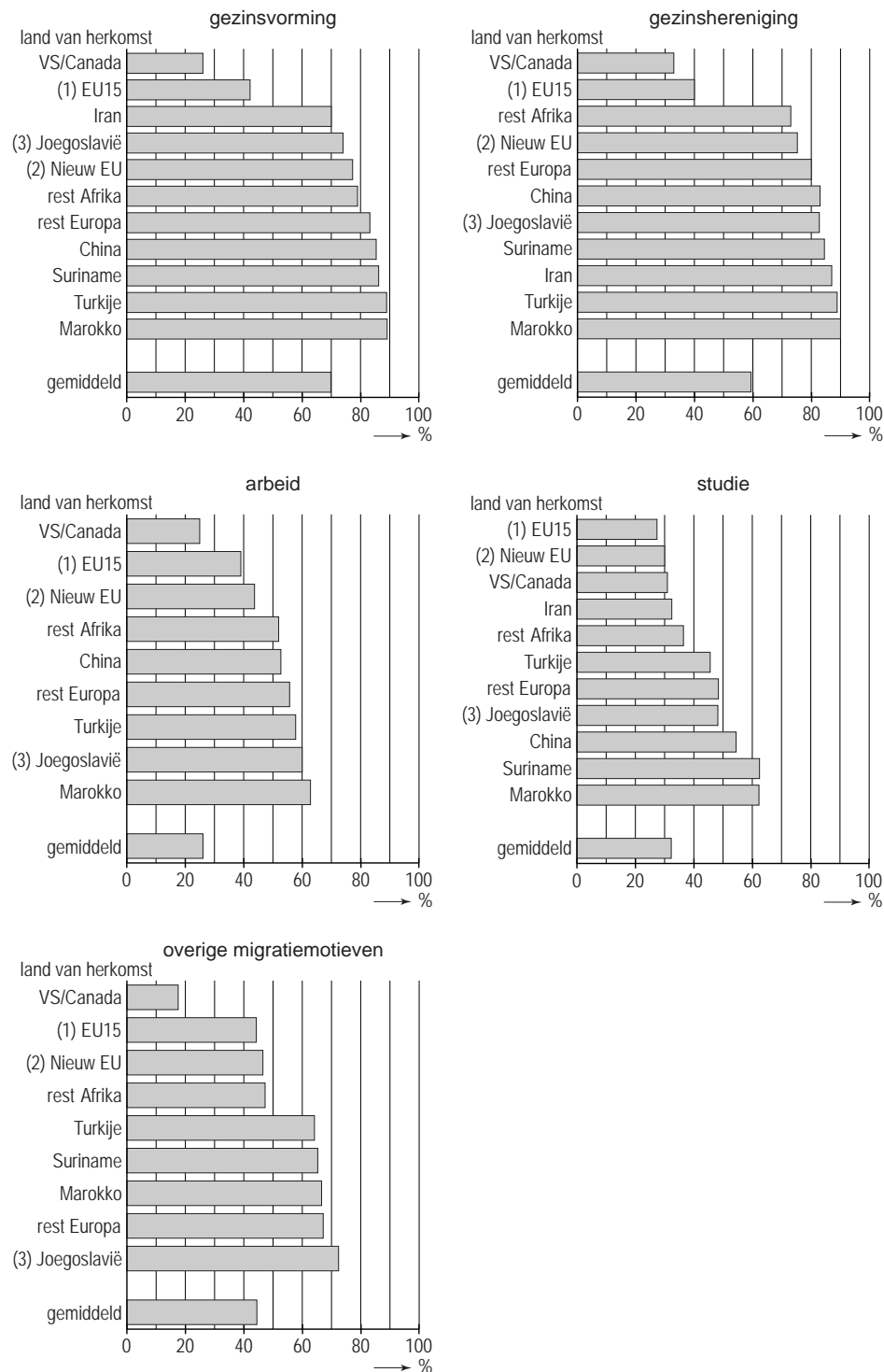
Enkele cijfers over ontwikkelingen in aantallen migranten naar herkomstland en autochtonen, 1996 - 2005

herkomstland	aantal personen per 1 januari 1996	aantal personen per 1 januari 2005	toename in procenten tussen 1996 - 2005
Afghanistan	4.900	37.000	653
Angola	2.600	11.600	347
Brazilië	6.600	12.300	87
China	25.500	43.900	87
Egypte	11.600	18.500	60
Ethiopië	8.000	10.300	29
Filippijnen	7.800	13.000	68
Ghana	12.500	19.100	53
Hongkong	17.200	18.100	6
Irak	11.100	43.700	288
Iran	16.500	28.700	74
Kaapverdië	16.700	20.000	20
Marokko	215.100	315.800	40
Ned. Antillen + Aruba	96.800	130.500	50
Pakistan	14.100	17.900	27
Somalië	20.000	21.700	8
Suriname	280.600	329.400	17
Thailand	5.600	12.400	122
Turkije	271.500	358.800	32
Vietnam	14.900	18.000	39
niet-westers totaal	1.171.100	1.699.000	45
westers totaal (zonder autochtonen)	1.327.600	1.423.700	7
autochtonen	12.995.200	13.182.800	1

- 1p 11 Uit tabel 3 blijkt dat de aantallen migranten in ons land, uitgesplitst naar herkomstland, allemaal in aantal zijn toegenomen.
De grootste toename in procenten sinds 1 januari 1996 zien we bij
- A de economische vluchtelingen.
 - B de groepen uit de vroegere Nederlandse koloniën.
 - C de groepen uit landen van buitenlandse werknemers.
 - D de politieke vluchtelingen.

- 1p **12** Hieronder staan twee uitspraken naar aanleiding van tabel 3.
- 1 In de periode 1980 - 1990 kwamen er alleen maar mensen uit westerse herkomstlanden naar Nederland.
 - 2 Het belangrijkste motief om in de periode 1996 - 2005 naar Nederland te komen, was de gezinshereniging.
- Neem de cijfers 1 en 2 over op het antwoordblad en zet erachter of deze uitspraak juist is of onjuist.

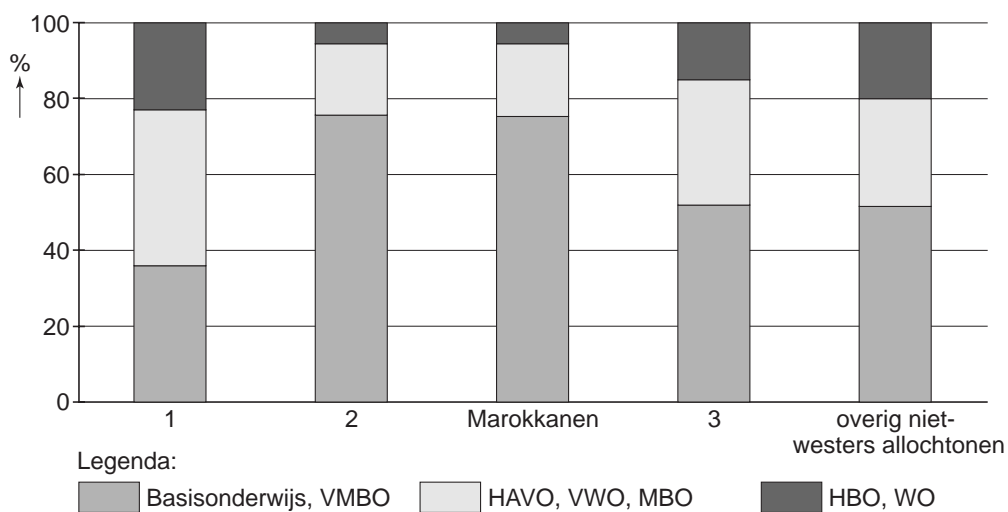
figuur 1
Kans om te mogen blijven, ingedeeld naar land van herkomst en migratiemotief, 2004



- 1) Dit zijn de eerste 15-EU-landen.
- 2) Nieuw EU: dit zijn alleen de 10 nieuwe lidstaten die in 2005 zijn toetreden.
- 3) Bedoeld zijn de landen die voorheen de federatie Joegoslavië vormden.

- 1p **13** Uit figuur 1 blijkt dat de kans dat een immigrant voorgoed in Nederland mag blijven, sterk verschilt per migratiemotief.
Bij welke groep is de kans om te mogen blijven gemiddeld het kleinst als je kijkt naar het migratiemotief?
- A** bij de arbeidsmigranten
 - B** bij de gezinsherenigers
 - C** bij de studenten
 - D** bij huwelijksmigranten
- 2p **14** Hieronder staan twee uitspraken over figuur 1.
- 1 De kans dat migranten die vanwege gezinshereniging naar Nederland komen om in Nederland te mogen blijven is gemiddeld meer dan 70%.
 - 2 De kans dat de Marokkaanse immigranten zich hier blijvend mogen vestigen is bij alle diagrammen het hoogst.
- Neem de cijfers 1 en 2 over op het antwoordblad en zet erachter of deze uitspraak juist is of onjuist.

diagram 1
Het onderwijsniveau van de bevolking van 15 - 64 jaar bij verschillende bevolkingsgroepen, 2000 - 2002



1p **15** Bovenstaand diagram geeft een overzicht van het onderwijsniveau van de bevolking van 15 - 64 jaar bij verschillende bevolkingsgroepen in de periode 2000 - 2002.
 In het diagram zijn de namen van drie bevolkingsgroepen weggelaten.
 Welke bevolkingsgroep moet er op de plaatsen 1, 2 en 3 worden ingevuld?

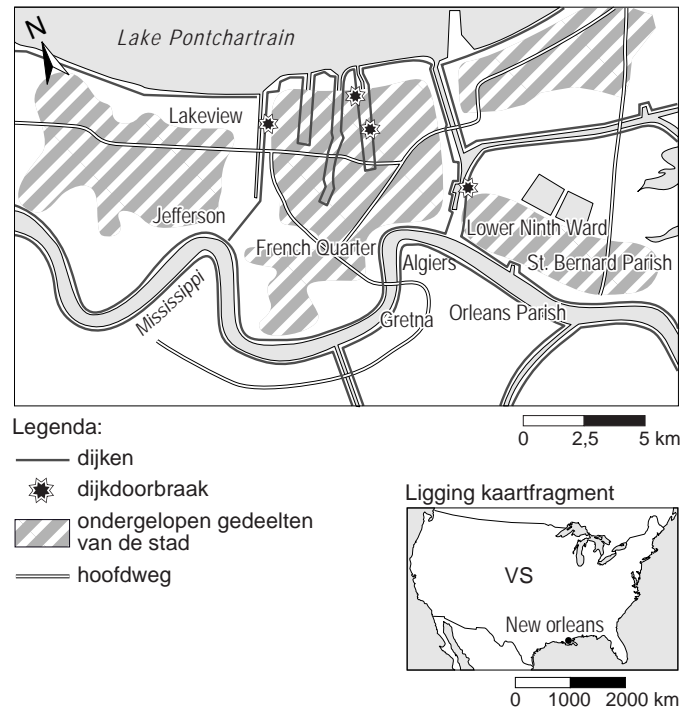
	1	2	3
A	autochtonen	Surinamers en Antillianen	Turken
B	autochtonen	Turken	Surinamers en Antillianen
C	Surinamers en Antillianen	Turken	autochtonen
D	Surinamers en Antillianen	autochtonen	Turken
E	Turken	Surinamers en Antillianen	autochtonen
F	Turken	autochtonen	Surinamers en Antillianen

- 1p **16** Veel asielzoekers doen een aanvraag in meer dan één land (dubbele asielaanvraag).
Asielzoekers doen dit omdat ze denken zo hun kans op een verblijfsvergunning te vergroten.
In verband met het streven van de EU naar één Europees asielbeleid gaat deze redenering echter niet op.
Welke maatregel heeft de EU gemaakt voor een dubbele asielaanvraag?
- A** Wie een dubbele asielaanvraag indient, gaat terug naar het land van herkomst.
 - B** Wie een dubbele asielaanvraag indient, gaat terug naar het land waar het eerst om asiel is gevraagd.
 - C** Wie een dubbele asielaanvraag indient, krijgt in géén van de betreffende landen meer asiel.
 - D** Wie een dubbele asielaanvraag indient, verliest het asielrecht.

foto 3
Katrina zet New Orleans onder water



kaart 2
Ondergelopen delen van New Orleans



tekst 4
Katrina zet New Orleans onder water

Eind augustus 2005 zette orkaan Katrina de straten van New Orleans compleet onder water. Blanke randgemeenten sloten soms letterlijk hun deuren voor de vluchtelingen uit de zwarte stad. Van de inwoners van New Orleans bestond 67% uit Afro-Amerikanen. Discriminatie en racisme kwamen hiermee boven drijven.

tabel 4

Enkele sociaal-economische kenmerken van vier stadsdelen van New Orleans, 2000

	Lakeview	Lower Ninth Ward	French Quarter	St. Bernard Parish
bevolking (%):				
- zwart	0,7	98,3	4,3	7,6
- blank	94,0	0,5	89,7	84,3
wonen (%):				
- eigendom	69,5	59	75,4	74,6
- huren	30,5	41	24,6	25,4
armoede (%):				
- onder de armoedegrens	4,9	36,4	10,8	13,1
- boven de armoedegrens	95,1	63,6	89,2	86,9

- 1p **17** Na de ramp in New Orleans, zoals genoemd in tekst 4, werd door de commissie 'Bring New Orleans Back', het volgende bepaald: "Als duidelijk is dat bewoners niet in staat zijn hun huis, straat of wijk op te bouwen en tot leven te wekken, dan zullen hun huizen worden gesloopt en zal het terrein tot moeras worden omgevormd."
- Welk van de stadsdelen uit tabel 4 loopt het grootste risico om tot moeras te worden omgevormd (zie ook kaart 2)?
- A** French Quarter
B Lakeview
C Lower Ninth Ward
D St. Bernard Parish
- 2p **18** Velen moesten zich na de ramp in New Orleans in andere steden vestigen en zijn daar gebleven. Een half jaar na de ramp was pas een vijfde van de oorspronkelijke 500.000 Afro-Amerikanen teruggekomen. Door veel blanken, maar ook een aantal Afro-Amerikanen, wordt dit als een 'zegen' gezien voor New Orleans.
- Noem eerst een reden waarom veel blanken dit als een 'zegen' zien.
 → Noem vervolgens een reden waarom een aantal Afro-Amerikanen dit eveneens als een 'zegen' zien.

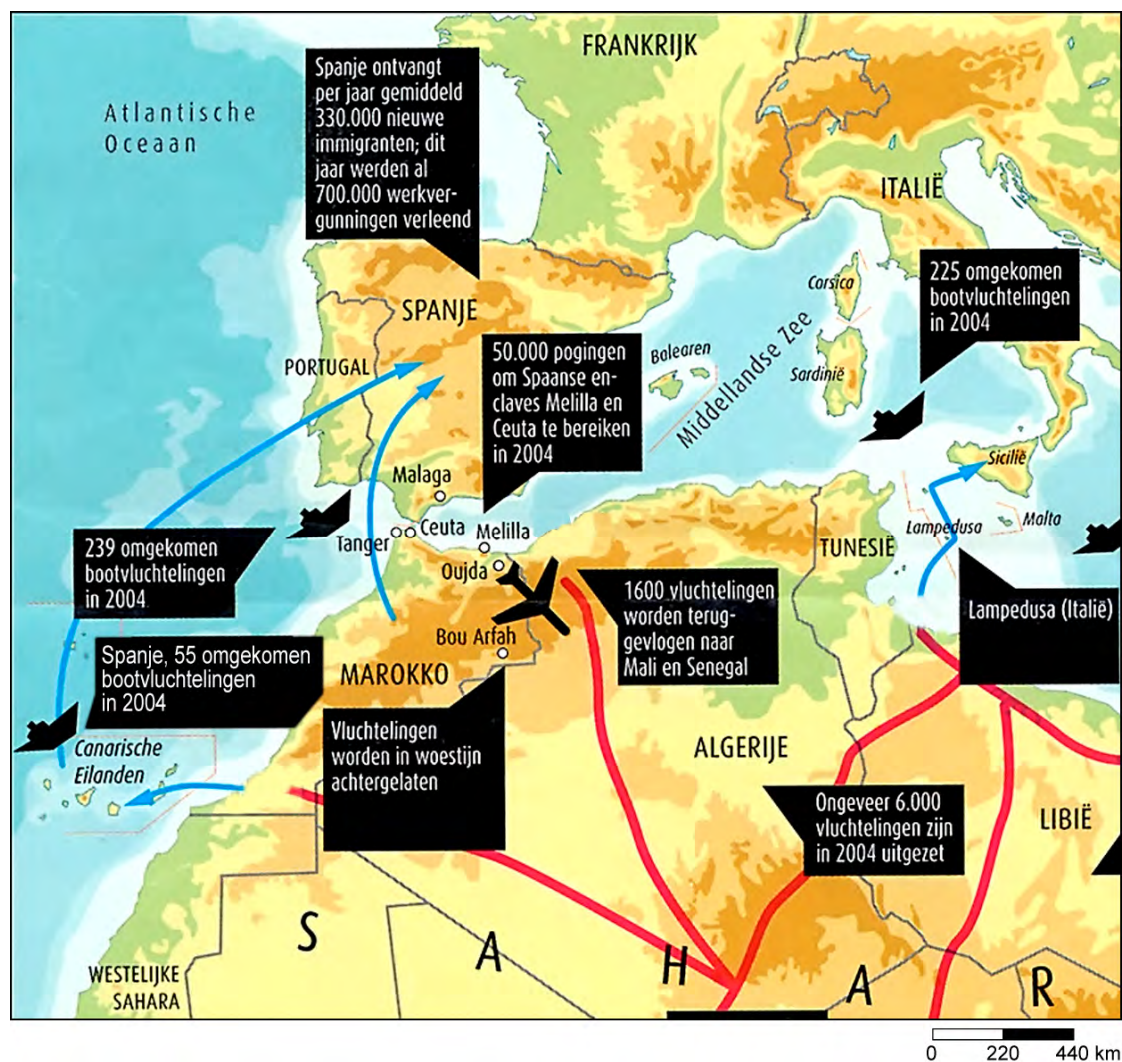
tekst 5

Hoe meer vluchtelingen, hoe hoger de hekken

Terwijl Fort Europa de buitengrenzen sluit, gaan steeds meer arme Afrikanen op zoek naar een beter bestaan. Ze doen een wanhopige poging door de laatste gaten in de Europese verdedigingslinie te glijpen. Europa reageert met nog meer en nog hogere hekken.

kaart 3

Illegale immigratie van Noord-Afrika naar Europa (2004)



- 1p **19** Tekst 5 verwijst naar een dieptepunt in de strijd van de Europese Unie tegen vluchtelingen uit Afrika in oktober 2004.
Nachten achtereen bestormden honderden Afrikanen de hekken rondom de enclavesteden Ceuta en Melilla (Spaans grondgebied in Marokko).
De Europese Unie probeert deze vluchtelingen hoe dan ook te weren, met het argument dat het asielrecht niet geldt voor de meeste van deze vluchtelingen.
→ Noem de reden waarom het asielrecht niet geldt voor de meeste van deze vluchtelingen.
- 2p **20** Geef met behulp van kaart 3 twee redenen waarom van de EU-landen met name Spanje en Italië zo populair zijn bij de Afrikaanse vluchtelingen.

tekst 6

Nederlandse ministers willen Afrikanen in Afrika houden

Twee Nederlandse ministers bezochten in januari 2006 een vluchtelingenkamp in Kakuma in Kenia.

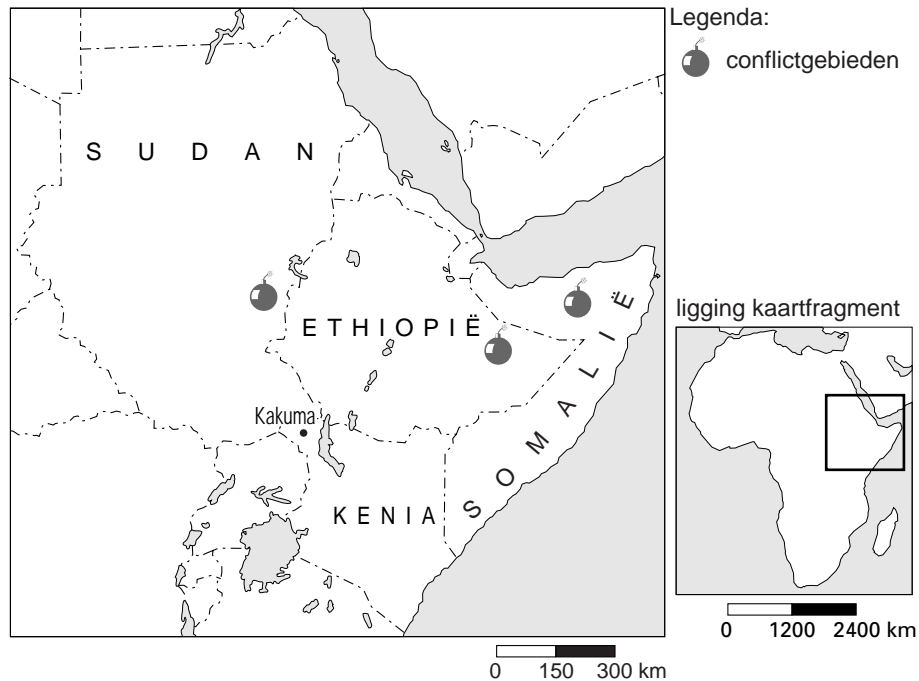
De gevluchte Afrikanen kregen van de ministers te horen dat ze beter naar hun eigen land kunnen terugkeren.

De Somaliërs, Ethiopiërs en vooral Sudanesezen in Kakuma hoorden hen met stijgende verbazing aan. (...)

Door te wijzen op de risico's tijdens de vlucht hopen de bewindslieden duidelijk te maken dat Europa niet eenvoudig te bereiken is. (...)

kaart 4

Deel van Afrika



- 1p **21** Ook Nederland probeert Afrikaanse vluchtelingen te weren.
Dit bleek onder andere bij het bezoek van twee Nederlandse ministers aan een vluchtelingenkamp in Kenia in januari 2006 (zie tekst 6).
Het vluchtelingenkamp in Kenia is een voorbeeld van
- A** opvang van vluchtelingen in het eigen land.
 - B** opvang van vluchtelingen in de regio.
 - C** opvang van vluchtelingen die allemaal naar Europa willen.
 - D** opvang van vluchtelingen die allemaal terug moeten naar hun eigen land.
- 1p **22** Uit tekst 6 blijkt dat de vluchtelingen in Kakuma met stijgende verbazing luisteren naar de boodschap van de Nederlandse ministers.
→ Verklaar deze stijgende verbazing van de vluchtelingen in Kakuma.
- 1p **23** In tekst 6 wordt gezegd dat de Nederlandse ministers de vluchtelingen duidelijk proberen te maken dat Europa niet eenvoudig te bereiken is.
→ Geef aan de hand van kaart 3 een voorbeeld waaruit blijkt dat vluchtelingen onderweg veel risico lopen.